

备考港澳台联考 地理绝密资料

港澳台联招必考试题-----区域地理 1-10

编写：北京博飞华侨港澳台学校

区域地理 1

一、单选题

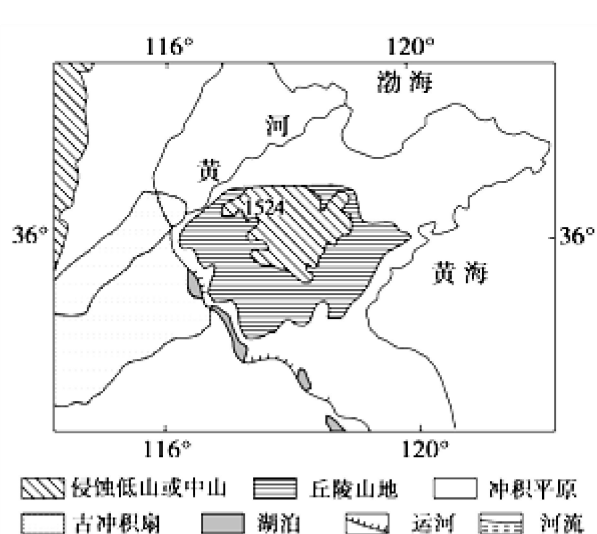
1. 读我国某地区示意图，回答下列各题。

(1). 图示地区发展农业生产的主要限制性因素有 ①旱涝 ②台风 ③凌汛 ④风沙 ⑤寒潮 ⑥盐碱化 ⑦缺水 ⑧低温

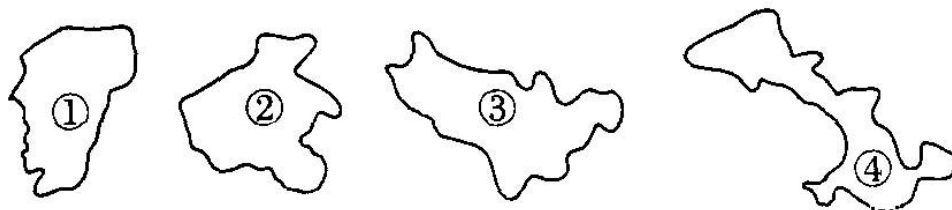
- A. ①②③④ B. ①④⑥⑦
C. ③④⑤⑦ D. ②③④⑧

(2). 适宜在图示平原地区大面积种植的农作物有

- A. 水稻、油菜、茶叶
B. 春小麦、亚麻、甜菜
C. 棉花、玉米、甘蔗
D. 冬小麦、棉花、花生



2. 读我国四省区轮廓图，完成下列各题。



(1). 省内有著名的“雾凇”气象奇观的是 ()

- A. ① B. ② C. ③ D. ④

(2). 省内有陇海——兰新铁路通过的是 ()

- A. ①② B. ②③ C. ③④ D. ②④

3. 东部季风区地域辽阔，南北跨度大，自然环境和人类活动存在很大差异。据此完成 1~3 题。

(1). 秦岭—淮河一线是我国一条重要的地理分界线，有关这条分界线南北自然景观差异的叙述，正确的是 ()

- A. 秦岭—淮河以北耕地以旱地为主，主要粮食作物是春小麦
B. 秦岭—淮河以南耕地以水田为主，主要油料作物是油菜
C. 秦岭—淮河以北的典型植被是亚寒带针叶林
D. 秦岭—淮河以南的植被主要是热带季雨林



- (2). 我国东部季风区秦岭—淮河一线以南地区一年两熟或三熟的耕作制度的形成条件是()
- A. 生长期长, 雨热同期 B. 平原广大, 适于机耕
C. 土壤比较肥沃 D. 冬季风不能到达
- (3). 秦岭—淮河一线是我国()
- A. 冬小麦与春小麦主产区的界线 B. 农区畜牧业与牧区畜牧业分布的界线
C. 棉花主产区与非主产区的界线 D. 亚热带常绿阔叶林带与暖温带落叶阔叶林带的界线

北京博飞 www.pkuzyw.com

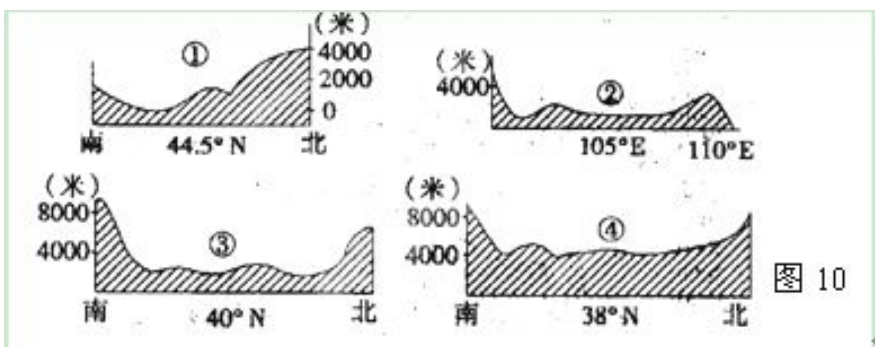
4. 读“我国四大盆地地形剖面图”，完成下列各题。

(1). 图中序号所代表的盆地与其所在省简称的排序一致的是 ()

- A. 新 川 新 青
- B. 新 川 藏 青
- C. 甘 川 藏 青
- D. 新 川 新 藏

(2). 关于四大盆地位置的判断正确的是 ()

- A. 都位于我国地势的第二级阶梯上
- B. 盆地②的位置位于最东南
- C. 盆地①、③都位于暖温带
- D. 盆地④位于季风区



5. 读“世界两条大河的三角洲略图”，完成下列各题。

(1). 关于甲、乙两个三角洲自然地理状况的叙述，正确的是 ()

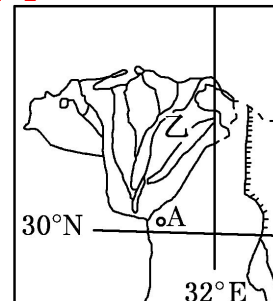
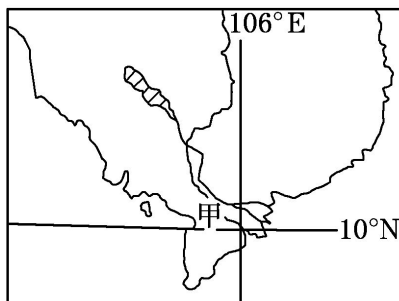
- A. 两地区全年盛行西南风
- B. 两地区气候形成原因相同
- C. 两地区的主要河流水量丰富
- D. 两地区以流水堆积地貌为主

(2). 两三角洲所在地区的叙述，正确的是 ()

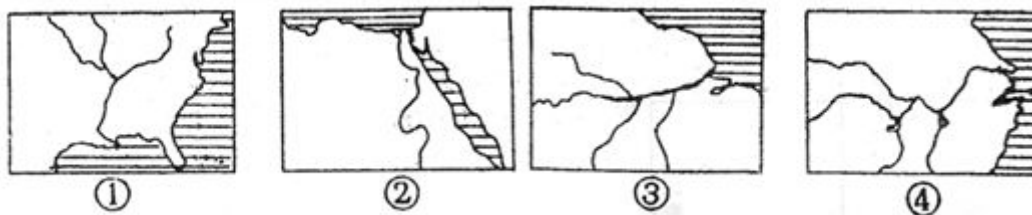
- A. 甲地多洪涝灾害
- B. 甲地农作物以小麦为主
- C. 乙地为季风气候
- D. 乙地居民多为黑色人种

(3). 如果城市 A 利用当地原料发展工业，最适宜的工业部门是 ()

- A. 麻纺织工业
- B. 棉纺织工业
- C. 蔗糖加工业
- D. 电子工业



6. 与下图中河流名称排序相符的是 ()



- A. ①密西西比河、②尼罗河、③长江、④亚马逊河
- B. ①亚马逊河、②尼罗河、③密西西比河、④长江
- C. ①密西西比河、②尼罗河、③亚马逊河、④长江
- D. ①亚马逊河、②尼罗河、③长江、④密西西比河

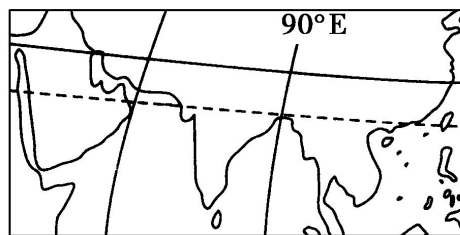
7. 亚洲某地，位于 45°E 、 20°N 。读图回答下列各题。

(1). 该地所属的气候类型是()

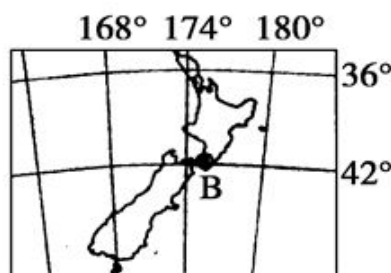
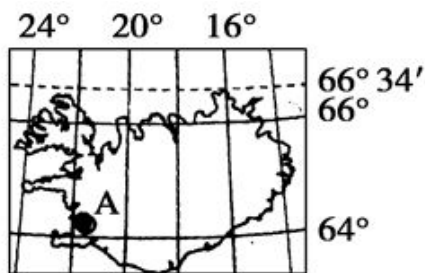
- A. 热带季风气候 B. 热带草原气候
C. 热带沙漠气候 D. 热带雨林气候

(2). 该地所属国家在国际贸易中出口的主要产品之一是()

- A. 茶叶 B. 石油 C. 锡矿 D. 咖啡



8. 读“两个岛国示意图”，回答下列各题。



(1). 有关两个国家叙述正确的是()

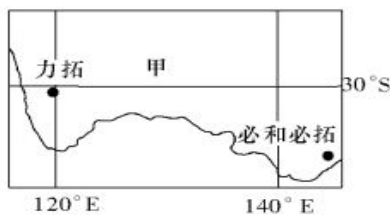
- ①两国均为发达国家 ②两国均位于板块生长边界处，多火山、地热和温泉等 ③两国气候深受海洋的影响，均有温带海洋性气候分布 ④首都 B 属地球五带中的南温带 ⑤A 地所在国全部位于东半球和北半球
A. ①③④ B. ①②③ C. ②③④ D. ②④⑤

(2). 当 B 城日出时间为 7:40 (为该国的国家时间) 时，下列说法正确的是()

- A. 尼罗河河水上涨
B. 北印度洋海区洋流为逆时针方向流动
C. 北美中部平原来自于北冰洋的寒冷气流频繁南下
D. 地中海的盐度处在一年中最低的季节

9. 世界三大铁矿石巨头 (即下图甲国的必和必拓公司、力拓集团和乙国的淡水河谷公司) 控制着全球大部分的铁矿石资源，以他们为代表的铁矿石供应商，每年都要与以中国宝钢集团、日本新日铁和欧盟钢厂为代表的铁矿石需求方进行谈判，来判定下一年度双方交易的铁矿石价格。

读下图，回答 下列各题。



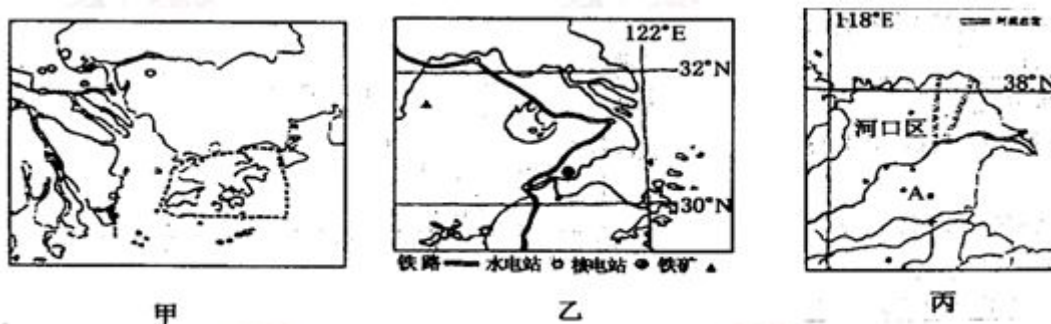
(1). 下列叙述正确的是

- A. 淡水河谷公司距中国上海宝山钢铁厂最近
B. 必和必拓公司位于淡水河谷公司的东南方
C. 甲国目前正处在城市化加速发展阶段
D. 对森林是保护还是开发为乙国面临的两难选择

(2). 有关甲、乙两国的叙述，正确的是

- A. 甲国最主要的农业地域类型是大牧场放牧业
B. 甲国除大量出口铁矿石外，还大量出口羊毛和玉米
C. 乙国人口分布极不均衡且人口高度集中于少数大城市
D. 乙国有著名的潘帕斯草原，畜牧业特别发达

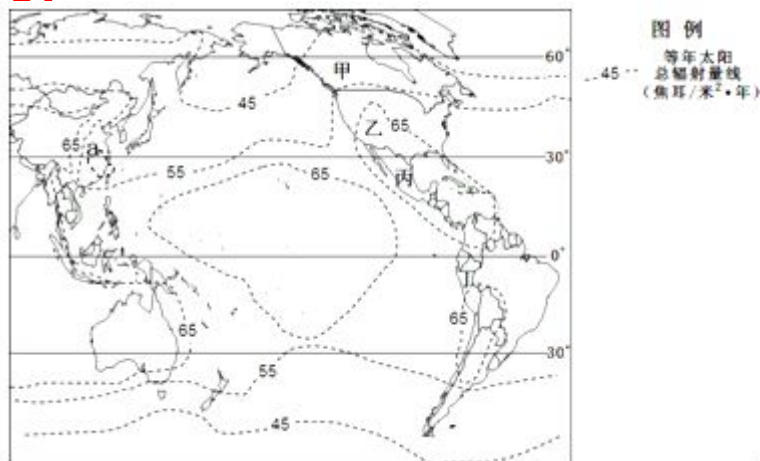
10. 三角洲地区是我国东部地区工农业发达地区。图甲、乙、丙为我国三大三角洲地区。读图回答下列各题。



- (1). 乙三角洲发展的不利条件 ()
A. 交通不便 B. 矿产短缺 C. 市场狭小 D. 水资源短缺
- (2). 甲三角洲的工业发展主向为 ()
A. 发展重化工基地 B. 面向本地需求, 发展加工工业
C. 发展制造业、轻工业、出口加工、高技术工业 D. 我国能源基地
- (3). 丙三角洲面临的气候灾害为 ()
A. 台风 B. 伏旱 C. 春旱 D. 热带气旋
11. 我国每年总有一些地方发生水旱灾害, 与此相关的因素是: ()
A. 地形复杂 B. 海岸线漫长 C. 夏季风强弱变化 D. 纬度位置

12. 读下图, 回答下列各题。

- (1). 由上图可知, 可知太阳辐射能 ()
A. 存在由低纬向两极递减的规律
B. 大陆较同纬度近海的数值低
C. 主要热带雨林气候区最为丰富
D. 等年辐射总量线 a 的数值为 65
- (2). 太平洋沿岸地带的主要自然灾害是 ()
A. 地震、沙尘暴 B. 地震、风暴潮
C. 台风、洪涝 D. 寒潮、干旱
- (3). 甲、乙、丙、丁四国都属于亚太经合组织 (APEC) 成员, 其中 ()
A. 甲国属于发展中国家
B. 乙国属于拉丁美洲
C. 丙国为东半球国家
D. 丁国海域有大渔场



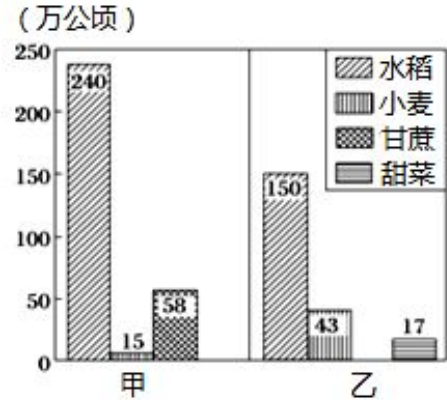
13. 下图是我国甲、乙两个省区农作物的播种面积(万公顷)柱状图, 据此完成下列各题。

(1). 甲、乙两省区分别是

- A. 江苏、内蒙古 B. 湖北、吉林
C. 广西、黑龙江 D. 湖南、新疆

(2). 受粮食品种效益差别的影响, 四大作物持续两年呈现"两增两减"格局, 今年尤为突出, 即水稻、玉米增加, 小麦、大豆减少。乙省区水稻的种植面积已经超过了小麦, 其主要原因是

- A. 市场 B. 土壤 C. 技术 D. 政策



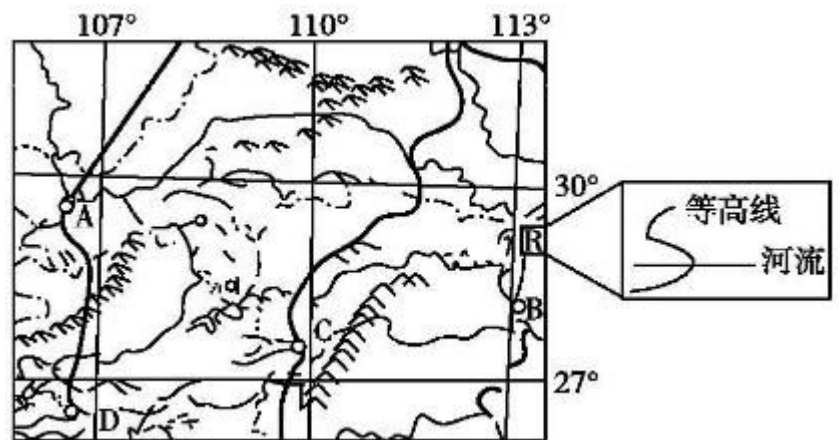
14. 读我国局部图, 据此完成下列各题。

(1). A、D两城市所在的地形区分别是

- A. 四川盆地、云贵高原
B. 青藏高原、云贵高原
C. 青藏高原、横断山区
D. 三峡地区、江南丘陵

(2). 结合R区附近某地的局部图(小图), 判断该河流的流向

- A. 条件不足, 无法判断
B. 自西向东流
C. 自东向西流
D. 可能向东流也可能向西流



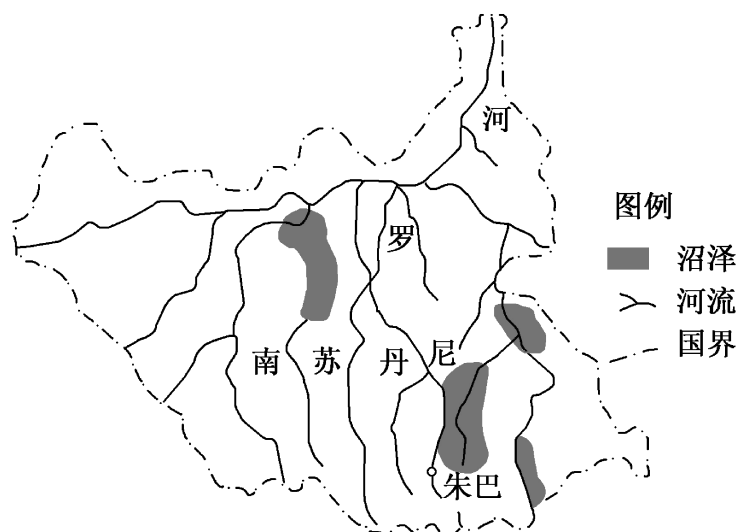
15. 下图为尼罗河流域局部地区水系示意图。据此完成下列各题。

(1). 图示区域多沼泽的主要原因是

- A. 全年多雨, 降水总量大
B. 纬度较高, 气温较低, 蒸发微弱
C. 地处高原内部, 地势平坦, 排水不畅
D. 海拔高, 冻土广布, 地表水不易下渗

(2). 图示区域与尼罗河三角洲气候差异显著, 其主要影响因素是

- A. 人类活动 B. 地形地势
C. 海陆位置 D. 大气环流



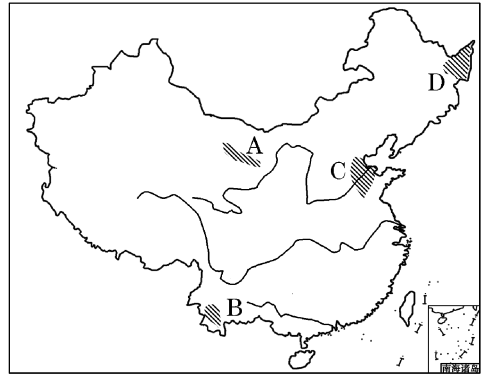


16. 我国地域辽阔，自然环境和社会经济发展的区域差异显著。读下图，据此完成下题。

关于 A、B、C、D 四地农业的叙述，正确的是

- ① B 地位于云贵高原，以畜牧业为主
- ② A、C 两地均是重要的粮棉产区
- ③ C、D 两地位于我国北方地区，糖料作物以甜菜为主
- ④ D 地农业属于商品谷物农业

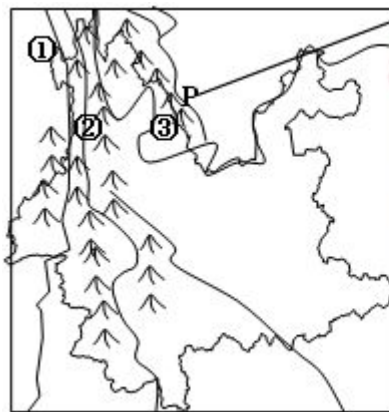
- A. ①②
- B. ②④
- C. ①③
- D. ③④



17. 某学生 2014 年暑期前往右图所示区域旅游考察，据此完成下列各题。

(1). 河流①、②、③依次是

- A. 怒江 澜沧江 金沙江
- B. 澜沧江 金沙江 怒江
- C. 黄河 金沙江 澜沧江
- D. 金沙江 澜沧江 怒江



P 地河谷拍摄的照片

(2). 照片中的景观分布在 P 地河谷的原因，最可能是

- A. 受副热带高压控制，降水少
- B. 背风坡产生焚风效应，气候干旱
- C. 季风气候，降水季节变化大
- D. 纬度较低，蒸发旺盛，气候干旱

18. 2009 年 1 月 27 日，我国在图 1 中的 M 地建立了科学考察站。读右图，据此完成下列各题。

(1). 图中 M 地海拔高达 4087 米，其成因最可能是 ()

- A. 火山作用
- B. 断裂作用
- C. 板块碰撞
- D. 外力作用

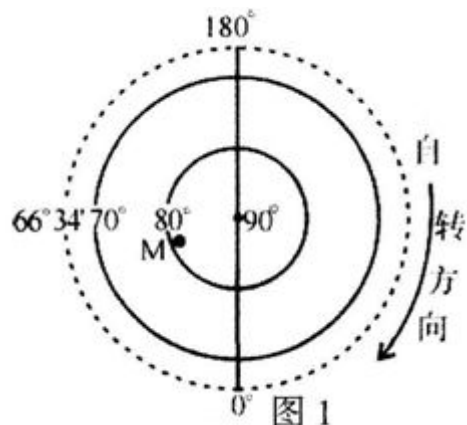
(2). M 地被国际天文界公认为地球上最好的天文台址，

(3). 其最佳的天文观测时期是 ()

- A. 1 月前后
- B. 3 月前后
- C. 7 月前后
- D. 9 月前后

(4). 在 M 地进行天文观测时，北极星在该地 ()

- A. 天顶上空
- B. 地平线之上
- C. 地平线之下
- D. 距地平高度约 100



19. 读下图, 据此完成下列各题。

(1). 对两地自然环境的表述, 正确的是 ()

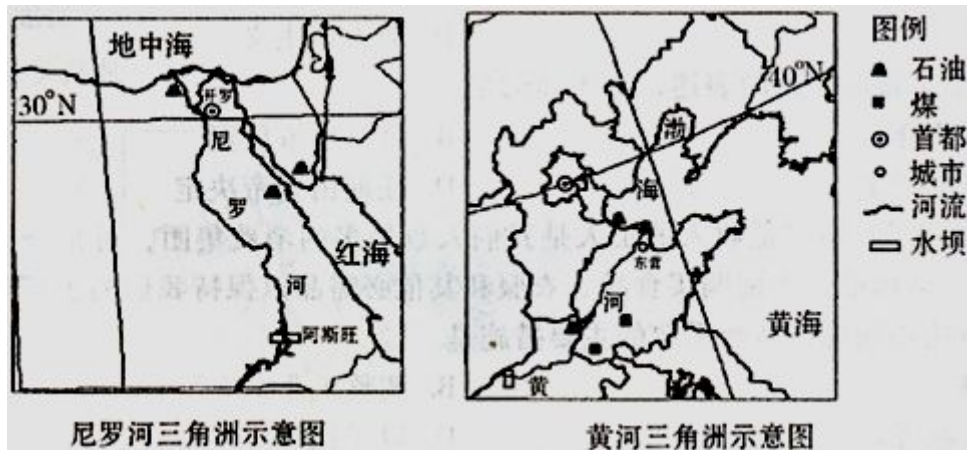
- A. 两地气候类型相同
- B. 两地河流的结冰期相同
- C. 形成两地的外力作用相同
- D. 两地植被景观相同

(2). 对两地社会经济状况的表述, 正确的是 ()

- A. 石油资源丰富
- B. 人口均占本国的 20% 左右, 劳动力丰富
- C. 均大面积种植棉花、水稻等农作物
- D. 中心城市辐射作用相同

(3). 两地生态环境建设的最大制约条件是 ()

- A. 水资源短缺
- B. 气候炎热
- C. 泥石流破坏
- D. 沙尘暴侵袭



20. 读下图, 回答下列小题。

(1). 图中①处发展农业生产的有利因素主要是

- A. 水源
- B. 地形
- C. 光照
- D. 土壤

(2). 图中②④所在地区纬度大致相同, 但地理环境差异显著, 造成这一差异的主要因素是

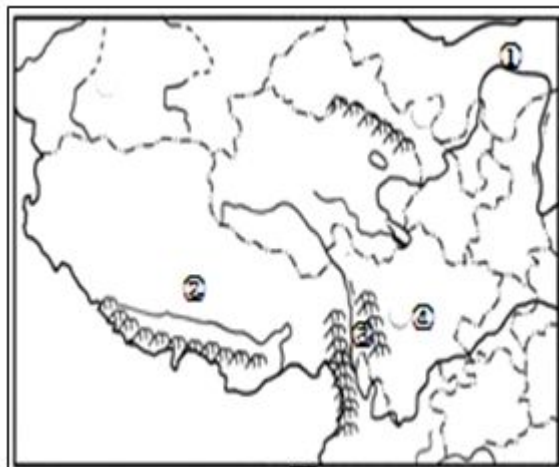
- A. 水源
- B. 海陆位置
- C. 地形
- D. 土壤

(3). 由图中提供的信息, 可以推断②所在的省区, 开发潜力巨大的能源有

- A. 太阳能、水能
- B. 风能、石油
- C. 太阳能、石油
- D. 水能、天然气

(4). 图中③所在林区比东北林区树种更为丰富, 其根本原因是该地

- A. 年降水量大、气温高
- B. 光照和热量条件好
- C. 纬度低、相对高差大
- D. 土壤肥沃、水源充足



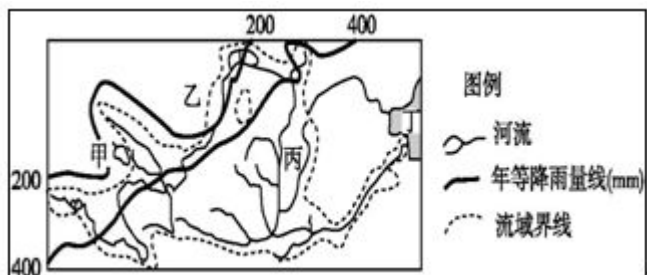
21. 读图回答下列问题。

(1). 图中甲湖泊面积不断缩小, 要及时获取该湖泊面积变化的情况, 最快捷的途径是

- A. 利用 RS 技术
- B. 利用 GPS 技术
- C. 利用 GIS 技术
- D. 实地考察

(2). 图中乙、丙、丁三地最主要的环境问题分别是

- A. 气候干旱、洪涝灾害、生物多样性减少
- B. 酸雨、水土流失、赤潮
- C. 荒漠化、水土流失、海洋污染
- D. 水土流失、荒漠化、泥沙淤积



22. 美国田纳西河流域是国际上小流域综合开发与治理的成功典范，读“美国田纳西河流域图”，据此完成下列各题。

(1). 田纳西河流域

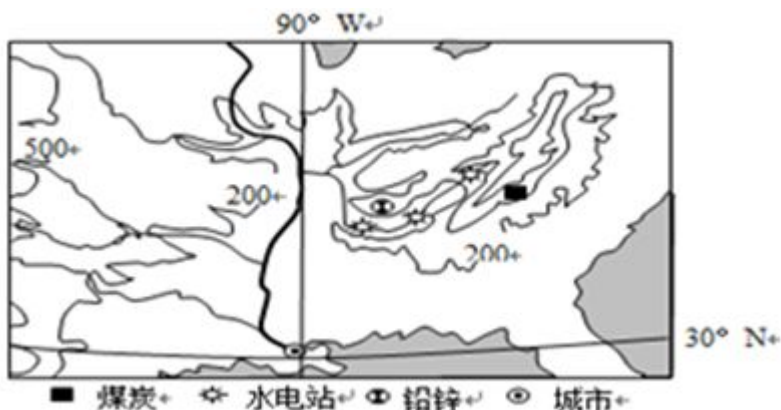
A. 地形以平原为主 B. 水能资源丰富

C. 气候炎热干燥 D. 矿产资源贫乏

(2). 田纳西河流域综合开发的核心是

A. 梯级开发 B. 防洪发电

C. 提高水质 D. 环境建设



23. 下列荒漠化问题与所对应的地区，正确的是

A. 江南丘陵一次生盐渍化

B. 西南喀斯特地区一红漠化

C. 西北干旱地区一沙漠化

D. 黄淮海平原一石漠化

24. 与长江中下游平原农业有关的叙述，正确的是

A. 全国最重要的小麦、玉米产区

B. 粮食种植业精耕细作

C. 与东北平原相比，更利于大型农业机械化操作

D. 人口多，粮食消费量大，长期以来需要从区域外调入粮食

25. 下图中，AC 主要跨越一个国家，BC 地处某一海域，盐度较高，据此完成下列各题。

(1). A 地的气候特征是 ()

A. 终年干旱少雨

B. 最冷月均温小于 0℃

C. 终年高温多雨

D. 具有明显的干湿两季

(2). BC 海域的沿岸 ()

A. 煤炭资源丰富

B. 铁矿资源丰富

C. 石油资源丰富

D. 铀矿资源丰富

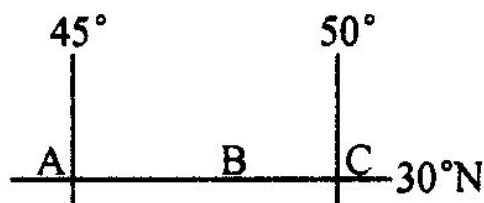
(3). 扼守世界“石油宝库”海运出口的海峡是 ()

A. 英吉利海峡

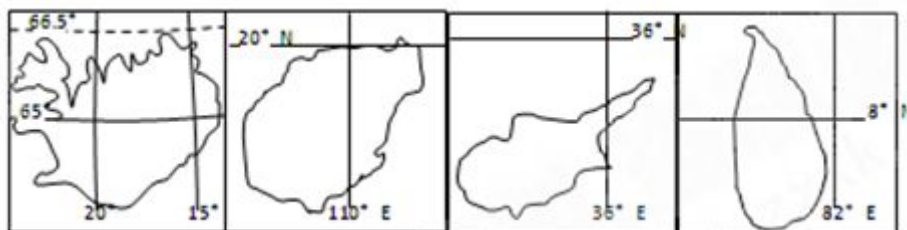
B. 霍尔木兹海峡

C. 马六甲海峡

D. 直布罗陀海峡



26. 下列四组岛屿的名称，与图排序一致的是 ()



A. 冰岛、海南岛、塞浦路斯岛、斯里兰卡岛

B. 塞浦路斯岛、斯里兰卡岛、海南岛、冰岛

C. 冰岛、斯里兰卡岛、塞浦路斯岛、海南岛

D. 海南岛、冰岛、塞浦路斯岛、斯里兰卡岛



27. 关于各洲分界线的正确叙述是：（ ）

- A. 南美洲和南极洲的分界线是麦哲伦海峡
- B. 南美洲和北美洲的分界线是巴拿马运河
- C. 亚洲和非洲的分界线是波斯湾、苏伊士运河
- D. 非洲和欧洲的分界线是直布罗陀海峡、地中海、土耳其海峡


28. 被世界上三个大洋包围的大洲是：（ ）

- A. 欧洲
- B. 非洲
- C. 北美洲
- D. 南美洲

29. 西亚许多国家中畜牧业占重要地位，其气候原因是（ ）

- A. 终年暖湿
- B. 终年干旱少雨
- C. 终年冷湿
- D. 终年湿润多雨

30. 下图是世界某一地区的地形剖面图。据此完成下列各题。



(1). 甲地湖泊的形成原因是（ ）

- A. 冰川刨蚀作用
- B. 断裂下陷形成
- C. 海积作用
- D. 火山作用

(2). 关于乙地的叙述，正确的是（ ）

- A. 居民以黄色人种为主，多信仰伊斯兰教
- B. 社会稳定，经济高度发达
- C. 终年温和多雨，有利于畜牧业发展
- D. 夏季炎热干燥，水资源紧张

(3). 图中城市是世界著名的宗教圣地，其名称是（ ）

- A. 梵蒂冈
- B. 圣地亚哥
- C. 耶路撒冷
- D. 麦加

31. 2001年6月15日，中国、俄罗斯、哈萨克斯坦、塔吉克斯坦、乌兹别克斯坦和吉尔吉斯斯坦共和国等六国聚集上海，在“上海五国”的基础上成立了“上海合作组织”。据此完成下列各题。

(1). 中亚五国中，不与我国接壤但为“上海合作组织”成员国的是（ ）

- A. 塔吉克斯坦
- B. 哈萨克斯坦
- C. 土库曼斯坦
- D. 乌兹别克斯坦

(2). 符合哈萨克斯坦等国所在的中亚地区的是（ ）

- A. 地处西风带，气候湿润
- B. 近年阿姆河与锡尔河水量增多，咸海面积增大
- C. 主要的农产品有棉花、小麦和畜产品
- D. 主要矿产有白金、金刚石等

32. 咸海近年来不断缩小，原因主要是（ ）

- A. 气候干旱，降水越来越少，湖面缩小
- B. 蒸发和灌溉的原因，汇入湖泊的河水日益减少
- C. 河流带来的泥沙淤积，使湖面缩小
- D. 人们大肆围湖造田，扩大耕地，使湖面缩小

33. 阿姆河和锡尔河都是内流河，它们同时流入（ ）



- A. 里海 B. 黑海 C. 巴尔喀什湖 D. 咸海

34. 中亚干旱的温带大陆性气候形成的根本原因是 ()

- A. 降水稀少 B. 植被以草原、荒漠为主
C. 高原沙漠广布 D. 深居亚欧大陆内陆

35. 关于中亚的自然环境, 说法正确的是 ()

- A. 地处北温带, 地势西高东低 B. 图兰平原气候湿润
C. 植被以温带落叶阔叶林为主 D. 境内多内流河、内流湖

36. 有关中亚地理位置的叙述, 正确的是 ()

- ① 中亚地处亚欧大陆中部, 五国全为内陆国
② 古代东西方陆路骆驼商人和“丝绸之路”均经过这里
③ 第二条“亚欧大陆桥”(连云港~鹿特丹)从中亚腹地通过
④ 中亚有 4 国同我国相邻

- A. ①②③ B. ①②④ C. ①③④ D. ②③④

37. 由孟买直线到加尔各答, 其年降水量的变化是 ()

- A. 逐渐减少 B. 先逐渐减少, 后逐渐增加
C. 逐渐增加 D. 先逐渐增加, 后逐渐减少

38. 以技术密集型为主的新兴工业区是 ()

- A. a 工业区 B. b 工业区 C. c 工业区 D. d 工业区

39. 图示农作物分布是指 ()

- A. 小麦 B. 棉花 C. 黄麻 D. 水稻

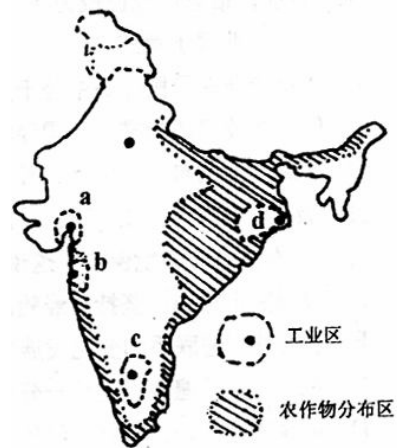
40. 关于印度的叙述, 正确的是 ()

- ① 亚洲面积最大, 耕地最多的国家
② 棉花主要分布在恒河及印度河流域
③ 大部分地区为热带季风气候
④ 发展中国家中工业比较发达的国家

- A. ①③ B. ②④ C. ①④ D. ③④

41. 日本工业集中分布在太平洋沿岸和濑户内海沿岸, 下列工市自西向东排列正确的是 ()

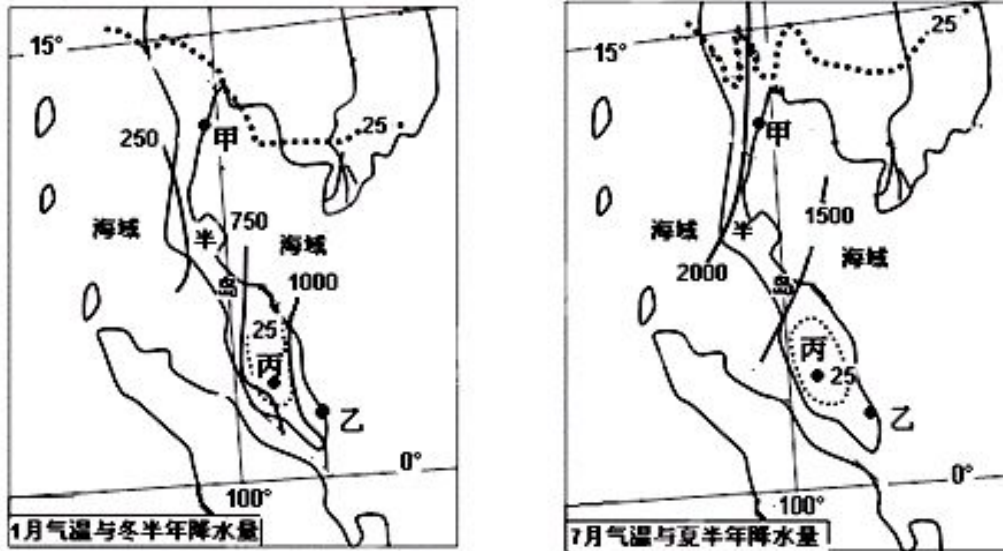
- A. 北九州、神户、名古屋、东京 B. 广岛、长崎、横滨、东
C. 大阪、北九州、东京、名古屋 D. 神户、长崎、名古屋、横滨



业 城
京



42.图2为东南亚某半岛气温(虚线,单位:℃)、降水(实线,单位:毫米)分布图,据此完成下列各题。



(1). 据图判断甲、乙两地

- A. 1月气温差异大 B. 甲地降水量季节变化较大
C. 7月气温差异大 D. 乙地降水量年际变化较大

(2). 与同纬度半岛东西两岸相比,丙地气温特点及其影响的主导因素分别是:

- A. 气温低,海陆因素 B. 气温低,地形因素
C. 气温高,海陆因素 D. 气温高,地形因素

43.西藏拉鲁湿地,是世界稀有的、国内最大的城市湿地。它位于拉萨市的西北角,总面积6.2平方千米,为典型的青藏高原湿地。该湿地的主要植被是沼泽草甸,覆盖率达95%以上。据此完成下列各题。

(1).拉鲁湿地所在的青藏高原能源资源丰富,主要有()

- ①煤 ②石油 ③太阳能 ④水能 ⑤地热能
A.①②③ B.②③④ C.①③⑤ D.③④⑤

(2).拉鲁湿地的作用主要表现在()

- ①是拉萨市氧气的主要补给源 ②增加拉萨市区的空气湿度,提高温度
③吸附空气中尘埃,吸收有毒气体,是拉萨市的空气净化器
④有非常大的蓄洪能力,可有效消除拉萨北部地区的山洪威胁
A.②③④ B.①②③ C.①③④ D.①②③④

(3).拉鲁湿地的发展方向,不可取的是()

- A.通过湿地建设和草种改良,合理发展畜牧业
B.利用湿地的大面积水域发展水产业
C.利用其独特的高原天然湿地风貌和动植物种类,发展旅游业
D.利用湿地优越的自然条件和拉萨市的广阔市场,建立蔬菜、瓜果生产基地



44. 图 15 为某区域图。据此完成下列各题。

- (1). 甲、丙地区分别适宜发展
- A. 种植业、畜牧业 B. 畜牧业、林业
- C. 畜牧业、种植业 D. 种植业、林业
- (2). 当前甲、乙、丁三地主要生态环境问题可能分别是
- A. 湿地破坏、土地荒漠化、森林减少
- B. 土地荒漠化、森林减少、湿地破坏
- C. 森林减少、湿地破坏、土地荒漠化
- D. 湿地破坏、森林减少、土地荒漠化



图 15

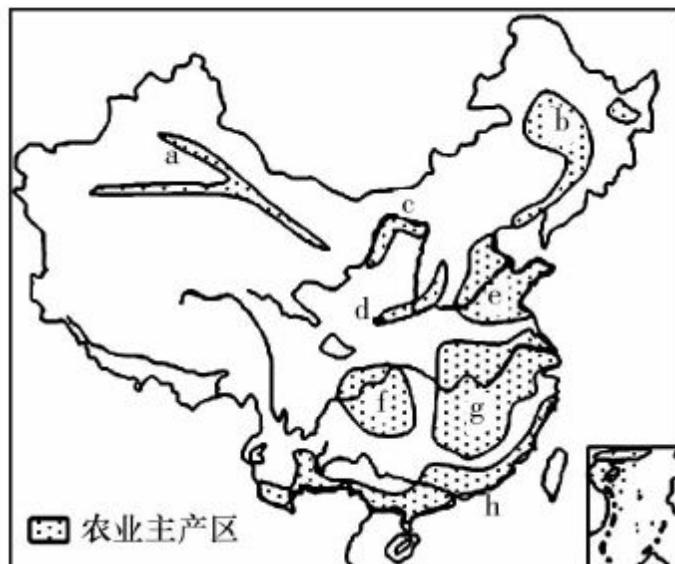
45. 读“我国‘十二五’规划农业主产区战略布局示意图（下图）”，据此完成下列各题。

(1). 对下列各组农业主产区生产优势条件的描述，正确的是

- A. a 土壤肥沃、劳动力丰富
- B. c 光照充足、水源较丰富
- C. c 气候湿润、温差较大
- D. g 地形平坦、雨热同期

(2). 下列农业主产区农业可持续发展措施，正确的是

- A. a 主产区一大力开垦土地发展灌溉农业
- B. c 主产区一控制非农业用地规模
- C. g 主产区一加大科技投入，发展热带经济作物
- D. h 主产区一加大资金投入，全面实行机械化生产



46. 图 9 所示国家人口稠密，经济以传统农牧业为主，森林覆盖率为 29%。据此完成下列各题。

(1). 关于该国自然条件的叙述，正确的

- A. 都是高山地区，没有平原
- B. 属于内陆国，降水稀少 a
- C. 河流众多而湍急
- D. 纬度低，各地最冷月气温都在 0℃ 以上



图 9

(2). 该国面临的主要环境问题有

①水土流失 ②土地荒漠化

③滑坡和泥石流 ④生物多样性减少

A. ①②③ B. ①②④ C. ①③④

D. ②③④

47. 读图 8，据此完成下列各题。

(1). 图示大陆年降水量空间分布特点是

A. 从东南向西北递减

B. 从西南向东北递减

C. 从南、北两端向中部递减

D. 从北、东、南三面向中西部递减

(2). 水汽主要来自印度洋的地点有

A. ①②③ B. ①②④

C. ②④⑤ D. ①③⑤

(3). 形成③和⑤地理环境差异的主要原因是

A. 热量差异

B. 水分差异

C. 地形差异

D 人类活动

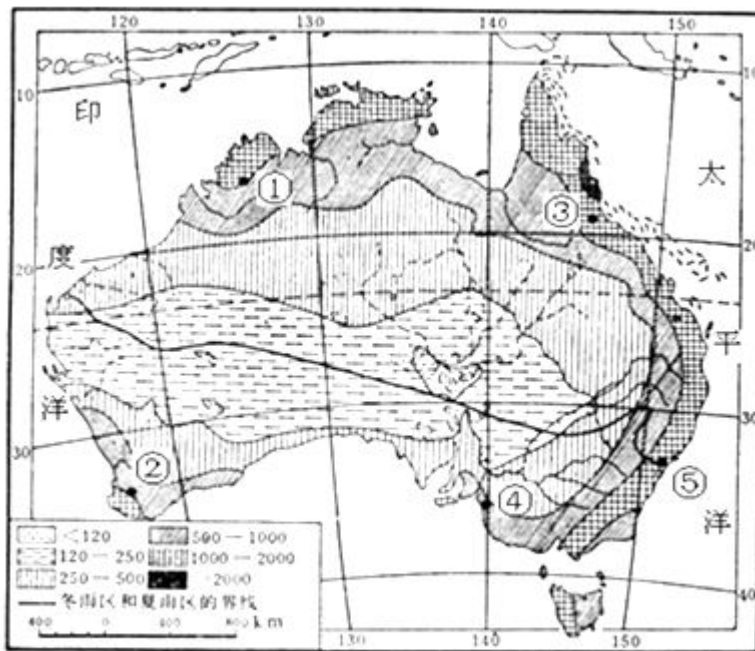


图8

48. 图 4 为“沿 106.5° E 我国局部地形剖面图”，据此完成下列各题。

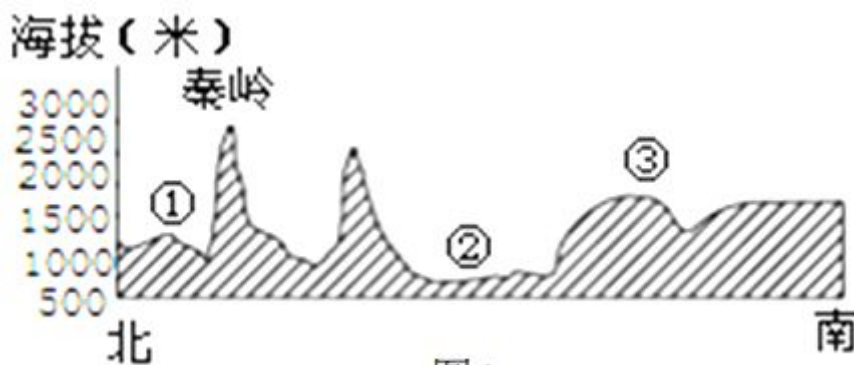


图4

(1). 图中②地形区为

A. 华北平原 B. 四川盆地 C. 渭河平原 D. 长江中下游平原

(2). 秦岭是我国重要的地理分界线，其地理意义表现在 aa

A. 为农耕区和畜牧区的分界线

B. 是亚热带季风气候区和温带季风气候区的分界线

C. 为 400 毫米年等降水量线经过的地区

D. 是长江水系与淮河水系的分界线

(3). 有关①地形区农业发展条件及面临的问题，叙述正确的是

A. 河网密布，灌溉水充足

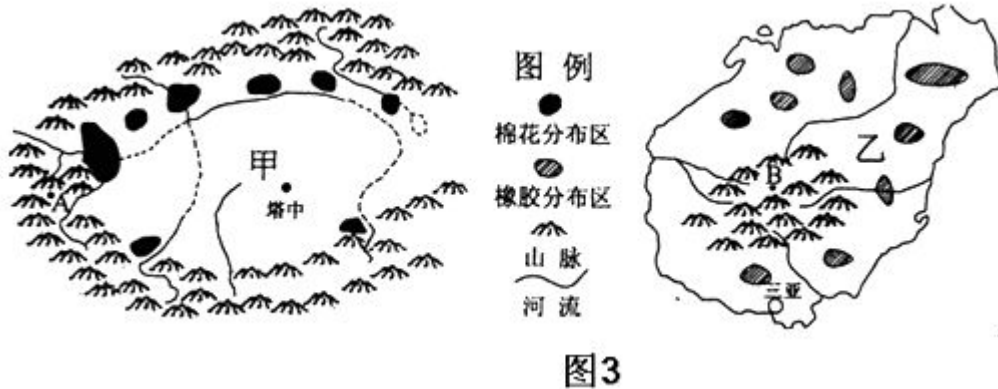
B. 地势平坦，草原辽阔

C. 水土流失严重，陡坡应退耕还林还草

D. 土壤盐碱化严重，多中、低产田



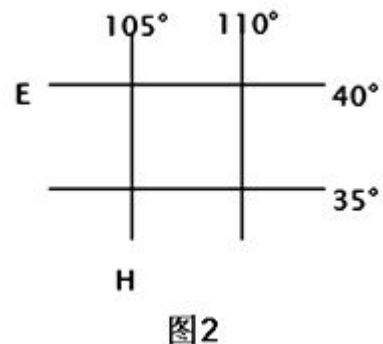
49. 下图示意我国甲、乙两区域，据此完成下列各题。



- (1). 关于甲、乙两区域河流特征的描述，不正确的是
- A. 甲区域以冰雪融水补给为主，乙区域以雨水补给为主
B. 甲区域以内流河为主，乙区域以外流河为主
C. 甲区域以春汛为主，乙区域以夏汛为主 aa
D. 甲区域水系呈向心状，乙区域水系呈放射状
- (2). 甲、乙两区域分别盛产棉花和天然橡胶，其共同的区位优势是
- ①夏季热量充足 ②劳动力价格较低 ③农业科技发达 ④农业机械化程度高
- A. ①③ B. ①② C. ②③ D. ③④

50. 读图 2, 据此完成下列各题。

- (1). H 经线穿越的我国大地形区有
- A. 内蒙古高原、黄土高原、青藏高原、云贵高原
B. 内蒙古高原、黄土高原、四川盆地、云贵高原
C. 黄土高原、长江中下游平原、四川盆地、云贵高原
D. 准噶尔盆地、天山、塔里木盆地、青藏高原
- (2). E 纬线穿过的我国省级行政单位有
- A. 山东省、河北省、山西省、甘肃省、新疆维吾尔自治区
B. 河北省、山西省、内蒙古自治区、甘肃省、青海省
C. 辽宁省、河北省、山西省、甘肃省、新疆维吾尔自治区
D. 江苏省、河南省、陕西省、宁夏回族自治区、青海省



51. 图 1 是两组我国省级行政区划图，读图回答 1~2 题。

- (1). 对图中省份的说法正确的是
- A. 甲、乙两省均位于地势第一级阶梯
B. 丙、丁两省以河流为界
C. 甲、乙两省以河流为界
D. 丙、丁两省均位于地势第二级阶梯
- (2). 对在甲、乙两省旅行常见地貌景观叙述正确的是
- A. 远看成山，近看成川
B. 地表崎岖，谷深坡陡
C. 沟壑纵横，支离破碎
D. 平原为主，丘陵间杂





52. 安第斯山脉南段西侧降水多于东侧的原因是 ()

- A. 距海较近, 受海洋水汽的影响较大
- B. 纬度较低, 太阳辐射强, 对流雨丰富
- C. 地势较高, 气温较低, 容易成云致雨
- D. 太平洋湿润气流受山脉阻挡, 地形雨丰富

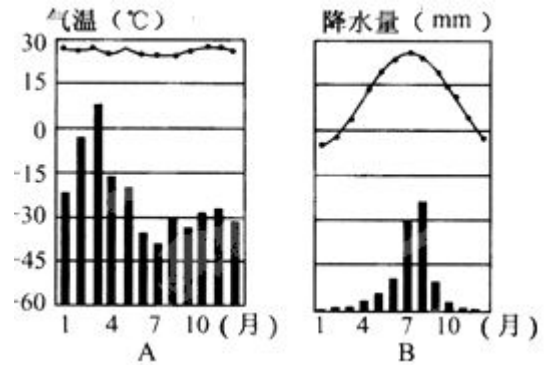
53. 读 A、B 两地月平均气温曲线和降水量柱状图, 回答下列小题。

(1). A 地气温特点是 ()

- A. 终年高温
- B. 夏季高温
- C. 四季如春
- D. 终年严寒

(2). B 地降水最多的月份是 ()

- A. 4 月
- B. 6 月
- C. 8 月
- D. 12 月



54. 属于纵贯南北美洲西部山系的山脉是 ()

- A. 阿尔卑斯山和落基山脉
- B. 落基山脉和安第斯山脉
- C. 喜马拉雅山脉和阿尔卑斯山脉
- D. 喜马拉雅山脉和安第斯山脉

55. 下列各组大洲中大陆均为北回归线穿过的是 ()

- A. 亚洲、欧洲、南美洲
- B. 亚洲、欧洲、北美洲
- C. 非洲、亚洲、北美洲
- D. 非洲、大洋洲、北美洲

56. 亚洲与欧洲的分界线是 ()

- A. 巴拿马运河
- B. 苏伊士运河
- C. 乌拉尔山、乌拉尔河
- D. 阿尔卑斯山脉

57. 被世界三个大洋包围的大洲是 ()

- A. 北美洲
- B. 南美洲
- C. 非洲
- D. 亚洲

58. 四大洋中, 跨经度最多的是 ()

- A. 太平洋
- B. 大西洋
- C. 印度洋
- D. 北冰洋

59. 赤道穿过的大洲中, 面积最大的是 ()

- A. 亚洲
- B. 非洲
- C. 大洋洲
- D. 南美洲

60. 下列哪个大洲既位于北半球又位于西半球 ()

- A. 亚洲
- B. 非洲
- C. 北美洲
- D. 南美洲

61. 世界上海陆面积比例是 ()

- A. 各占一半
- B. 2/3 陆地
- C. 1/4 海洋
- D. 三分陆七分海

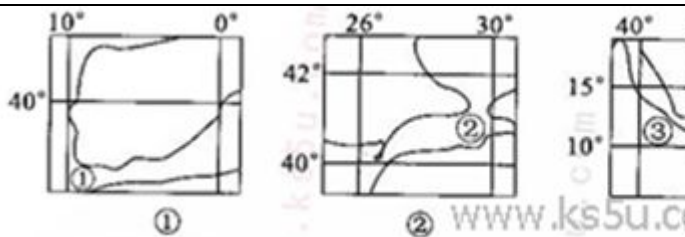
62. 位于两个大洲之间的海峡有 ()

- A. 麦哲伦海峡
- B. 土耳其海峡
- C. 多佛尔海峡
- D. 马六甲海峡

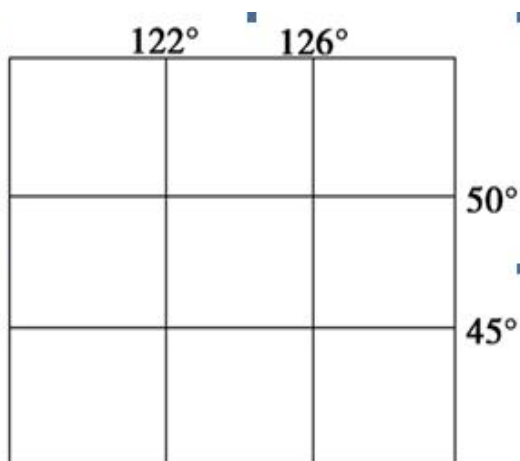
63. 下列有关运河和海峡的叙述中, 属于错误的一条是 ()

- A. 苏伊士运河沟通红海和地中海
- B. 麦哲伦海峡分隔南美大陆和火地岛
- C. 基尔运河联系北海和波罗的海
- D. 巴拿马运河连接太平洋和墨西哥湾

64. 下图是一组海峡示意图, 据此完成下列各题。



- (1). 上述海峡中不位于两大洲之间的是()
A. ①海峡 B. ②海峡 C. ③海峡 D. ④海峡
- (2). 上述海峡中属于印度洋的是()
A. ②③ B. ①② C. ③④ D. ①④



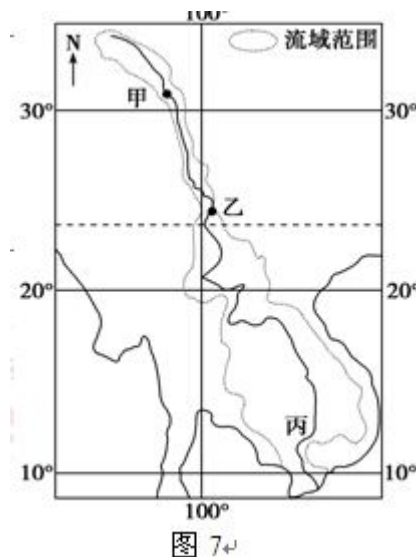
65. 下图是美国本土某类电站分布图，据此完成下列各题。

- (1). 该类电站使用的能源最可能是
A. 地热能 B. 核能
C. 太阳能 D. 水能
- (2). 影响该类电站分布的主要因素是
A. 市场 B. 原料
C. 交通 D. 科技



66. 读图 7 “某河流干流和流域范围示意图”，据此完成下列各题。

- (1). 图中河流的甲—乙河段流域范围非常狭窄，其主要原因是
A. 泥沙淤积使河床过高，支流难以汇入
B. 河流两岸被高山束缚，山高谷深
C. 上游气候寒冷干燥，支流稀少
D. 河流落差大，水流湍急
- (2). 该河流中、下游平原是重要农业区，影响其农业生产优势的社会经济条件是
①人口稠密，劳动力充足 ②水、陆交通发达，便于粮食大量出口
③历史悠久，种植经验丰富 ④地广人稀，土地租金低
⑤科技发达，机械化水平高 ⑥人多地少，粮食需求量大
A. ①②④ B. ①③⑥ C. ②④⑤ D. ③⑤⑥



67. 右图是“我国某地区经纬网图”。据此完成下列各题。

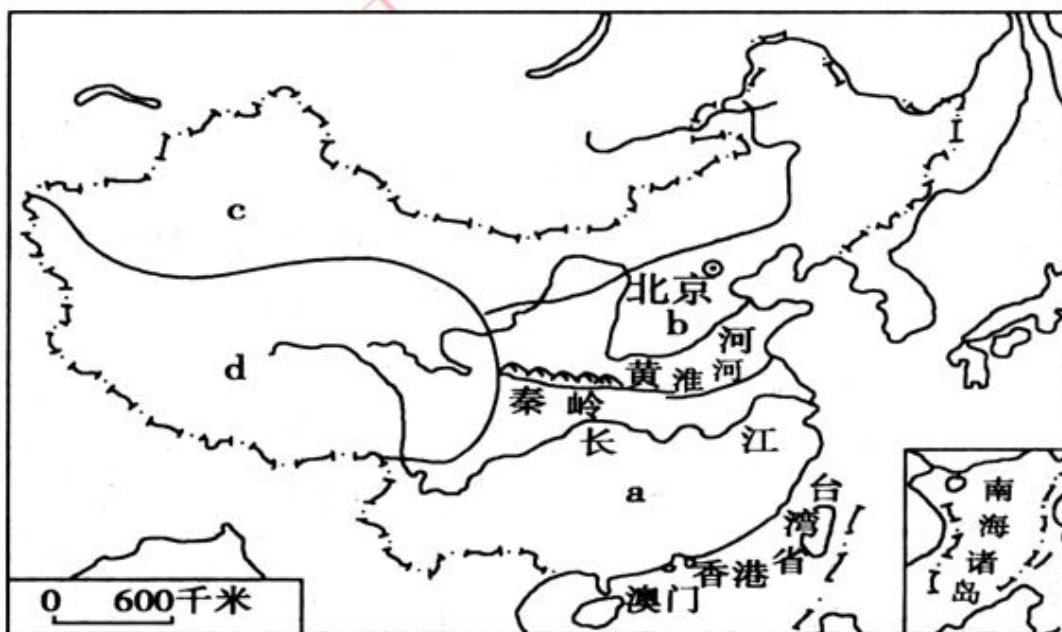
- (1). 该地区西部有我国重要的地理分界线，有关该地理分界线的叙述正确的是

- A. 800 毫米年等降水量线和旱地耕作区、水田耕作区的分界线
- B. 亚热带、暖温带和常绿林、落叶林分界线
- C. 季风区、非季风区和半湿润区、半干旱区的分界线
- D. 第一、二阶梯和农耕区、牧区的分界线

(2). 有关该地区的叙述正确的是

- A. 该地区河流一年有两个汛期
- B. 该地区河流冬季没有结冰期
- C. 该地区河流都有凌汛
- D. 应继续大面积开垦、发展粮食种植业

68. 读中国四大区域示意图，据此完成下列各题。



(1). 综合考虑纬度、地形、气候等因素，四大区域太阳年辐射总量由大到小的排序是

- A. abcd
- B. adbc
- C. dbac
- D. dcba

(2). 有关四大区域农业发展主要制约因素的叙述，错误的是

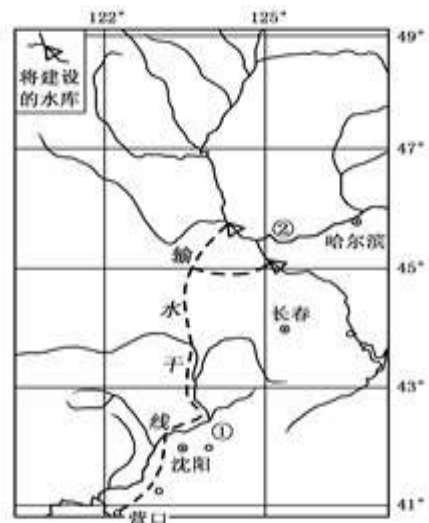
- A. a—洪涝灾害
- B. b—土壤肥力
- C. c—灌溉水源
- D. d—生长积温

(3). 有关四大区域主要能源的叙述，错误的是

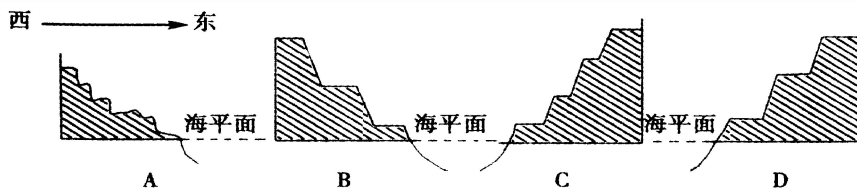
- A. a——水能
- B. b——煤、石油
- C. c——石油、煤、天然气、水能
- D. d——煤、石油、水能

69.读我国“引松入辽”工程规划示意图，据此完成下列各题。

- (1) . 该工程建设的有利条件是
- A . 地势北高南低，全程可以自流引水
- B . 经过地区主要是沼泽等荒地，占用耕地少
- C . 输水线路短，线路里程不到 300 公里
- D . 输水干线经过地区以平原为主
- (2) . 该工程建成后，对哈尔滨的有利影响主要是
- A . 减小洪水危害
- B . 有利于其城市地域结构的调整
- C . 改善其航运条件
- D . 缓解其水资紧张状况



70. 在下图中，能准确反映我国地势特点的是（ ）



71.下列国家中，与我国的南面接壤的有（ ）

- A. 越南、老挝、泰国
- B. 越南、老挝、柬埔寨
- C. 越南、老挝、缅甸
- D. 尼泊尔、老挝、孟加拉国

72.下面关于我国民族的说法，正确的是（ ）

- A. 我国有 56 个少数民族
- B. 汉族主要集中分布在东北和西南
- C. 人口最多的少数民族是壮族
- D. 少数民族主要分布在西部和北部

73.下列关于我国人口说法正确的是（ ）

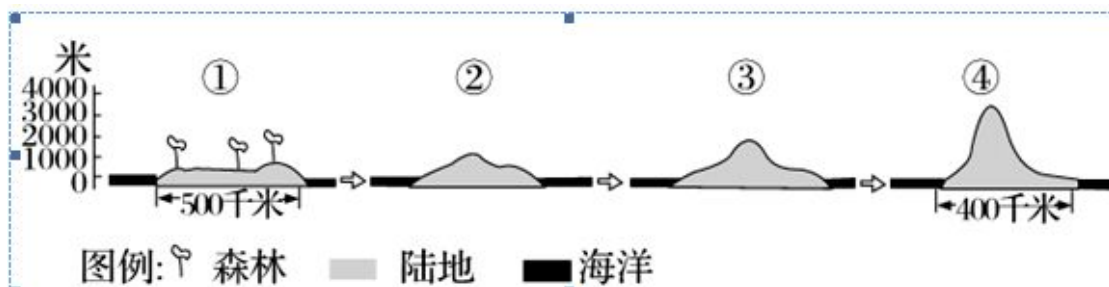
- A. 人口基数大，增长快，素质很高
- B. 单独二胎政策违背了计划生育国策
- C. 人口南方比北方少
- D. 以黑河—腾冲一线人口东多西少

74.服务外包属于现代高端服务业的重要组成部分，当前，全球服务外包正成为国际商务活动中的新浪潮，也是当今世界新一轮产业革命和转移的新趋势。读“全球服务外包产业转移示意图”，据此完成下列各题。



- (1).影响全球服务外包产业第一阶段转移的最主要区位因素是
A.大量廉价劳动力 B.教育水平较高
C.便利的交通 D.工业基础雄厚
- (2).中国正成为全球服务外包产业转移的主要国家之一，其最有利的区位条件是
A.便利的交通 B.IT 产业迅猛发展
C.自然资源丰富 D.消费市场广大

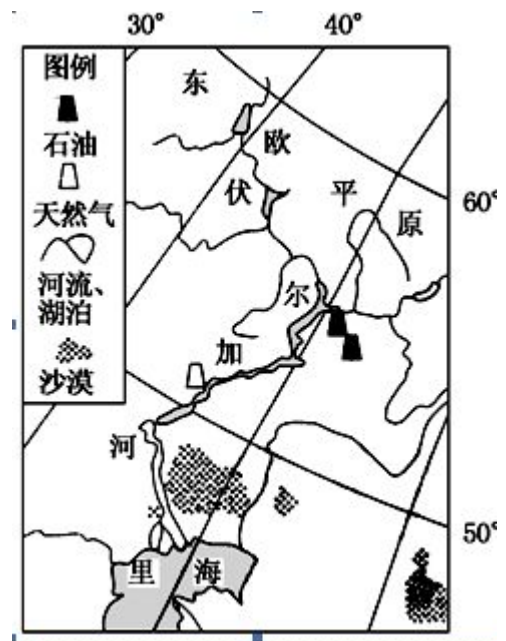
75.①②③④四图是某大陆从地质历史时期至今沿 45° 纬线的地形剖面示意图(图中箭头指地形演变趋向)。据此完成下列各题。。



- (1). 该大陆最有可能为
A. 非洲大陆南端 B. 澳大利亚大陆 C. 南美大陆南端 D. 亚欧大陆
- (2). 推测图④中大陆东岸植被类型最可能是
A. 常绿硬叶林 B. 落叶阔叶林 C. 常绿阔叶林
D. 温带荒漠
- (3). 导致图①和图④大陆东岸植被差异的根本原因是
A. 地壳运动 B. 海陆分布 C. 洋流性质
D. 大气环流

76.下图为伏尔加河主要流经地区示意图，据此完成下列各题。

- (1). 从水循环的过程和地理意义看，伏尔加河()
①流域内总体上蒸发旺盛 ②流域的部分降水源自西风带
③河水主要参与陆地内循环 ④使东欧平原总体趋于高低不平
⑤促进里海的水分和热量平衡
A. ①②④ B. ①③⑤
C. ②③⑤ D. ②④⑤
- (2). 图中所示石油、天然气()
A. 与伏尔加河水能的能量来源不同
B. 直接形成于伏尔加河的沉积作用
C. 开发得益于伏尔加河水资源丰富
D. 输出主要通过伏尔加河运往西欧



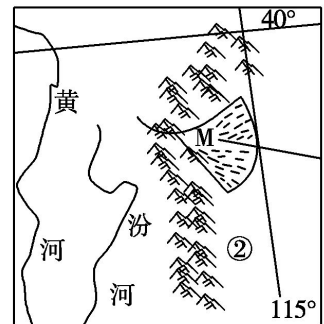
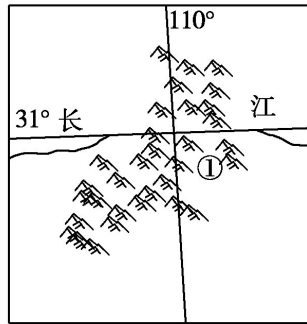
77. 读下图，据此完成下列各题。

(1). 下列关于①、②山脉的正确叙述是

- A. 季风区与非季风区的分界线
- B. 地势阶梯的分界线
- C. 湿润区与半湿润区分界线
- D. 中部和西部地区的分界线

(2). 右图中 M 区域不易发生的问题是

- A. 干旱
- B. 洪灾
- C. 土地盐碱化
- D. 沙尘暴



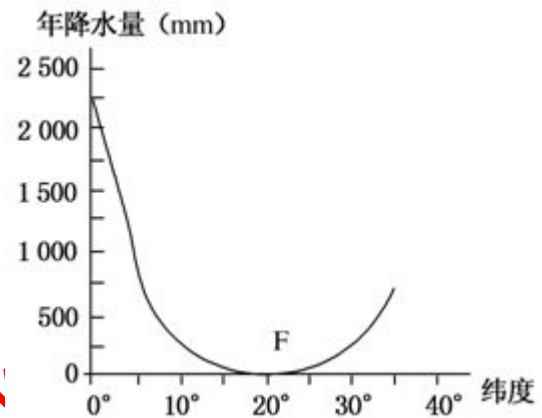
78. 读世界某大陆西岸年降水量随纬度的变化曲线图，据此完成下列各题。

(1). 该大陆可能是()

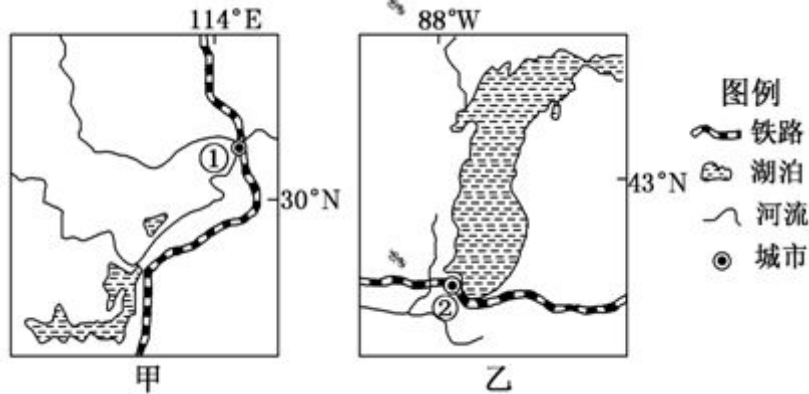
- A. 非洲
- B. 南美洲
- C. 北美洲
- D. 澳大利亚

(2). 该大陆 F 处沿海多大雾天气，其原因可能是()

- A. 寒暖流交汇
- B. 副高控制，水汽不易扩散
- C. 处于板块交界处，多温泉
- D. 沿岸有寒流经过



79. 读“中、美两国部分地区略图”，完成小题。



(1). 比较甲、乙两区域，下列叙述正确的是 ()

- A. 两地地形均以平原为主，黑土层深厚
- B. 寒潮是冬季影响两地的主要灾害性天气
- C. 温带落叶阔叶林是两地的主要植被类型
- D. 冰川侵蚀是两地湖泊的主要成因

(2). 比较城市①和城市②，下列叙述正确的是 ()

- A. 两城市形成的共同区位因素是地形和自然资源
- B. 便利的水陆交通是影响两城市工业发展的共同有利因素
- C. 钢铁和畜产品加工是两市的传统工业部门
- D. 从 20 世纪 70 年代开始，两城市都出现了逆城市化现象

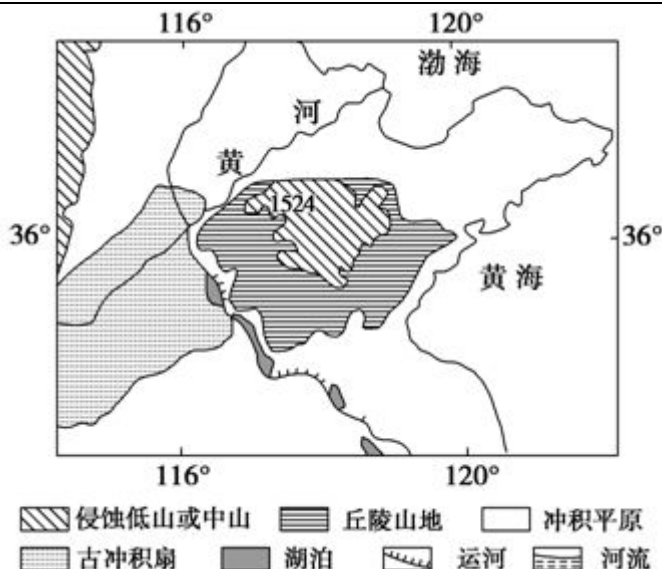
80.读我国某地区示意图,据此完成下列各题。

(1)图示地区发展农业生产的主要限制性因素有

- ①旱涝 ②台风 ③凌汛 ④风沙
⑤寒潮 ⑥盐碱化 ⑦缺水 ⑧低温
A. ①②③④ B. ①④⑥⑦
C. ③④⑤⑦ D. ②③④⑧

(2)适宜在图示平原地区大面积种植的农作物有

- A. 水稻、油菜、茶叶
B. 春小麦、亚麻、甜菜
C. 棉花、玉米、甘蔗
D. 冬小麦、棉花、花生



81.读澳大利亚轮廓图,据此完成下列各题。

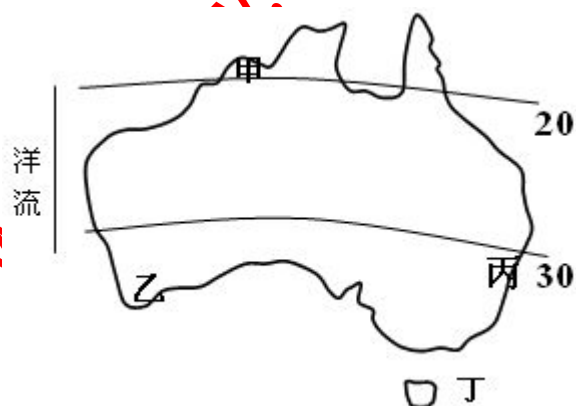
(1). 图中 30° 纬线上一共穿过多少个板块
A. 4 B. 5 C. 6 D. 7

(2). 关于图中洋流及附近地区描述正确的是

- A. 该洋流属于风海流
B. 该洋流附近陆地植被茂盛
C. 该洋流对沿岸降温减湿
D. 该洋流自北向南流

(3). 当重庆处于多雨季节时, 图中下列各地说法正确的是

- A. 甲地吹西北风
B. 乙地吹西北风
C. 丙地吹东北风
D. 丁地吹东北风



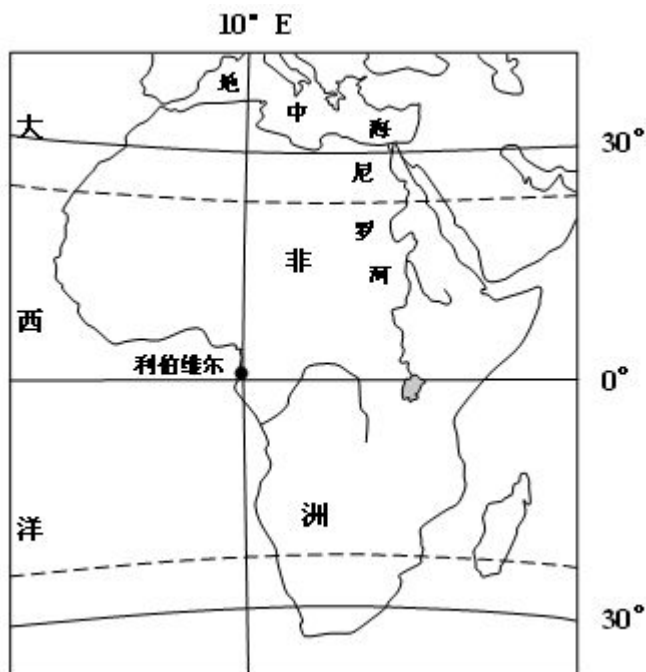
82.读下图,据此完成下列各题。

(1). 下面关于尼罗河的叙述, 正确的是

- A. 径流量季节变化小
B. 径流量从上游向下游递增
C. 以雨水补给为主
D. 是非洲最大的内流河

(2). 利伯维尔日出时, 其所在时区区时是

- A. 6 时
B. 6 时 20 分
C. 5 时 20 分
D. 6 时 40 分



83. 读图，据此完成下列各题。

(1). 图中甲乙两地的距离大约为

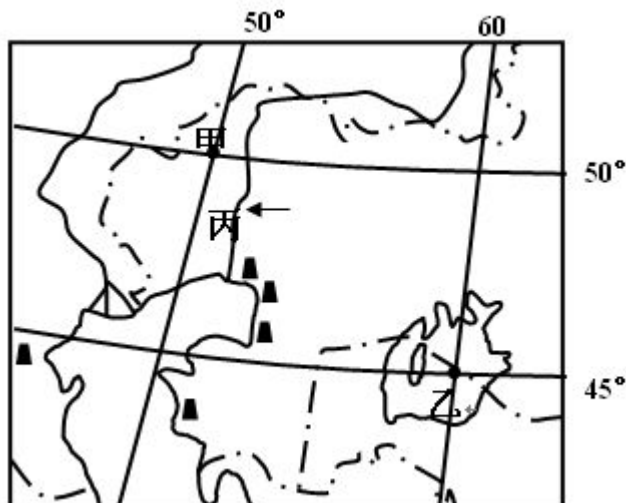
- A. 950 km B. 800 km
C. 1350 km D. 1200 km

(2). 下列不属于乙地所在湖泊面积减少原因的是

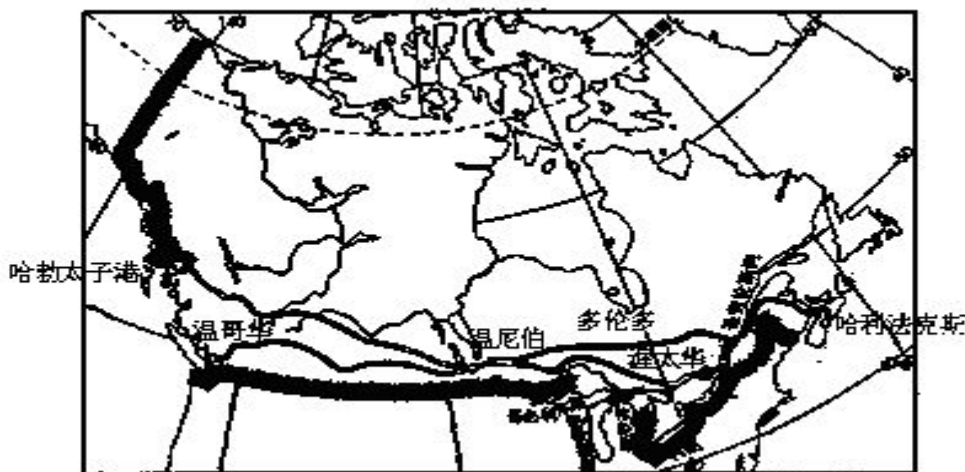
- A. 流域内气温升高，蒸发旺盛
B. 流域内工农业耗水量大
C. 山地冰雪融水减少，河流补给 水源减少
D. 河流流经地区植被破坏严重

(3). 图中河流丙水文特征描述正确 的是

- A. 该河流是一条外流河，主要通过雨水补给
B. 该河流有结冰期，并有凌汛
C. 该河流是亚洲和欧洲的分界线
D. 该河流主要通过雨水和季节性积雪融水补给



84. 读“加拿大主要铁路和城市分布图”，据此完成下列各题。



(1). 影响加拿大铁路和城市分布的主要因素是

- A. 气候 B. 地形 C. 农业 D. 人口

(2). 与加拿大铁路和城市分布规律类似的还有

- ①植被覆盖率 ②水源分布 ③种植业区 ④工业区 ⑤人口分布

- A. ①②③ B. ③④⑤ C. ①②④ D. ②③⑤

85. 读“四国轮廓图 5”，据此完成下列各题。

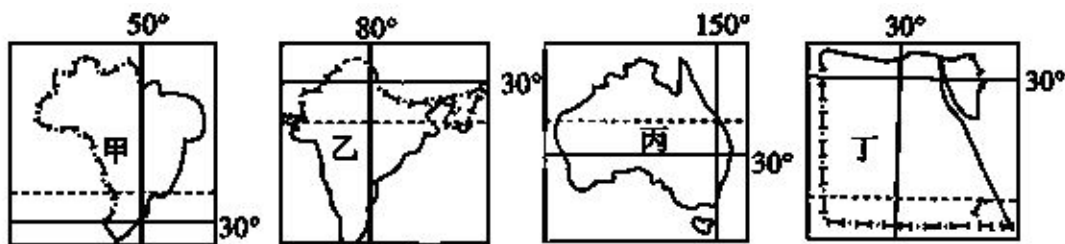


图 5

(1). 四个国家都有回归线穿过,其中有沙漠分布的国家是

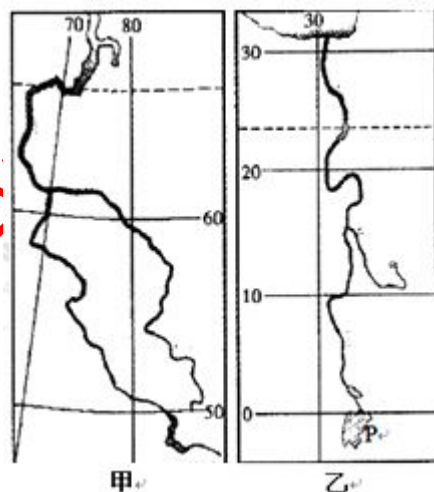
- A. 甲乙丙丁 B. 甲丁 C. 乙丙丁 D. 甲乙丁



- (2). 有关四个国家自然地理特征的叙述,正确的是
- A. 甲国地势西高东低,高原面积广阔
 - B. 丙国河流较多,但中部地区地下水缺乏
 - C. 乙国以热带沙漠气候为主,全年干旱少雨
 - D. 丁国地跨亚、非两洲
- (3). 有关四个国家社会经济特征的叙述,正确的是
- A. 甲国以黑种人和白种人为主,信仰佛教
 - B. 乙国是亚洲耕地面积最大的国家
 - C. 丙国缺乏地中海气候
 - D. 丁国最主要的经济支柱是长绒棉的生产和出口

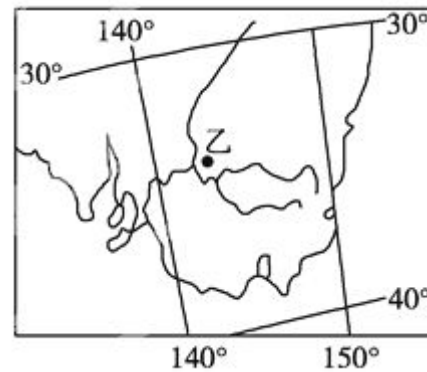
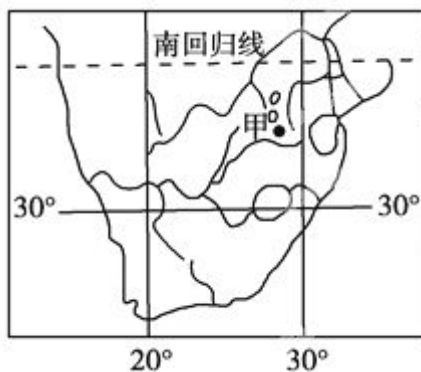
86.读下图,据此完成下列各题。

- (1). 关于图中两条河流特征相同点的叙述,正确的是
- A. 均自北向南流
 - B. 均有凌汛现象
 - C. 均为季节性积雪融水补给
 - D. 夏季降水量较多
- (2). 关于甲、乙两图所示区域自然现象的叙述,正确的是
- A. 甲区域地球自转线速度大于乙区域
 - B. 甲区域昼夜长短变化幅度大于乙区域
 - C. 两区域地形类型均以高原为主
 - D. 两区域植被类型均以草原为主
- (3). 关于两河流沿岸地区的叙述,正确的是
- A. 两河流航运价值高,沿途经济发达
 - B. 两河流均为世界古文明发源地,多名胜古迹
 - C. 甲河流所经地区地形平坦,为重要的农产区
 - D. 乙河流上建有世界上著名的水电站



87.下图为世界两区域图。据此完成下列各题。

- (1) 下列关于甲、乙两地理位置的叙述,正确的是
- A. 甲地位于北温带
 - B. 乙地位于西半球
 - C. 甲地位于乙地的西北方向
 - D. 甲、乙两地均位于流域分水岭
- (2). 甲、乙两地相似的地理环境特征有
- A. 海拔高于四周
 - B. 气候较周边地区凉爽
 - C. 河川径流季节变化小
 - D. 植被以草原为主



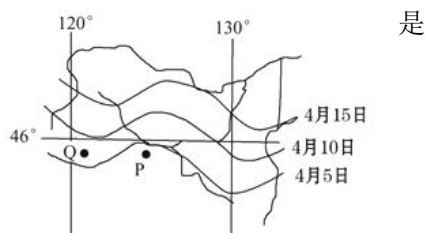
88.读我国某地季节性积雪融化完毕日期等值线图与水系分布图,据此完成下列各题。

(1).P地积雪融化完毕日期与Q地不同,其主要影响因素

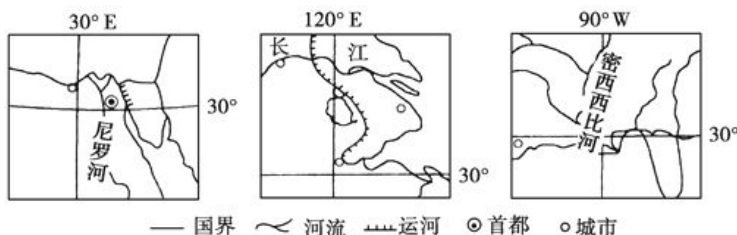
- A.纬度位置 B.海陆位置 C.地形 D.洋流

(2).与华北地区相比,该地区的河流

- A.以冰雪融水补给为主 B.流量季节变化较小
C.含沙量大,结冰期长 D.年货运量较小



89. 下图为北纬 30° 附近部分区域图。据此完成下列各题。



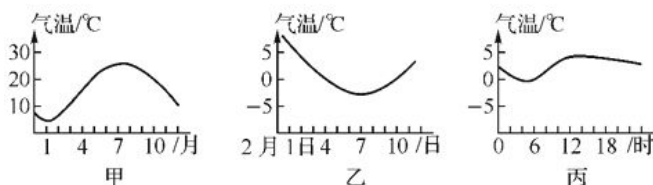
(1). 下列关于三地自然地理特征的叙述,正确的是

- A. 三条河流的汛期在季节上不一致 B. 三地均受季风气候的影响
C. 三地河口处地势低平,土壤肥沃 D. 三地的自然带均是亚热带常绿阔叶林带

(2). 关于三地人文地理特征的叙述,正确的是

- A. 修建水库是三条河流开发的核心 B. 主要农作物都有棉花
C. 城市化水平平均处于世界前列 D. 都有丰富的水源

90.读我国某地气温变化图,据此完成下列各题。



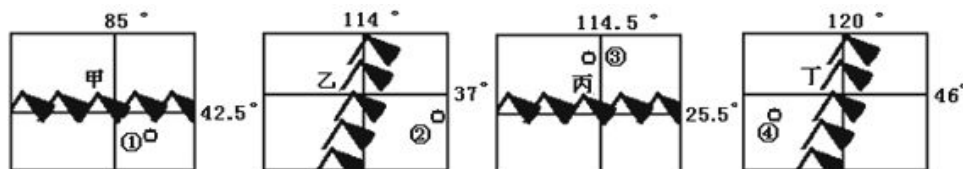
(1). 甲地可能位于

- A. 东北地区 B. 华北地区 C. 长江中下游 D. 海南岛

(2). 下列关于三地气温变化的说法,正确的是

- A. 甲、乙、丙三图的气温变化主导因素均为太阳辐射
B. 甲图7月高温主要是因为7月伏旱季节降水少光照强
C. 乙图7日气温低主要是因为受冷空气影响
D. 丙图气温变化小是因为正午太阳高度变化小

91.下图为我国四座重要山脉,据此完成下列各题。



(1). 属于我国地势阶梯分界线的山脉有

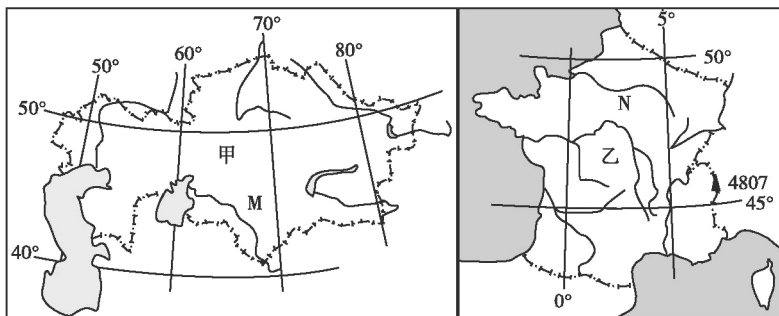
- A. 甲 乙 B. 乙 丁 C. 甲 丙 D. 丙 丁

(2). 下列说法错误的是

- A. ①地有我国重要的商品棉基地 B. ②地水土流失严重
C. ③地为江南丘陵 D. ④地是我国重要的畜区

三、综合题

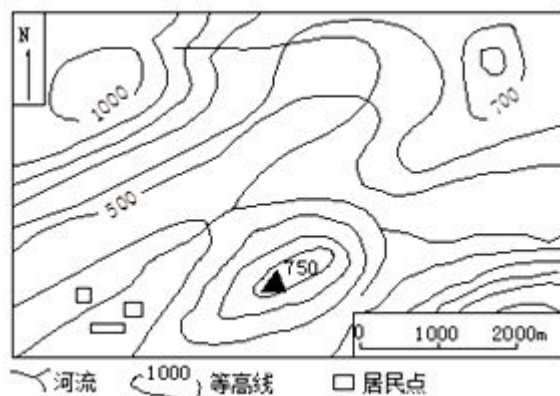
92. 读下面甲、乙两国图，回答问题。



- (1) 乙国的地势特点是_____，判断理由是_____。
- (2) 试简述图中 M、N 两河的主要补给类型，并分析由此而造成的两河水文特征的差异。
- (3) M 河流域的主要经济作物是_____，试分析以该作物为主的加工业有利的区位条件。

93. 阅读图文资料，完成下列要求。图所示区域位于我国江南丘陵区。

- (1) 该区域属于_____（气候类型），该气候形成的主要原因是？该气候夏季降水特点是？
- (2) 该区域主要以_____（地形类型）为主，图中居民地处_____（山体部位名称）附近。居民点附近的河流流向为_____。
- (3) 该区域当暴雨来临时，河水暴涨，引起水流泛滥，造成灾；降水过多淹没农田，使农作物绝收，造成_____灾。
- (4) 分析图中居民点易遭洪灾的原因，并提出具体的应对措施。



94. 读“世界局部区域图”（图 16），完成下列问题。

- (1) 描述海南岛 7 月等温线分布特征，并分析其原因。（8 分）
- (2) 比较甲、乙两河段主要开发利用方向有何不同，并说明理由。（4 分）

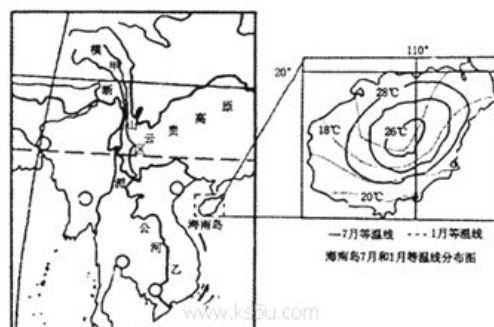


图 16

95. 阅读图文资料，回答下列要求。（24 分）

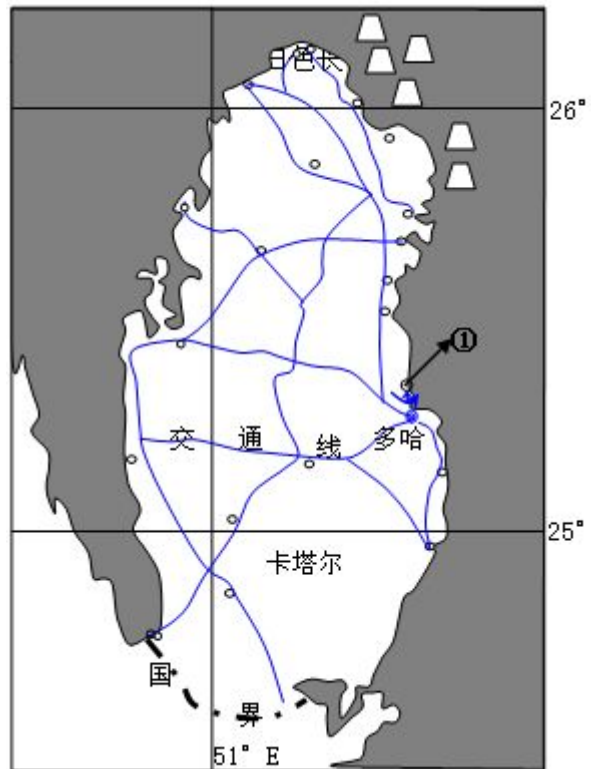
材料一：液化天然气指气态的天然气冷却凝结成液态的天然气，其体积约为同量气态天然气体积的 1/600。卡塔尔是世界上最大的液化天然气生产和出口国。液化天然气主要出口日本、西欧和北美。

材料二：卡塔尔居民的传统服装是以丝绸、棉织物为主材质的白色长袍，领口和袖口部分宽大。

（1）①港是世界上最大的液化天然气港，简要分析其形成条件。（10 分）

（2）推测卡塔尔国内交通线的主要类型，并说明推断理由。（8 分）

（3）分析当地传统服装对气候的适应作用。（6 分）



96. 读材料，完成下列问题。

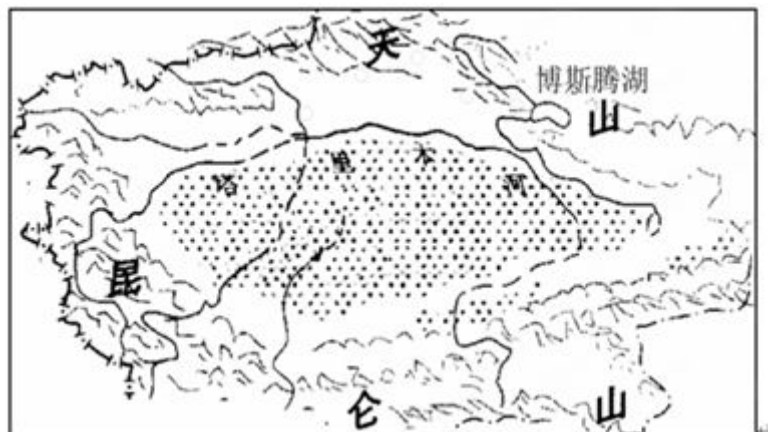
材料：塔里木河流域是中国重要的棉花、石油化工基地，也是新疆特色果品的生产基地。“漫卷风沙埋河道，欲哭无泪哀胡杨”是塔里木河下游断流、干涸近 30 年的真实写照。

对塔里木河流域近期综合治理规划的做法：上游，实施老灌区节水防渗改造，并在源流上建若干个山区水库。中游，修建堤防以减少每年因决口而浪费的上亿立方米的河水。下游，跨流域调水。

（1）简述塔里木河流域开发的自然地理条件。

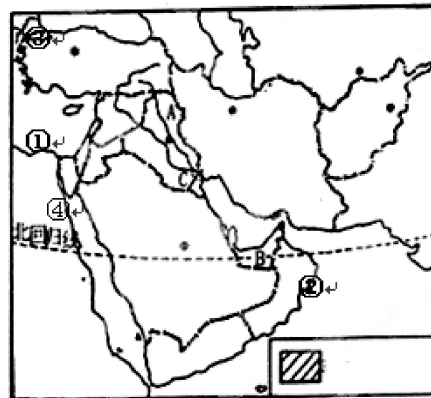
（2）塔里木河流域开发利用中存在的主要生态问题有哪些？

（3）简述塔里木河流域综合开发的具体措施。



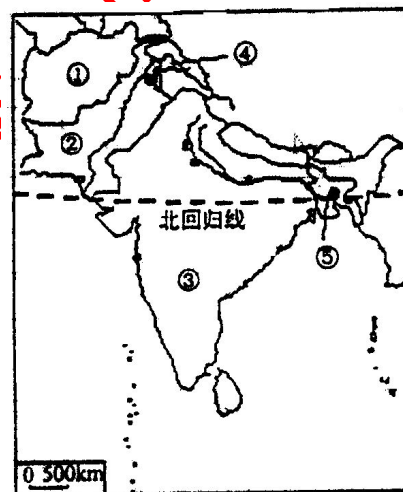
97.读西亚图，完成下列各题：

- (1) 用图中给出的图例，绘出阿富汗。
- (2) 海区①是_____，海区②是_____，海峡③是_____，运河④是_____。
- (3) 图中 A 河的名称是_____，B 国的名称是_____。
- (4) 该区域最具有世界意义的自然资源是_____，该区域的气候特点是_____，原因在于这里常年受_____控制。所以_____资源是当地生产和生活的限制性资源。



98.读亚洲部分地区图，回答问题：

- (1) 图中数码②是_____（国家），该国地形以_____为主。②国的重要灌溉水源是_____。
- (2) ③国的传统工业主要分布在_____，影响其分布的主要区位因素是_____。西部沿海的_____是其最大的海港和棉纺织工业中心，南部则形成了以_____为中心的新兴工业区。
- (3) 简要分析制约③国经济发展的主要因素_____。
- (4) ④是_____地区，它常是②③两国发生武装冲突的导火索，从地理原因分析，引起两国冲突的直接原因是_____。
- (5) 图示区域内最易发生洪涝灾害的国家是_____（填代号），原因是_____。



99.图 19 为“我国资源跨区域调配部分工程示意图”。读图完成下列各题。（7 分）

（1）南水北调东线工程的调入区水资源缺乏的社会经济原因是▲____、▲____。（2 分）

（2）山西省以煤发电大量东送对本地环境产生的不利影响主要表现在 ▲____、▲____方面。（2 分）

（3）西电东送对上海市的有利影响主要有 ▲____、▲____、▲____。（3 分）

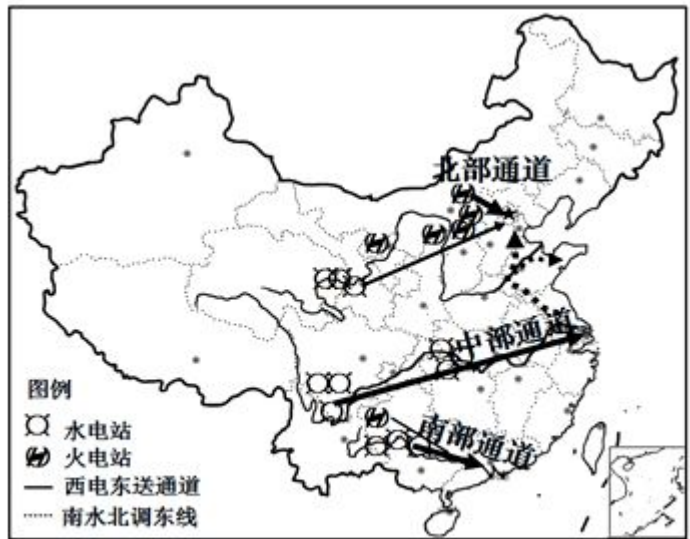
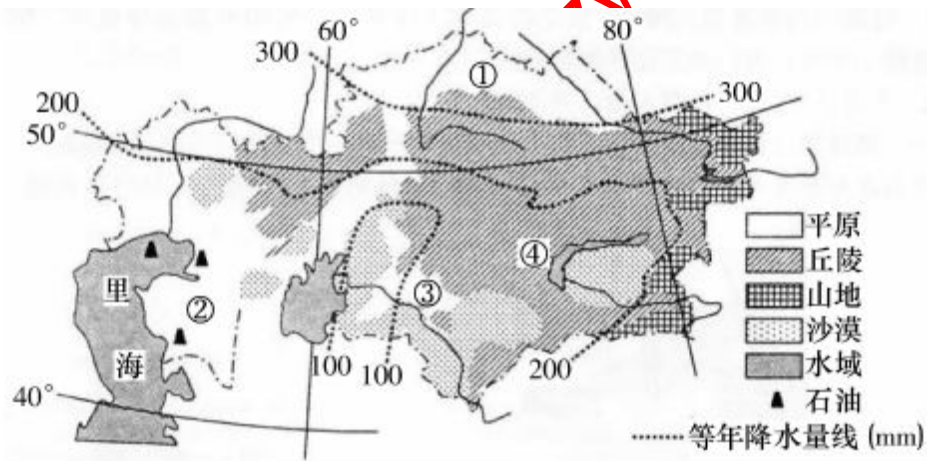


图 19

100.读中亚某国环境、资源图（下图），回答问题。（12 分）



（1）该国石油资源丰富，如果出口到我国，最佳的运输方式是____运输。简述石油出口对该国的有利影响。（4 分）

（2）该国是中亚的小麦生产基地，根据环境状况推测，小麦主要种植在图中①、②、③、④四地中的____地，试分析其原因。（5 分）

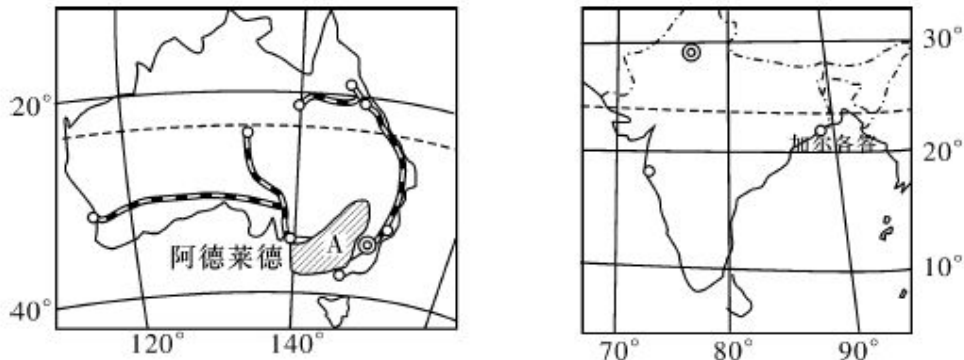
（3）试分析该国主要环境问题产生的自然原因。（3 分）

101. 阅读材料，回答下列问题。（16分）

材料一 阿德莱德是澳大利亚东南部滨海平原上的美丽城市，托伦斯河横贯市区；最热月平均气温 23℃，最冷月平均气温 11.1℃，年平均降水量 528 毫米。加尔各答位于印度东部沿海，沿着胡格利河河岸，呈南北向伸展，月平均气温从 19℃ 到 30℃，东南季风从 6 月到 9 月，给这座城市带来一多半的年降雨量。

材料二 印度已成为向澳大利亚移民人数增长最快的国家。

材料三 澳大利亚和印度略图



- (1) 试分析阿德莱德与加尔各答两城市形成发展的共同优势区位有哪些？（6分）
- (2) 说出 A 农业地域类型及分析促进该区域农业发展的社会经济条件。（6分）
- (3) 印度大量移民迁往澳大利亚，对迁入地有何影响？（4分）

北京博飞 www.pkuzyw.com

102.读世界某区域局部图（图 12），回答下列问题。

- (1) 描述图示区域地形的主要特征。
- (2) 分析图中 R 区域沼泽面积随季节变化的原因。
- (3) 分析 B 地区发展畜牧业的优势区位条件。

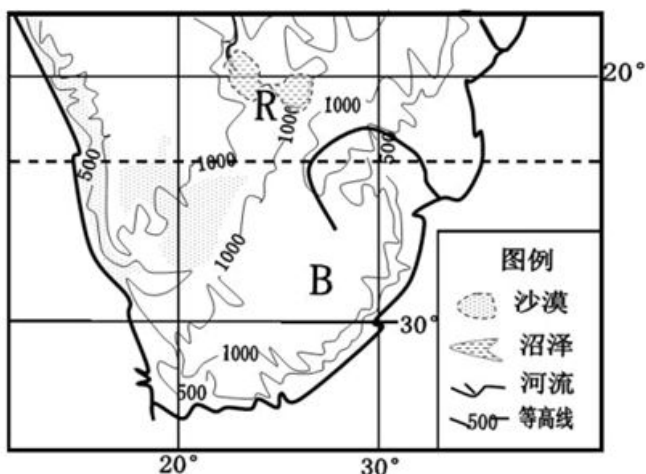


图 12

103.读下图图文资料，完成各小题。（10 分）

巴西甘蔗产量居世界首位，其中一半以上用于生产乙醇，该国近半数汽车使用乙醇汽油。图 11 为巴西及周边区域。

- (1) 分析甲河流流量大的原因。（4 分）
- (2) 分析巴西大量生产乙醇的主要原因。（6 分）

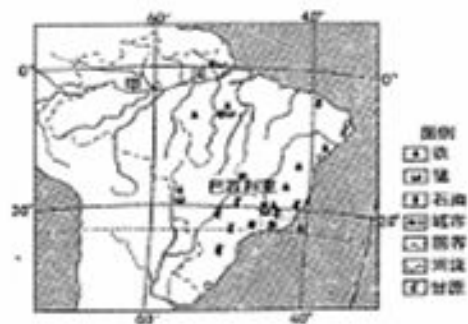


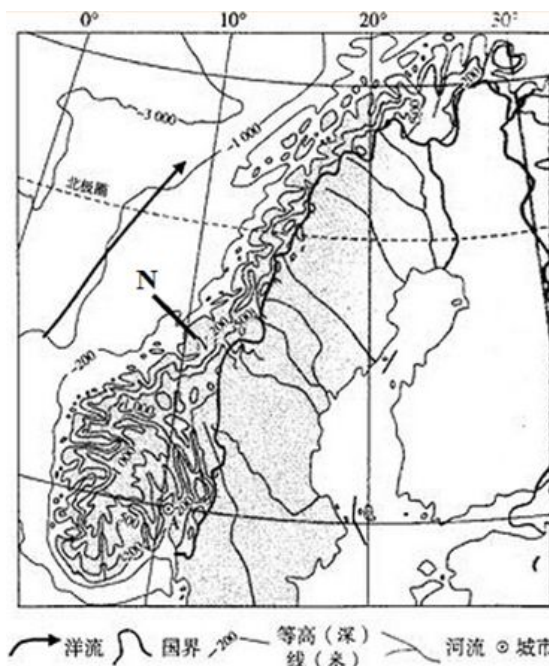
图 11

104.阅读材料，完成下列问题。

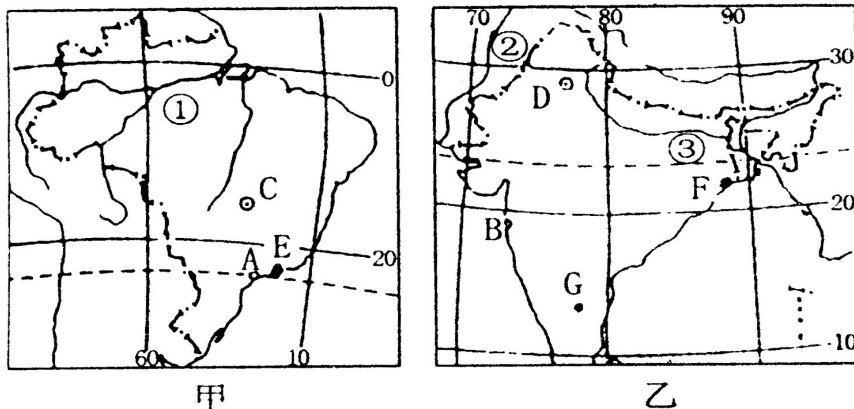
材料一：N 国是发达的工业化国家，该国水电生产列世界第六位，本国 99% 的电力来自水电。N 国渔业闻名于世，捕捞的水产品大部分出口，而粮食基本靠进口。

材料二：N 国地形图。

- (1) 图中洋流按照性质属于——（寒流或暖流），对沿岸气候的影响是——。（4 分）
- (2) 分析 N 国大力发展水电的原因。（10 分）
- (3) N 国大量出口水产品，粮食却依赖进口，分析其原因。（10 分）

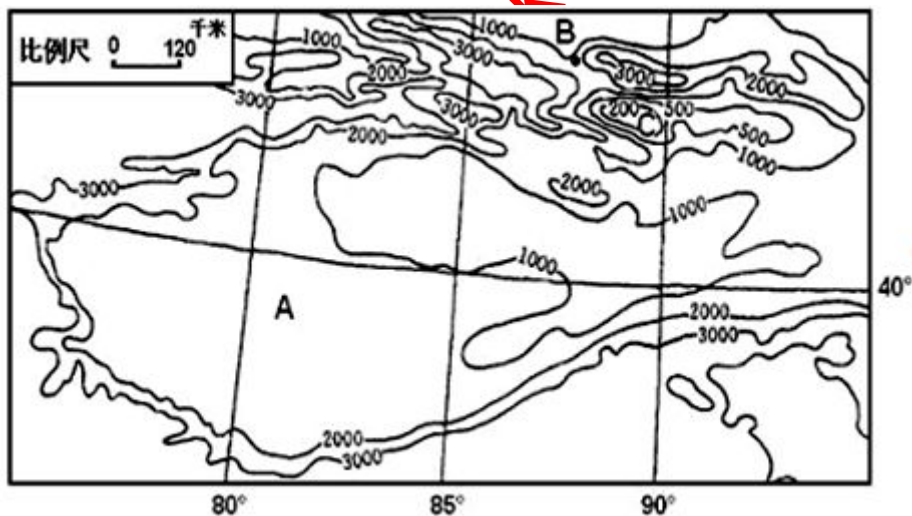


105. 下图中，甲、乙两图分别为世界某两个重要的国家的地理简图，读图回答下列问题。



- (1) 两图中面积较大的是_____（国家名称），判断依据是_____。
- (2) ②地发展农业生产的最主要限制性因素是_____，影响G地工业发展的主导区位因素是_____。
- (3) 图上①、③两地的气候类型分别是_____、_____。造成两地降水丰富的共同原因是_____。
- (4) 两国在人口方面面临的共同突出问题是_____。

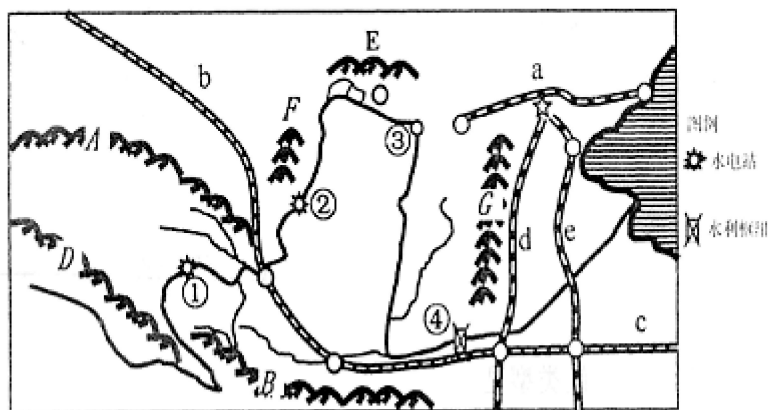
106. 读某地区等高线图，回答下列回答（20分）。



- (1) A地区是_____（地形区具体名称）；该地区河流的主要补给形式及汛期分别是_____、_____。（6分）
- (2) 试说明B地区有利于农作物生长的主要自然原因。（6分）
- (3) A地区沙漠广布，与西亚北非地区的沙漠相比，类型和成因有何不同？（8分）

107. 读中国局部地图完成：（18 分）

- (1) 山脉 G 西侧的地形单元为_____；山脉 F 名称_____，它是_____毫米等降水量线通过的地方。（6 分）
- (2) 铁路名称：a _____、c _____、d _____。（6 分）
- (3) 黄河干流从②到③河段，水量迅速减少的主要原因有哪些？（6 分）



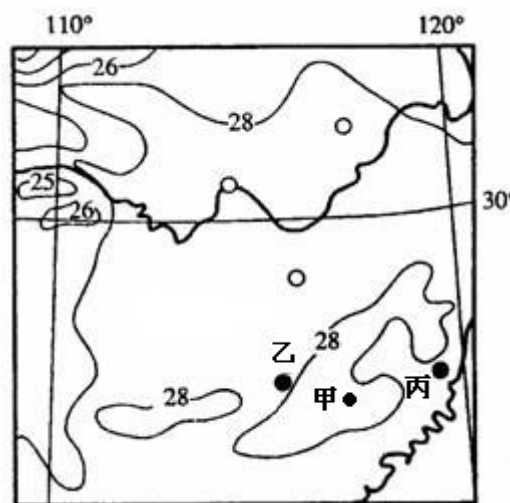
108. 2014 年 7 月 13 日，第 20 届世界杯足球赛在巴西胜利闭幕。下图为承担本次赛事的城市分布图，读图并结合所学知识，完成下列问题。

- (1) 简要说明上图中城市分布的主要特点。（4 分）
- (2) 比较①、②两地气候特征的差异。（6 分）
- (3) 分析①城市所在地气候的成因。（8 分）

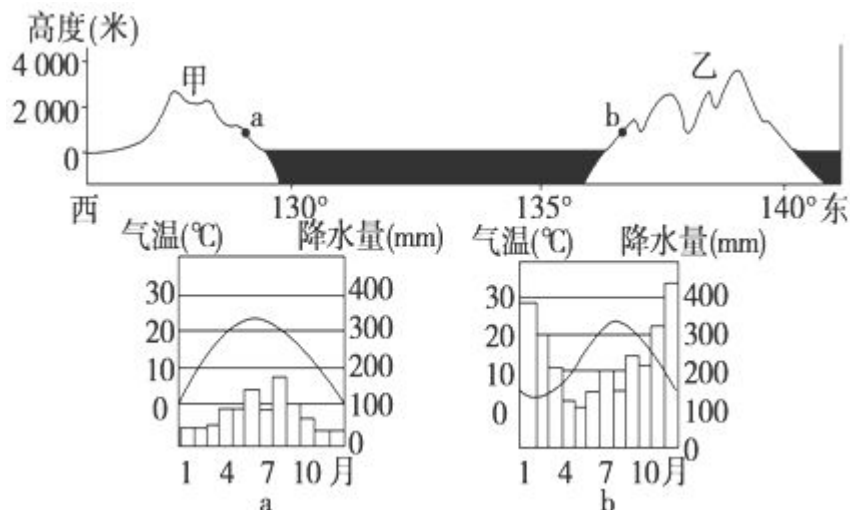


109. 图 14 为某地 7 月平均气温分布图(单位：℃)，回答下列问题。（10 分）

- (1) 甲地温度的范围是_____。（2 分）
- (2) 依据上题结论，结合所学知识比较冬季乙、丙两地气温高低，并分析原因。（4 分）
- (3) 试分析乙、丙两地夏季降水量的差异及原因。（4 分）



110. (10 分) 读沿 36° N 的地形剖面图和图中 a、b 两地的气候资料图，回答下列问题。



- (1) 与 a 地相比，b 地冬季降水有什么特点？并简述其原因。(3 分)
- (2) 试分析乙地区地质灾害多发的原因。(3 分)
- (3) 乙国的工业主要分布在_____，简述其主要原因。(4 分)

北京博飞 www.pkuzyw.com