

备考港澳台联考 地理绝密资料

港澳台联招必考试题-----区域地理 4-10

编写：北京博飞华侨港澳台学校

区域地理 4-试题

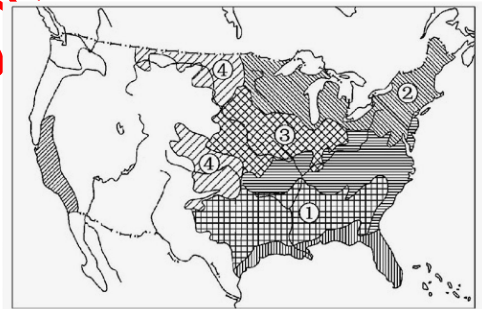
一、单选题

1. 下列工业区中，工业发展建立在丰富的自然资源基础上的是（ ）

- A. 德国慕尼黑工业基地
- B. 日本太平洋沿岸工业地带
- C. 中国沪宁杭工业基地
- D. 美国东北部五大湖工业区

2. 秦岭—淮河线是我国的一条重要地理分界线，有关这条分界线南北两侧的区域差异，下列叙述正确的是（ ）

- A. 秦岭—淮河以北耕地以旱地为主，主要粮食作物是小米
- B. 秦岭—淮河以南耕地以水田为主，主要油料作物是油菜
- C. 秦岭—淮河以北的典型植被是亚寒带针叶林
- D. 秦岭—淮河以南的植被主要是热带季雨林



3. 美国农业生产布局最主要的特点是农业生产地区专门化。所谓农业生产地区专门化，是指一个地区专门生产一种或几种农畜产品，在全国范围内形成专业生产区。据此完成下列各题。

(1). 关于美国农业带的叙述与图幅序号相符的是（ ）

- A. ①亚热带作物带 ②小麦带 ③玉米带 ④棉花带
- B. ①玉米带 ②小麦带 ③棉花带 ④乳畜带
- C. ①棉花带 ②乳畜带 ③玉米带 ④小麦带
- D. ①棉花带 ②乳畜带 ③小麦带 ④玉米带

(2). 下列因素中，与美国乳畜带的形成无关的是（ ）

- A. 该地区气候湿冷，有利于多汁牧草的生长
- B. 该地区居民喜食牛奶、乳酪等产品
- C. 该地区是美国工业发达、城市密集区，消费市场广大
- D. 该地区人口稀少，草原面积广大，只适合发展乳畜业

4. 下列不属于湿地的是（ ）

- A. 三峡水库
- B. 海南岛红树林
- C. 长湿水稻田
- D. 青藏高原上的冰川

5. 我国海尔电冰箱生产厂，经过十几年的发展，从产品单一的电冰箱增加了空调、洗衣机、热水器、电视机等，成为一个企业集团。该企业集团产品开始在国内销售，以后产品逐渐销往国外，目前正在数个国家投资办厂，以避开贸易壁垒，据此完成下列各题。

7. 影响该企业区位选择的主要因素是（ ）



- A. 市场 B. 动力 C. 原料 D. 资金
8. 随着关税等贸易壁垒降低，该公司仍然保持在国外的生产布局，原因是（ ）
- A. 利用廉价劳动力 B. 降低能源消耗 C. 降低产品运输成本 D. 提高管理水平
6. 我国“南水北调”工程实施的主要目的是（ ）
- A. 解决长江流域的洪涝灾害问题 B. 连通长江、淮河、黄河、海河四大水系以发展航运
- C. 利用流域间的落差发电 D. 缓解北方地区水资源不足的问题

北京博飛 www.pkuzyw.com

7. 我国“西气东输”工程起始于（ ）

- A. 柴达木盆地 B. 塔里木盆地 C. 准噶尔盆地 D. 吐鲁番盆地

8. 因水土流失严重而被称为“红色沙漠”的是（ ）

- A. 裸露的黄土高原 B. 我国西北部沙漠地区 C. 裸露的东南丘陵 D. 我国东南部沿海沙滩

9. 决定我国自然地理环境差异的两个基本因素是（ ）

- A. 土壤和植被 B. 气候和地貌 C. 水文和土壤 D. 植被和水文

10. 欧洲西部有许多河流和运河构成的内河航运网。青藏高原是我国许多大江大河的源头。

据此完成下列各题。

(1). 欧洲西部河流发展航运的条件优越，从自然条件考虑是欧洲西部

- ①经济发达 ②地形平坦 ③水能丰富 ④降水丰沛

- A. ①② B. ①③ C. ②③ D. ②④

(2). 西藏自治区内河航运不够发达，主要原因是

- A. 境内无大河，河流流量小 B. 河流冰期长，不利于通航
C. 河流流速快，不利于通航 D. 政府对内河航运不够重视

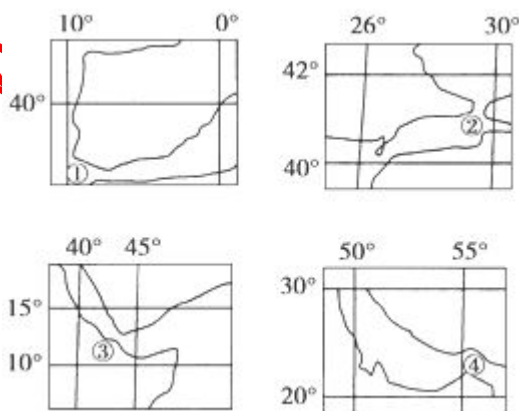
11. 下图是一组海峡示意图和气候类型图(图中数字是经纬度)。据此完成下列各题。

(1). 上述海峡中不是位于两大洲之间的海峡是

- A. ①海峡
B. ②海峡
C. ③海峡
D. ④海峡

(2). 上述海峡中属于印度洋的是

- A. ①②
B. ②③
C. ③④
D. ①④



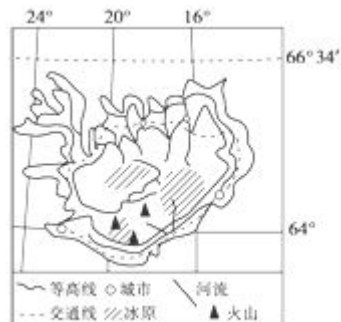
12. 冰岛多次被联合国评为“最宜居国家”。读冰岛地形图，据此完成下列各题。

(1). 下列关于该岛的叙述，正确的是

- A. 地势东高西低
B. 海上交通便利，对外加工贸易发达
C. 地处亚欧板块和美洲板块的消亡边界

(2). 当冰岛被低压中心控制时

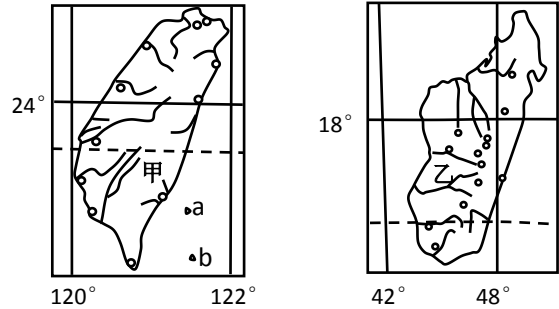
- A. 东非草原上的动物正向北迁徙
B. 长江进入汛期
C. 巴西高原草木枯黄
D. 中国南极中山站可能进入极昼期





13. 下图是世界两岛屿简图。读图，据此完成下列各题。

- (1). 图3中a、b两小岛的最短距离约为
A. 112千米 B. 60千米
C. 30千米 D. 84千米
- (2). 关于甲、乙两岛屿的比较，正确的是：
A. 甲岛的面积大于乙岛
B. 两岛均位于北半球
C. 两岛均位于板块边界
D. 两岛的地形特征相似

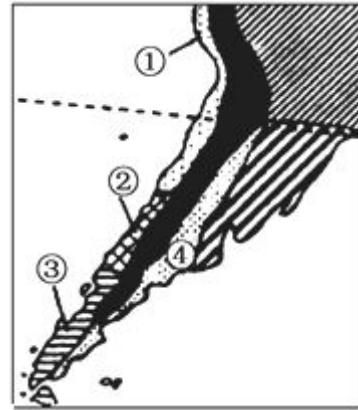


14. 关于巴西的叙述，正确的是：

- A. 亚马孙平原面积大，地势低平，水热充足，是巴西主要的农业区
B. 巴西是世界上咖啡、可可、大豆、蔗糖、小麦等农产品的重要生产国
C. 巴西的钢铁、汽车制造、飞机制造、石油等工业均居南美洲首位
D. 亚马孙河流域，覆盖着地球上面积最大的热带雨林

15. 读某区域气候类型示意图，据此完成下列各题。

17. ②气候类型区所处的自然带为：
A. 温带落叶阔叶林带
B. 亚寒带针叶林带
C. 亚热带常绿阔叶林带
D. 亚热带常绿硬叶林带
18. 影响④气候类型形成的主要因素是：
A. 地形 B. 热量
C. 水分 D. 洋流



16. 起源于西亚地区的世界性宗教包括（ ）

- A. 基督教、佛教 B. 基督教、伊斯兰教 C. 伊斯兰教、佛教 D. 印度教、伊斯兰教

17. 关于四大洋的叙述，正确的是：

- A. 跨经度最广的是太平洋 B. 印度洋一部分位于东半球
C. 面积最小的是北冰洋 D. 大西洋的轮廓呈椭圆形

18. 田纳西河两岸能够形成一条“工业走廊”，主要得益于

- A. 丰富的矿产资源 B. 旅游业的带动作用
C. 便利的航运条件 D. 全国最大的电力供应基地

19. 关于田纳西河流域综合开发的叙述，正确的是

- A. 以河流的梯级开发作为流域开发的核心
B. 以河流的防洪、发电作为流域开发的核心
C. 以提高河水的水质作为流域开发的核心
D. 以生态环境建设作为流域开发的核心

20. 就气候类型而言, 田纳西河流域属于

- A. 亚热带季风性湿润气候
B. 温带大陆性气候
C. 温带季风气候
D. 地中海气候

21. 亚马孙雨林被破坏的根本原因是

- A. 过度的迁移农业和商业性伐木
B. 人口增长和贫困导致的发展需求
C. 采矿、修路和城镇建设
D. 开辟大型农牧场

22. 亚马孙雨林被称“地球之肺”, 原因是

- A. 能够吸纳和滞蓄大量降水
B. 促进全球水循环, 调节全球水平衡
C. 深刻影响着地球大气中的碳氧平衡
D. 能够为人类提供大量的生物资源

23. 右下图为“某区域示意图”, 据此完成下列各题。

(1). 关于图中甲、乙、丙、丁四个区域特点的叙述, 正确的是

- A. 区域的大小、形状相同
B. 任何区域都有明确分界线
C. 各区域都具有一定的区位特征
D. 各区域内部的特定性质绝对一致

(2). 实时获取丙区域植被生长状况的信息, 所应用的地理信息技术主要是

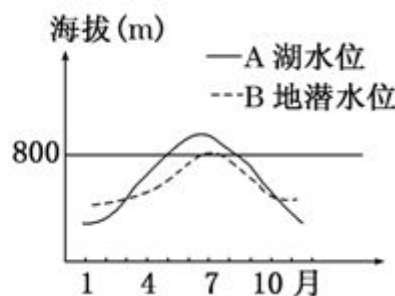
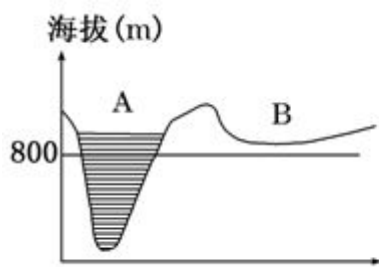
- A. 地理信息系统
B. 遥感
C. 全球定位系统
D. 数字地球



24. 受区域自然地理环境影响最明显的人类活动是

- A. 服务业
B. 工业
C. 金融贸易
D. 农业

25. 下图中 A 为我国塔里木盆地某内陆湖, B 为湖边的一处绿洲。据此完成下列各题。



(1). 注入 A 湖泊的河流, 其夏季、冬季主要补给水源分别是 ()。

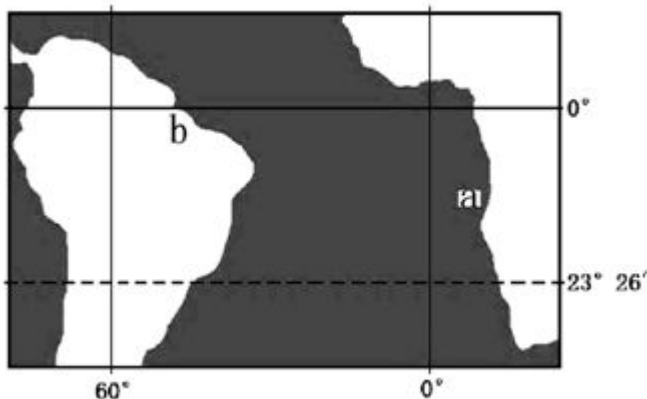
- A. 冰川融水、地下水
B. 积雪融水、地下水
C. 山地降水、大气降水
D. 冰川融水、山地降水

(2). B 地除了荒漠化以外还容易发生的主要生态问题及该问题最严重的季节是 ()。

- A. 水土流失、夏季
B. 湿地萎缩、冬季
C. 盐碱化、夏季
D. 荒漠化、春季



26.读图，为“世界某区域示意图”，据此完成下列各题。



- (1). 关于图中 a 海域的叙述，正确的是()
- A. 有寒流流经，等温线向较高纬凸出
 - B. 有暖流流经，对沿岸气候增温增湿
 - C. 有寒暖流交汇，形成较大规模渔场
 - D. 若油船泄漏，污染物沿海岸向北扩散
- (2). b 处为亚马孙河河口，关于该河流的叙述，正确的是()
- A. 河水主要补给源为冰雪融水
 - B. 河口处形成巨大的三角洲
 - C. 河流径流参与海陆间水循环
 - D. 干流流经热带草原气候区

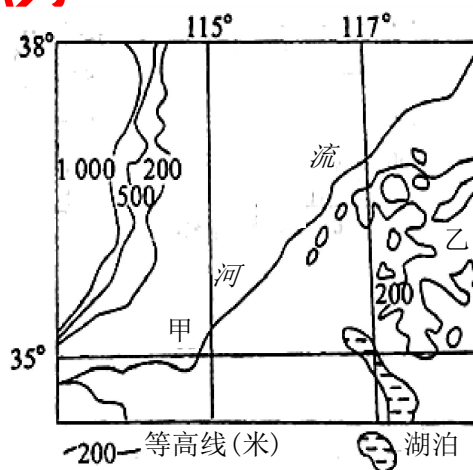
27. 读“某地区的经纬网和等高线图”，据此完成下列各题。

- (1) 图中甲地区土地盐碱化较轻、耕地质量较好的自然原因是 ()

- A. 人类长期耕作，形成了肥沃的水稻土
- B. 多为紫色土，冲积土壤比较肥沃
- C. 土壤中水、肥、气、热协调较好，肥力高
- D. 土壤中含钙质较多，黑土广布

- (2) 图中乙地区的经济作物和林木主要 ()

- A. 甘蔗、柑橘
- B. 甜菜、柑橘
- C. 花生、苹果
- D. 棉花、茶树



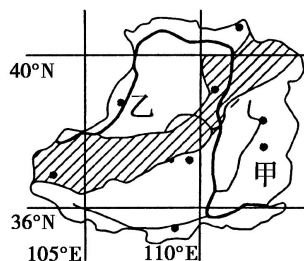
28.下图中阴影地带是表示我国某两种地理事物转变、交错分布的一个地带。据此完成下列各题。

- (1)、图中阴影可能是我国的()

- A. 半湿润、半干旱的过渡地带
- B. 二三级阶梯的过渡地带
- C. 是平原向高原的过渡地带
- D. 内流区与外流区的过渡地带

- (2)、图中甲地最主要的生态环境问题是()

- A. 荒漠化严重
- B. 水土流失严重
- C. 土壤次生盐碱化严重
- D. 土壤污染严重



29.我国粮食商品率最高的商品粮生产基地是 ()

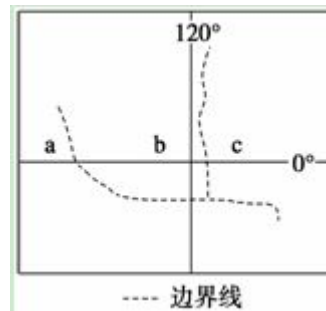
- A. 三江平原
- B. 江汉平原
- C. 太湖平原
- D. 松嫩平原

30.独特的地理条件使得东北地区不能成为我国重要的_____基地? ()



- A. 商品粮基地 B. 林业生产基地
C. 畜牧业生产基地 D. 商品棉基地
31. 黄土高原地区开发历史悠久，在全国经济发展中具有重要地位，但近些年来人地矛盾十分尖锐。黄土高原最大的环境问题是（ ）
A. 荒漠化 B. 水土流失 C. 酸雨 D. 气候变暖
32. 古丝绸之路南道及连接的古城，几乎全部被深埋在沙漠腹地，这反映了（ ）
A. 气候的异常变化 B. 绿洲因水资源枯竭而后退
C. 大陆漂向干旱的内陆 D. 地形的隆起
33. 下列属于影响国际产业转移的重要因素的是（ ）
①劳动力 ②内部交易成本 ③市场 ④气候
A. ①②③ B. ①③④ C. ②③④ D. ①②③④
34. 二战后鲁尔区经济衰退的主要原因是（ ）
A. 生产结构单一，煤炭能源地位下降
B. 煤炭资源枯竭，环境污染
C. 生产设备老化，生产效率太低
D. 煤炭、钢铁产量严重过剩，工业用地十分紧张
35. 有关三大自然区的叙述，正确的是（ ）
A. 东部季风区与青藏高原区的划分依据主要是地形因素
B. 西北干旱半干旱区自然特征差别显著，导致其差异的主要因素是气温因素
C. 东部季风区，由于人类对自然界的广泛而深刻的影响，使地形发生了巨大的变化
D. 西北干旱半干旱区与东部季风区的界线大约为200mm等降水量线
36. 下列不属于东部季风区的地貌单元是（ ）
A. 黄土高原 B. 四川盆地 C. 云贵高原 D. 内蒙古高原
37. 造成西北干旱半干旱区东西差异的主要原因是（ ）
A. 热量差异 B. 降水量差异 C. 植被差异 D. 土壤差异
38. 青藏高寒区农作物分布在河谷中的最主要的自然原因是（ ）
A. 河谷地区土壤肥沃 B. 河谷地区气温较高，热量条件较好
C. 河谷地区人口稠密，劳动力多 D. 河谷地区有丰富的水源
39. 秦岭---淮河一线是我国的（ ）
A. 1月均温0℃等温线 B. 降水量400毫米的划分线
C. 以北主要是温带大陆性气候，以南主要是亚热带季风气候
D. 划分的是我国东部地区，中西部内地不能用此线划分

40. 下图是“某区域板块示意图”



图中区域的产品在世界上具有重要地位的是()

- A. 铁矿、锡矿 B. 天然橡胶、油棕
C. 石油、铁矿 D. 玉米、水稻

41. 秦岭—淮河一线是我国()

- A. 冬小麦与春小麦主要产区的分界线
B. 农区畜牧业与牧区畜牧业分界线
C. 湿润区与半干旱区的界线
D. 亚热带常绿阔叶林带与温带落叶阔叶林带的界线

42. 我国三峡工程建设的首要目标是：()

- A. 防洪 B. 发电 C. 航运 D. 供水

43. 与新疆维吾尔自治区接壤的内陆国有：

- A. 蒙古、俄罗斯、哈萨克斯坦 B. 蒙古、哈萨克斯坦、阿富汗
C. 俄罗斯、哈萨克斯坦、阿富汗 D. 哈萨克斯坦、塔吉克斯坦、巴基斯坦

44. 我国四大盆地自然资源的共同特点是

- A. 水能资源丰富 B. 农业气候资源优越
C. 金属矿产资源多样 D. 石油或天然气资源丰富

45. 下列选项属于因地制宜开发利用新能源的是

- A. 华北平原农村广泛利用生物能，且热能利用效率高
B. 青藏高原开发利用水能、太阳能、地热能
C. 西北地区积极开发太阳能 D. 黄土高原地区大力建设核电站

46. 下列四大盆地中，崩塌、滑坡、泥石流等地质灾害发生比较频繁的是

- A. 四川盆地 B. 塔里木盆地 C. 准格尔盆地 D. 柴达木盆地

47. 下列地区与其主产的农作物组合正确的是

- A. 华北平原—棉花、甘蔗、冬小麦 B. 东北平原—大豆、甜菜、冬小麦
C. 江汉平原—棉花、油菜、水稻 D. 珠江三角洲—棉花、水稻、甘蔗

48. 黄土高原黄土地貌的最主要特征是

- A. 地表多石林、地下多溶洞 B. 地面波状起伏、相对高度不大
C. 地表千沟万壑 D. 地表起伏平缓、坦荡

49. 下列各农业区中由于春旱、夏涝常在年内交替出现而导致农作物产量低而不稳的是

- A. 长江中下游地区 B. 四川盆地 C. 松嫩平原 D. 黄淮海平原

50. 以下叙述中不符合珠江的是

- A. 水能资源丰富，有利于梯级开发 B. 水量、年货运量居全国第二位
C. 西江是主干，西江发源于云南省东南部 D. 经珠江三角洲注入南海

51. 以下做法符合农业发展需要的是



- A. 在珠江三角洲多种花卉、蔬菜、水果，发展塘鱼、禽畜生产
B. 在新疆不断扩大棉花的种植面积
C. 在辽宁省扩大甜菜的生产规模
D. 在黄土高原上建设全国性的商品粮基地
52. 以下山区中，山下、山上气候垂直变化尤为显著的是
A. 横断山区 B. 太行山区 C. 唐古拉山区 D. 阿尔泰山区
53. 以下关于山脉的叙述正确的是
A. 南岭介于四川盆地与两广丘陵之间 B. 武夷山脉介于江南丘陵和浙闽丘陵之间
C. 巫山在四川盆地的西缘 D. 阴山在内蒙古东部
54. 既不临海又不与邻国接壤的我国少数民族自治区是
A. 广西壮族自治区 B. 西藏自治区 C. 新疆维吾尔自治区 D. 宁夏回族自治区
55. 我国山区自然资源的优势在于
A. 降水丰富、土层深厚、土地肥沃 B. 矿产、森林、水能资源较为丰富
C. 面积占全国面积的 60% D. 可开垦的耕地资源丰富
56. 关于我国人口和民族的正确叙述是
A. 人口分布地理线大致沿京哈—京广线 B. 海南省的人口集中在中部地区
C. 少数民族人数最多的是汉族 D. 少数民族多分布在边疆地区
57. 下列关于我国气候要素的变化规律，正确的是
A. 夏季风弱的年份南方涝，北方旱 B. 降水的季节变化南方大，北方小
C. 气温年较差南方大，北方小 D. 夏季最高温出现在南方，冬季最低气温出现在北方
58. 下列地区，依靠冰雪融水和地下水发展成为我国著名灌溉农业区的是
A. 河西走廊 B. 宁夏平原 C. 河套平原 D. 成都平原
59. 关于我国下列地区的干湿状况、温度带、气候类型的叙述正确的是
A. 东北三省：湿润地区—中温带—温带季风气候
B. 云贵高原：半湿润地区—亚热带—热带、亚热带季风气候
C. 江南丘陵：湿润地区—亚热带—亚热带季风气候
D. 新疆：干旱地区—暖温带—温带大陆性气候
60. 以下具有含沙量较大，水量较小，汛期较短且有结冰期等特征的一组河流是
A. 长江、珠江、钱塘江 B. 海河、辽河、黄河
C. 鸭绿江、黑龙江、松花江 D. 澜沧江、金沙江、怒江
61. 下列关于长江中游的叙述中，正确的是
A. 从湖北城陵矶到湖南枝城的荆江河段有“九曲回肠”之称
B. 中游支流、湖泊众多，长江最大支流汉江从南面注入
C. 中游南北两侧的支流和湖泊对干流水量有天然的调节作用
D. 中游干流河道可全段通航 10000 吨级船舶
62. 目前，我国水资源最紧缺的地区主要位于

- A. 半湿润区 B. 半干旱区 C. 湿润区 D. 干旱区
63. 衡量区域发展水平，常用的指标不包括
A. 人均国内生产总值 B. 人均国民收入
C. 三次产业的产值比重 D. 人文发展的指标
64. 下列省区中，分别位于西部、中部、东部经济地带的是（ ）
A. 甘肃、山西、山东 B. 西藏、陕西、江苏
C. 青海、四川、广东 D. 内蒙古、安徽、福建。
65. 下列地理事物的空间分布均表现为岛状的是（ ）
A. 农业和工业 B. 城市和工业 C. 城市群和工业群 D. 铁路线和公路线
66. 山西建设坑口电站，不能达到的目标是（ ）
A. 减轻铁路运输压力 B. 改善能源输出方式 C. 增加经济产值 D. 降低省内环境污染
67. 有关马六甲海峡的叙述，错误的是（ ）
A. 位于马来半岛与苏门答腊岛之间 B. 沟通太平洋和印度洋
C. 日本将其称为“海上生命线” D. 是亚洲和大洋洲的分界线
68. 关于日本的叙述，正确的是（ ）
A. 位于亚欧板块与太平洋板块的张裂地带，地壳不稳定，多火山地震
B. 深受海洋影响，属于冬温夏凉、降水丰富的温带海洋性气候
C. 南部夏初有梅雨天气，夏秋之交常受台风影响
D. 首都东京位于濑户内海沿岸
69. 与中国接壤的东亚国家的首都有（ ）
A. 平壤、乌兰巴托、首尔 B. 平壤、首尔、东京
C. 莫斯科、平壤、乌兰巴托 D. 平壤、乌兰巴托
70. 关于亚洲的叙述，正确的是（ ）
A. 是世界上地形起伏最大、平均海拔最高的一洲 B. 三种季风气候俱全
C. 跨经度和纬度最多的洲 D. 人口超过一亿的国家有 5 个
71. 下列叙述正确的是（ ）
A. 白色人种是世界人数最多的人种，黄色人种居第二位
B. 英语是世界上主要的语言之一，亦是最多人使用的语言
C. 非洲是黑种人的故乡，印度人、阿拉伯人都属黑色人种
D. 世界人口最密集的地区是西欧和中欧



72.关于世界人口增长和分布的正确叙述是（ ）

- ①近代世界人口增长的速度呈逐渐加快的趋势 ②70年代以来，世界人口因普遍实行计划生育而停止增长 ③从社会经济发展的角度，一个国家或地区的人口发展越慢越好 ④西欧平原和德干高原都是人口稠密区

A.①② B.③④ C.①④ D.②④

73.下列哪个大洲既位于北半球又位于西半球（ ）

A.亚洲 B.非洲 C.北美洲 D.南美洲

74.关于大洲和大洋的不正确叙述是（ ）

- A.太平洋和大西洋都跨东西两半球 B.大洋洲跨东、西、南、北四个半球
C.南极洲是世界上地势最高的大洲 D.北冰洋全部在东半球

75.据报道，我国江西省南部山区出现了大片土地裸露的“红色荒漠”，据此完成下列各题。

(1)．“红色荒漠”形成的自然原因主要是（ ）

- A. 风蚀作用 B. 水蚀作用 C. 沉积作用 D. 溶蚀作用

(2)．“红色荒漠”形成的人为原因主要是（ ）

- A. 滥伐森林 B. 开山取石 C. 过度放牧 D. 风化作用

76.根据“因地制宜”的方针，下列地区与应种植农作物搭配正确的一组是（ ）

- A. 山东半岛——水稻、花生、橡胶 B. 四川盆地——甘蔗、水稻、甜菜
C. 洞庭湖平原——春小麦、油菜、水稻 D. 松嫩平原——春小麦、大豆、甜菜

77. 读中国地理四大区域图，据此完成下列各题。

(1)．综合考虑纬度、地形、气候等因素，四大区域太阳年辐射总量最大的是（ ）

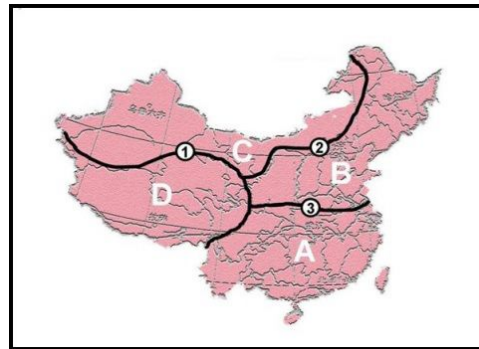
- A. a B. b C. c D. d

(2)．有关四大区域农业发展主要制约因素的叙述，错误的是（ ）

- A. a——洪涝灾害 B. b——土壤肥力
C. c——灌溉水源 D. d——生长积温

(3)．C区从东往西，植被依次为（ ）

- A. 草原—森林—荒漠草原—荒漠
B. 森林—森林草原—草原—森林
C. 森林草原—荒漠—绿洲—草原
D. 森林草原—草原—荒漠草原—荒漠



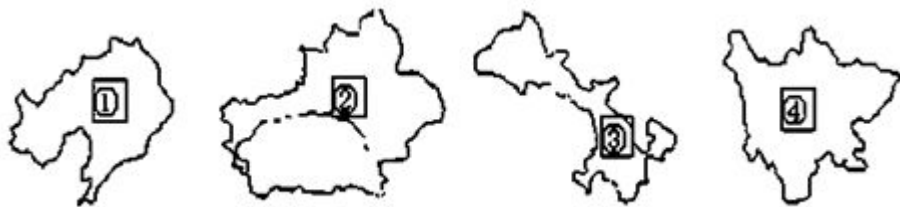
78.有关日本、英国的正确叙述是

- A. 两国都是位于北纬 40°~60°的岛国 B. 两国都属于温带海洋性气候
C. 两国能源、矿产都很贫乏 D. 工业中心主要分布在航运方便的沿海地区

79.关于我国外流河水文特征的叙述，正确的是

- A. 长江和黄河的含沙量均大，汛期均长 B. 珠江比黄河流程短，但汛期却长
C. 海河的水含沙量大，汛期长，冬季结冰 D. 东北的辽河是我国结冰期最长的河流

80.读我国四省区轮廓图，据此完成下列各题。



- (1). 在四省区中既临渤海又临黄海的是 A.① B.② C.③ D.④
 (2). 四省区中相邻国家最多的是 A.① B.② C.③ D.④
 (3). 在这四个省级行政区中，其中与三个自治区相接壤的是 A.① B.② C.③ D.④

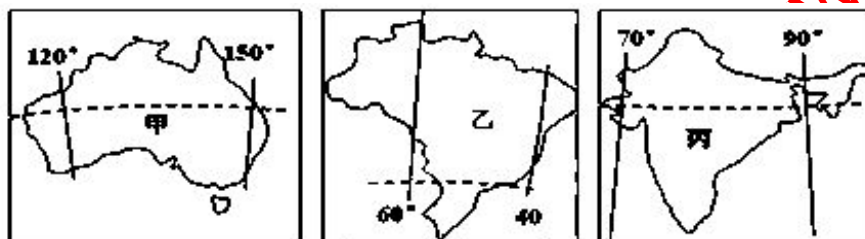
81.关于我国水能资源的叙述正确的是：

- A.蕴藏量居世界首位 B.以黄河水系上的蕴藏量为最多
 C.西北水能蕴藏量占全国 70% D.我国水能资源开发利用充分

82.地处我国地势第二阶梯，农业发达、人口稠密的平原是：

- A.台西平原 B.珠江三角洲 C.黄河三角洲 D.成都平原

83.下图所示甲、乙、丙三国均为世界某种矿产资源重要出口国，据此完成下列各题。



- (1) 该矿产资源是
 A. 铜矿 B. 石油 C. 煤炭 D. 铁矿
 (2). 矿石运输船从丙国沿较短航线驶往意大利，沿途依次经过的海域为
 A. 马六甲海峡、曼德海峡、苏伊士运河、直布罗陀海峡
 B. 阿拉伯海、曼德海峡、红海、地中海
 C. 红海、亚丁湾、阿拉伯海、苏伊士运河
 D. 亚丁湾、霍尔木兹海峡、红海、苏伊士运河

84.我国核电站主要分布在东部沿海地区，其主要原因是该区域

- A. 环境容量大 B. 铀矿等核燃料资源丰富
 C. 能源需求量大 D. 海运便利，燃料运输成本低

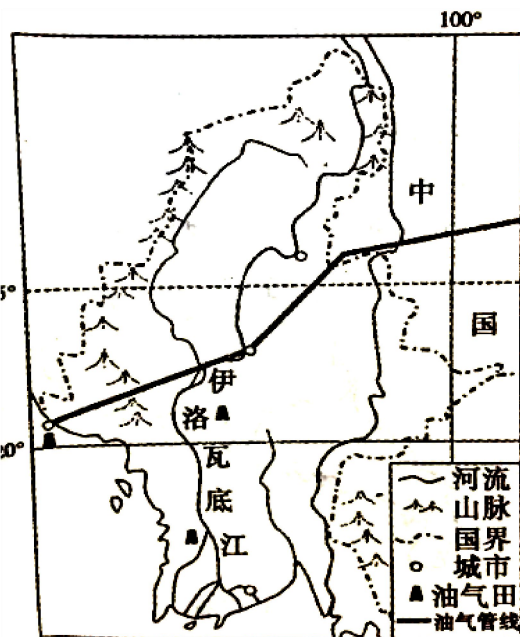
二、综合题

85. 结合中缅油气管道示意图，回答问题。（18 分）

（1）指出中缅油气管道在施工过程中的最大限制性因素，并分析该管道建设对缅甸的有利影响。（6 分）

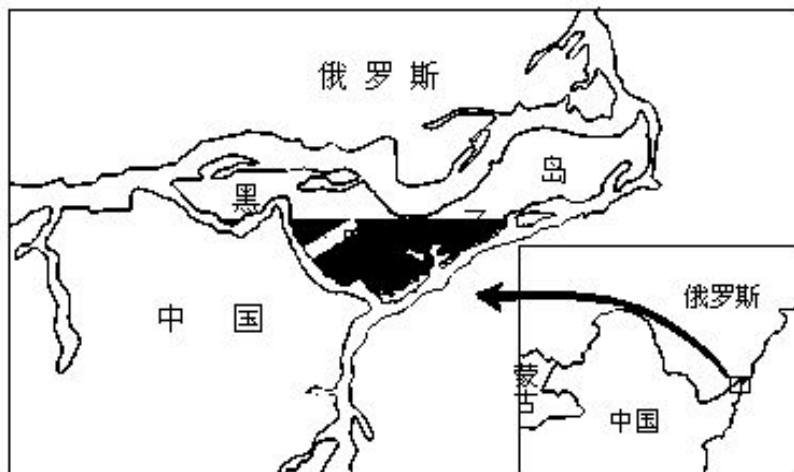
（2）据图分析伊洛瓦底江下游地区农业生产的条件。（6 分）

（3）目前缅甸正在积极承接来自东南沿海地区的产业转移，请指出缅甸承接产业的主要类型并分析其承接产业转移的优势条件。（6 分）



86. 读下列图文资料，回答有关问题。（12 分）

2008 年 10 月 14 日，中俄两国在黑瞎子岛上举行中俄界碑揭牌仪式，这标志着中俄长达 4300 多千米的边界全部确定。黑瞎子岛平均海拔约 40 米，地势低平，湿地广布；岛上栖息着珍贵的毛皮兽和水鸟，全岛基本处于未开发状态。



（1）分析黑瞎子岛湿地广布的原因。（6 分）

（2）对于黑瞎子岛的未来，专家表示出不同的观点，有的主张开发，有的主张不开发。你同意哪种观点？请说明理由。（6 分）



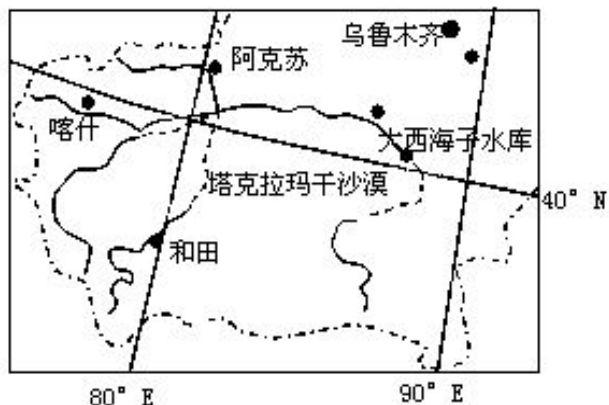
87.读塔里木河流域示意图，回答下列问题。（18分）

（1）塔里木河流域是我国沙漠面积最大的地区，简述该河流域沙漠面积广大的原因。

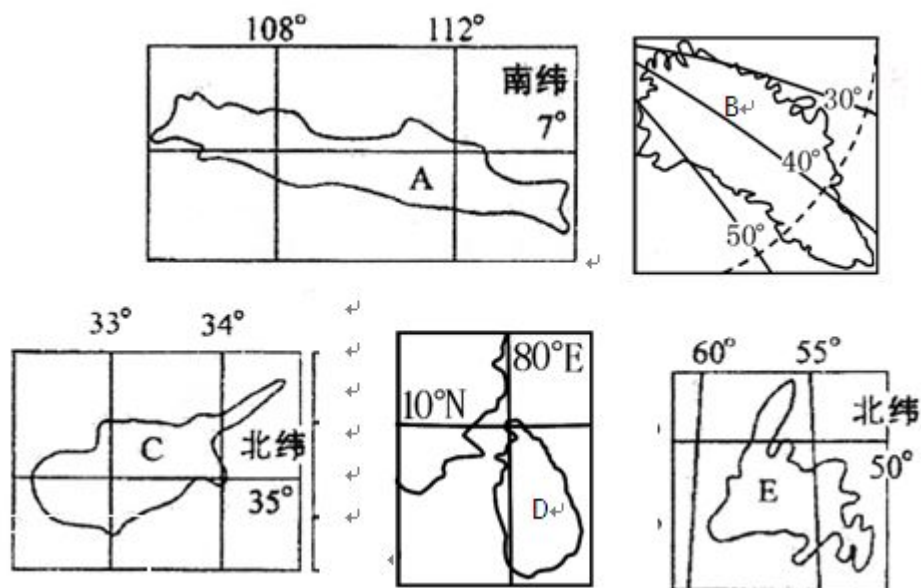
（6分）

（2）结合所学知识，说明近年来该河流域荒漠化面积不断扩大的主要人为因素。（6分）

（3）试提出该地区防治荒漠化面积扩大应采取的措施。（6分）



88.读下面岛屿图，完成要求（除必须用汉字作答的以外，其余问题答案皆填各岛屿英文字母）。（10分）



- （1）居民在当地永远看不见北极星的岛是_____岛，有极昼极夜现象的是_____岛；
- （2）属地中海气候的是_____岛；A岛的气候特征为_____。
- （3）位于西半球的是_____、_____岛。
- （4）_____岛附近有世界著名的纽芬兰渔场，其形成原因是_____
- （5）有“印度洋明珠”之称的是_____岛，岛上盛产_____（农产品），为世界最主要的该种产品的生产国之一。

89.读下图，完成下列要求：(13 分)

(1)A、B、C、D 四城市分别为：

A. _____ B. _____

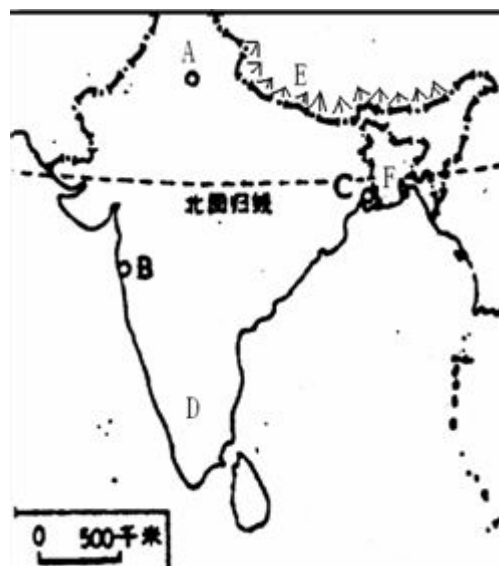
C. _____ D. _____

(2)在 A、B、C、D 四城市中，_____是麻纺织工业中心，_____是棉纺织工业中心。

(本题两空均填字母)

(3)用板块构造学说说明 E 处所在的山脉是怎样形成的。(2 分)

(4)A 所在国突出的人口问题是什么？应采取什么措施？(3 分)

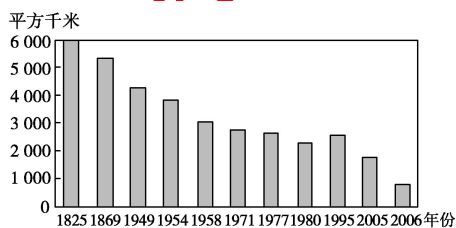


(5) F 处容易发生洪涝灾害的自然原因是。(2 分)

90.图甲是 20 世纪 80 年代洞庭湖示意图。图乙是洞庭湖 1825~2006 年间同水位湖面面积变化柱状图。读图回答下列问题。(12 分)



图甲



图乙

(1)洞庭湖面积变化的趋势是_____，主要原因是_____、_____。(3 分)

(2)洞庭湖是我国重要的湖泊湿地。洞庭湖面积的这种变化，将严重削弱其_____、_____、_____等生态价值和_____、_____、_____等经济价值。(6 分)

(3)洞庭湖湿地生态环境保护需采取哪些措施。(至少答 3 点)(3 分)

91.下图为我国资源的跨区域调配示意图，读图回答下列问题。(16 分)

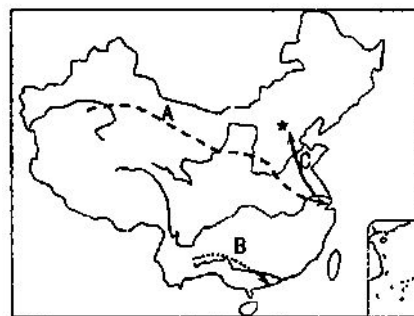
(1)图中 A、B、C 示意我国正在建设的三大资源调配工程，它们分别是“_____”工程、“_____”工程的南部通道和“_____”工程的东部线路。

(2)我国实施资源跨区域调配的原因是_____的空间分布不均和_____发展的不平衡。

(3)C 工程东线方案的优点是①_____

②_____

缺点是：_____。



北京博飛WWW.PKUZYW.COM