

备考港澳台联考 地理绝密资料

港澳台联招必考试题-----区域地理 10-10

编写：北京博飞华侨港澳台学校

区域地理 10-试题

一、单选题

1.读右图，完成下列各题。

(1). 图示区域农作物的商品率较高，主要原因是 ()

- A. 平原起伏较大 B. 高温多雨
C. 人口密度较小 D. 复种指数高

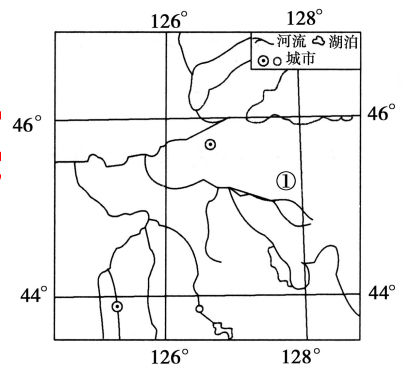
(2). ①地存在的主要生态问题是 ()

- A. 天然林减少 B. 土地盐碱化
C. 洪涝灾害 D. 沙尘暴

(3). 下列属于该地区优势农产品的是()

- ①水稻 ②小麦 ③大豆 ④棉花

- A. ①②③ B. ①②④ C. ①③④ D. ②③④



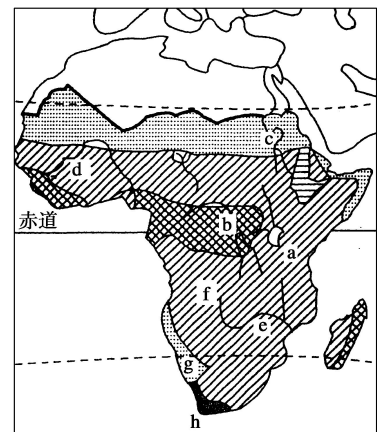
2.读非洲气候分布图，完成下列各题。

(1).主要地形区及地理事物叙述错误的是：

- A. a 为东非高原
B. b 为刚果盆地
C. c 为尼罗河
D. d 为赞比西河

(2). f g h 四处的气候类型分别是：

- A. 热带沙漠气候 热带雨林气候 地中海气候
B. 热带草原气候 热带沙漠气候 地中海气候
C. 热带沙漠气候 地中海气候 温带海洋性气候
D. 热带雨林气候 热带草原气候 亚热带季风气候



3.读下图，完成下列各题。

(1). 图示河流所在地形区突出的地理特征是

- ①气候湿热 ②人口稀疏
③城市密集 ④商品谷物农业发达

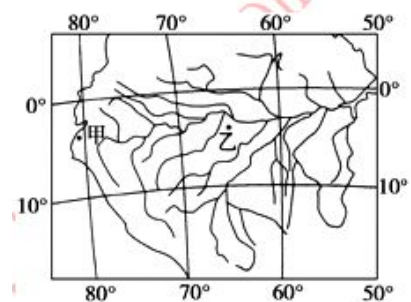
- A. ①② B. ③④
C. ①④ D. ②③

(2). 该河流河口海域

- A. 国际海运繁忙 B. 是“淡水海”
C. 台风多发 D. 有世界著名渔场

(3). 甲、乙两地自然带明显不同的主要影响因素分别是

- A. 地形、暖流 B. 寒流、地形 C. 寒流、大气环流 D. 地形、大气环流



4.读下图，完成下列各题。

(1). 图示岛屿所属的大洲是

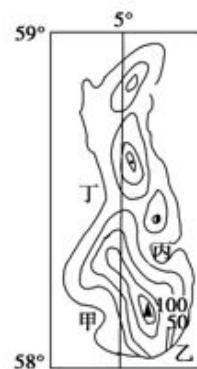
- A. 亚洲 B. 欧洲
C. 大洋洲 D. 北美洲

(2). 该岛的气候特点与日本相比，其共同点是

- A. 最有明显的海洋性 B. 最冷月均温在 0°C 以下
C. 降水季节变化明显 D. 雨热同期

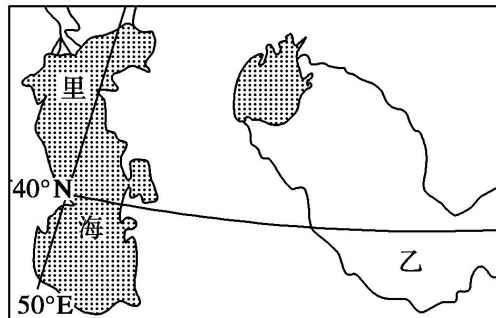
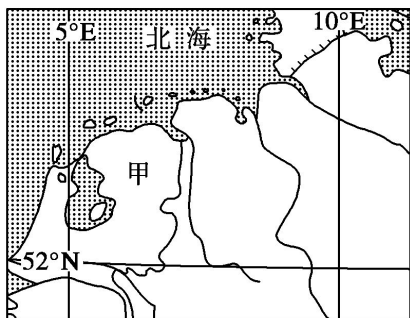
(3). 图中甲、乙、丙、丁四地最适合建渔港的是

- A. 甲 B. 乙 C. 丙 D. 丁



北京博飞 www.pkuzyw.com

5. 下图是一组世界区域地图。根据所学知识，完成下列各题。



(1). 图中甲、乙两地发展种植业生产的主要制约因素分别是()

- A. 土壤、水源
B. 光热、降水
C. 风向、地势
D. 地形、河流

(2). 乙地由于不合理灌溉而引发的主要环境问题是()

- A. 水土流失
B. 沙尘暴
C. 土地盐渍化
D. 洪涝灾害

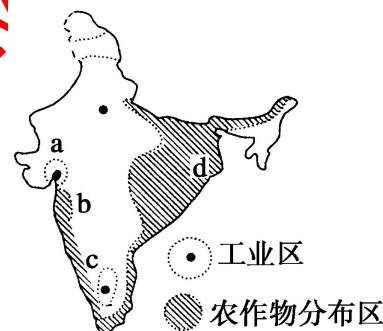
6. 2013年2月7日，印度班加罗尔举行了国际航空展，读图，完成下列各题。

(1). 班加罗尔是印度重要的工业中心之一，其主要的工业类型和分布组合正确的是()

- A. 技术导向型工业—c
B. 技术导向型工业—b
C. 市场导向型—c
D. 原料导向型工业—b

(2). 由孟买直线到加尔各答，其年降水量的变化是()

- A. 逐渐减少
B. 先逐渐减少，后逐渐增加
C. 逐渐增加
D. 先逐渐增加，后逐渐减少



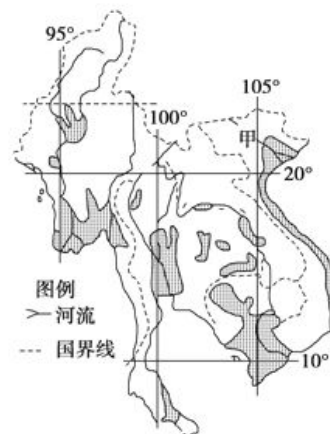
7. 下图是世界某地区图。完成下列各题。

(1). 图中阴影部分表示该地区某种农产品的主要产区，该农产品为

- A. 茶叶
B. 玉米
C. 稻米
D. 天然橡胶

(2). 下列产业部门中，目前最适宜由中国向图中甲国转移的是

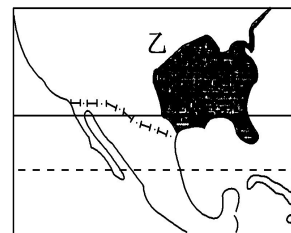
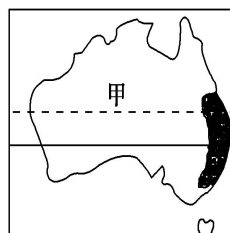
- A. 汽车制造
B. 精钢锻造
C. 软件开发
D. 家具制造



8. 读下图，完成下列各题。

(1). 下列关于甲、乙两国的叙述，错误的是()

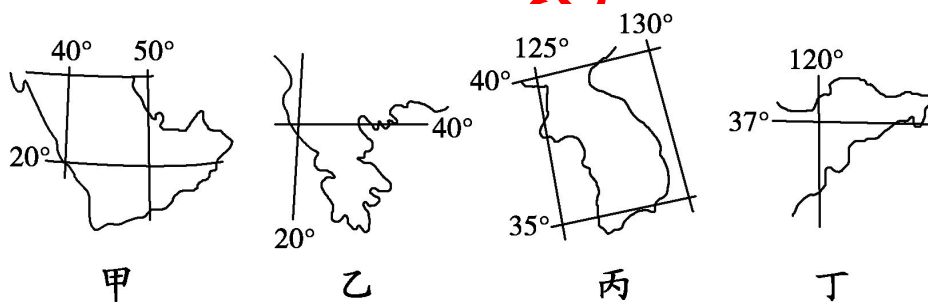
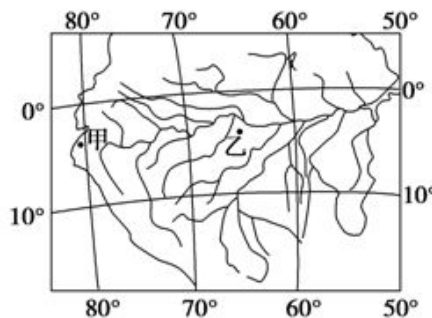
- A. 两国人口再生产类型都属于现代型
B. 两国都有大牧场放牧业
C. 两国都是世界著名的粮食出口国
D. 两国工业都集中分布在东北部



- (2). 造成两国阴影区气候分布面积差异的原因是()。
- ①夏季风受地形的影响：甲国比乙国显著 ②海陆热力性质差异：乙国比甲国小
③阴影区沿岸受洋流的影响：乙国比甲国大 ④国土面积：甲国比乙国大
- A. ①② B. ②③
C. ③④ D. ①③

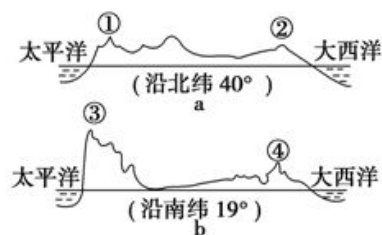
9.读下图，完成下列各题。

- (1). 图示河流所在地形区突出的地理特征是()
- ①气候湿热 ②人口稀疏
③城市密集 ④商品谷物农业发达
- A. ①② B. ③④ C. ①④ D. ②③
- (2). 该河流河口海域()
- A. 国际海运繁忙 B. 是“淡水海”
C. 台风多发 D. 有世界著名渔场



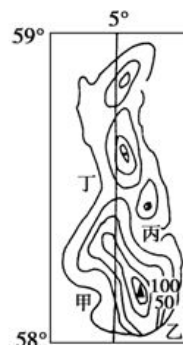
10.下图为亚欧大陆四个半岛的示意图，完成下列各题。

- (1). 四个半岛自西向东依次是()
- A. 甲乙丙丁 B. 乙甲丁丙 C. 丙丁甲乙 D. 丁丙甲乙
- (2). 乙和丙相同的地理特征是()
- A. 地形以山地为主 B. 河流汛期一致
C. 发展园艺业为主 D. 人口再生产类型相同
- (3). 有利于发展劳动密集型工业的半岛是()
- A. 甲和乙 B. 乙和丙 C. 丙和丁 D. 甲和丁



11.图 a、图 b 分别是“某两个大洲大陆的地形剖面图”。完成下列各题。

- (1). 图中表示落基山脉的数字是()
- A. ① B. ② C. ③ D. ④
- (2). 流经山脉③西侧的洋流是()
- A. 加利福尼亚寒流 B. 北太平洋暖流
C. 秘鲁寒流 D. 本格拉寒流



12.读右图，完成下列各题。

- (1). 图示岛屿所属的大洲是()
- A. 亚洲 B. 欧洲
C. 大洋洲 D. 北美洲
- (2). 该岛的气候特点与日本相比，其共同点是()
- A. 最有明显的海洋性 B. 最冷月均温在 0℃ 以下

C. 降水季节变化明显 D. 雨热同期

(3). 图中甲、乙、丙、丁四地最适合建渔港的是()

A. 甲 B. 乙 C. 丙 D. 丁

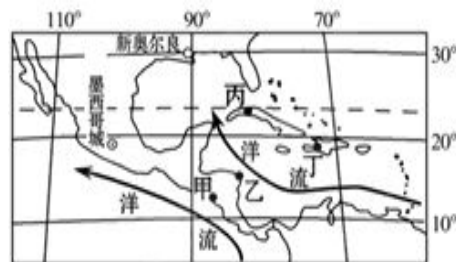
13.读中美洲及附近地区示意图,完成下列各题。

(1). 甲、乙两地相隔不远,但降水差异大,其主要原因是

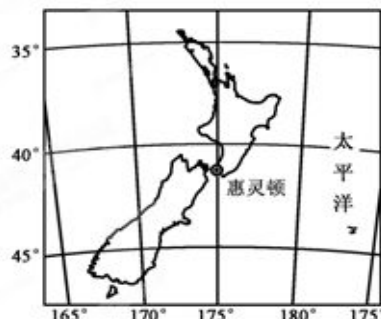
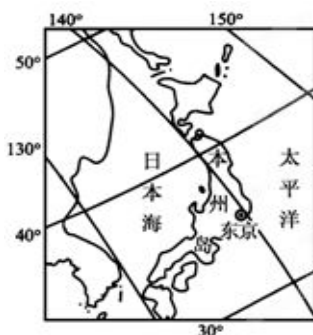
- A. 甲处于信风背风坡,降水少;乙处于迎风坡,降水多
B. 甲处于赤道低气压带控制区,降水多;乙处于信风带,降水少
C. 甲沿岸有寒流经过,降水少;乙处有暖流影响,降水多
D. 甲处于西风迎风坡,降水多;乙处于背风坡,降水少

(2). 中美洲是世界香蕉的主要产地,导致其香蕉产量大的主要社会经济条件是

- A. 农业技术水平高 B. 以香蕉为主要食物
C. 高温多雨的气候 D. 邻近美国,市场需求量大



14.读下面两图,完成下列各题。



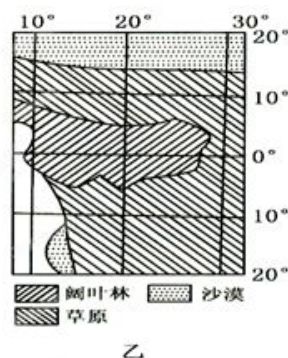
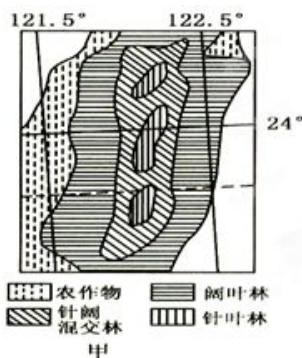
(1). 日本与新西兰的地理特征相比,下列叙述正确的是

- A. 所处的南北半球不同,但都位于东半球
B. 两国均以平原地形为主
C. 两国的气候都具有海洋性特征
D. 日本的面积小于新西兰

(2). 2011年2月22日新西兰发生里氏6.3级地震,3月11日日本东部附近海域发生9.0级地震。两国多地震的共同原因是

- A. 均位于太平洋板块的西部 B. 均位于亚欧板块东部边界
C. 均位于地壳活跃地带 D. 均位于板块的生长边界

15.读甲、乙两地植被分布图,完成下列各题。



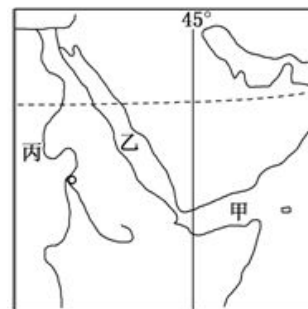
(1). 影响甲乙两地植被分布的主导因素分别是

- A. 光照和热量 B. 地形和降水
C. 地形和热量 D. 降水和光照

- (2). 有关乙图中草原带的说法正确的是
- 与我国内蒙古高原的草原成因相同
 - 图示区域中草原生长时间相同
 - 草原带的主要成因是受赤道低压带和副热带高压带交替控制形成
 - 部分草原带的形成与地形因素有关

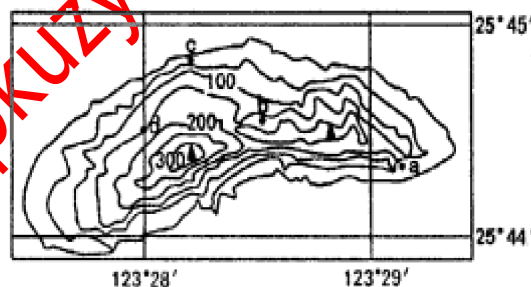
16. 读世界某热点区域图，完成下列各题。

- (1). 关于图示地区主要气候特征的叙述正确的是
- 降水主要集中在冬季
 - 全年高温多雨
 - 全年高温且降水稀少
 - 夏季盛行西南风，冬季盛行东北风
- (2). 图示地区丰富的自然资源有
- 煤炭、铁矿
 - 生物、石油
 - 石油、光照
 - 水资源、森林
- (3). 有关丙河的叙述，正确的是
- 为世界上流域面积最大的河流
 - 支流众多，流量丰沛
 - 全年流量平稳，航运价值大
 - 流域内灌溉农业发达



17. 下图为某岛等高线分布图（单位：米）。完成下列各题。

- (1). 由图可知该岛
- 面积约为 40km²
 - 常年受暖流影响
 - 东南海岸山岩平缓
 - 西北海岸山岩陡峭
- (2). 站在岛上最高处可观测到的地点是
- a
 - b
 - c
 - d
- (3). 由图可知该岛
- 夏季高温多雨，冬季温和湿润
 - 受副热带高压带影响，全年炎热干燥
 - 夏季西北部降水多
 - 冬季东南部降水多

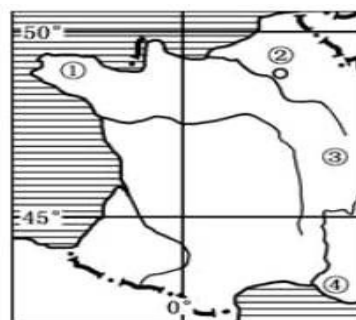


18. 在 2008 年樱花盛开的季节，胡锦涛主席一行圆满完成了对日本的“暖春之旅”。此行进一步推进了中日友好关系的发展。完成下列各题。

- (1). 日本与我国一水之隔，这里的“一水”是指
- 日本海
 - 渤海
 - 黄海
 - 东海
- (2). 每年日本不同地区樱花开放日期各不相同。从 4 月初到 6 月末樱花依次盛开的地区是
- 本州、九州、北海道
 - 北海道、本州、九州
 - 九州、本州、北海道
 - 北海道、九州、本州

19. 下图所示为世界某国局部示意图，完成下列各题。

- (1). 图示地区北部地势特点大致
- 西高东低
 - 中间低四周高
 - 东高西低
 - 北高南低
- (2). 该国以葡萄美酒著名，大范围种植葡萄的地点在
- ①地
 - ②地
 - ③地
 - ④地





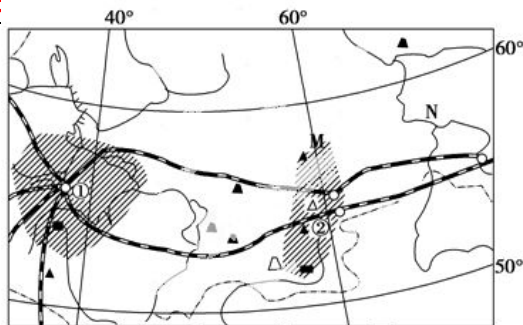
20. 读图完成下列各题。

(1). N 河流的主要补给类型是:

- A. 降雨 B. 地下水
C. 积雪融水 D. 高山冰雪融水

(2). 下列叙述错误的是:

- A. 由①至②地区降水逐渐减少
B. M 处是乌拉尔山脉, 亚欧分界线
C. ①工业区与②工业区比, ①工业区的优势是通、科技
D. 图中的河流不会出现凌汛



市场、交

21. 读右图, 完成下列各题。

(1). ①岛地热资源丰富, 其原因是该岛 ()

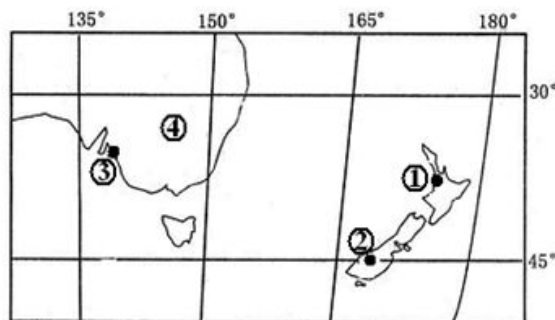
- A. 位于太平洋板块和南极洲板块交界带
B. 位于环太平洋火山、地震带
C. 位于太平洋海岭的张裂带
D. 多断层构造, 滑坡泥石流频发

(2). 图中③地的自然带是 ()

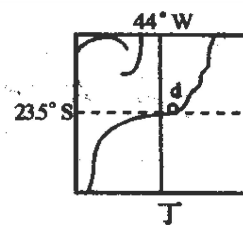
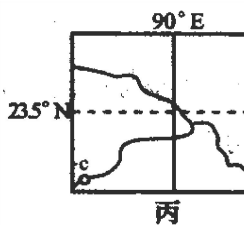
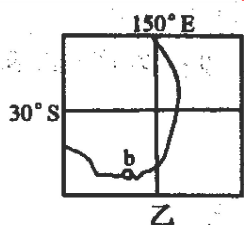
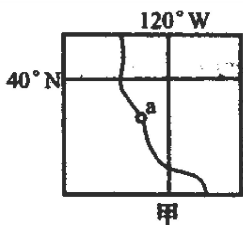
- A. 热带草原带 B. 亚热带常绿硬叶林带
C. 温带落叶阔叶林带 D. 亚热带常绿阔叶林带

(3). 当①、②两地居民同时见到日落时, 下列说法正确的是 ()

- A. 南极臭氧空洞达到最大值 B. ③地正值高温多雨
C. ④地正值小麦收割时期 D. ①地的昼长大于②地



22. 读四个国家局部地区简图 (如下图), 完成下列各题。



(1). 最近国际市场石油价格上涨, 四国为了保证石油的长期稳定供应, 你认为可采取的应对措施是

- A. 甲国大量动用石油战略储备
B. 乙国可从其东面邻国大量进口石油
C. 丙国利用其极为丰富的天然气资源以替代石油
D. 丁国利用甘蔗等生物原料大量生产乙醇以替代石油

(2). 某跨国服装公司欲建立新的海外加工基地, 甲、乙、丙、丁四国中较为合适的是

- A. 甲、乙 B. 丙、丁 C. 乙、丙 D. 甲、丁

(3). a、b、c、d 四地发展工业的共同优势条件是

- A. 人力资源充足 B. 煤炭资源丰富
C. 海运便利 D. 技术先进

(4). 为促进 c、d 两地钢铁工业的发展, 可以

- A. 从国外引进技术、资金、人才 B. 从国外大量进口煤炭、铁矿石
C. 分散布局, 以节约成本 D. 缩小规模, 以适应市场

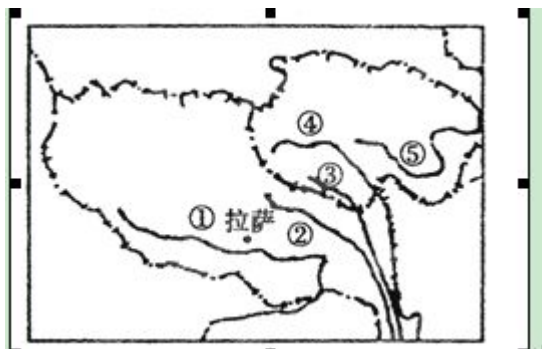
23.读右图,完成下列各题。

(1). 2000年8月19日,我国面积最大的自然保护区——三江源自然保护区正式成立,“三江”是指图中的()

- A. ①②③ B. ②③④
C. ③④⑤ D. ①③④

(2). 下列关于该地区叙述,正确的是()

- A. 建立自然保护区目的是保护生物多样性和各种生态系统
B. 拉萨大量使用太阳能电池主要原因是其他资源贫乏
C. 青藏高原的农业特色是绿洲农业
D. 青藏高原主要的运输方式是铁路运输



24.读上图两区域局部图,完成下列各题。

(1).图中两个区域

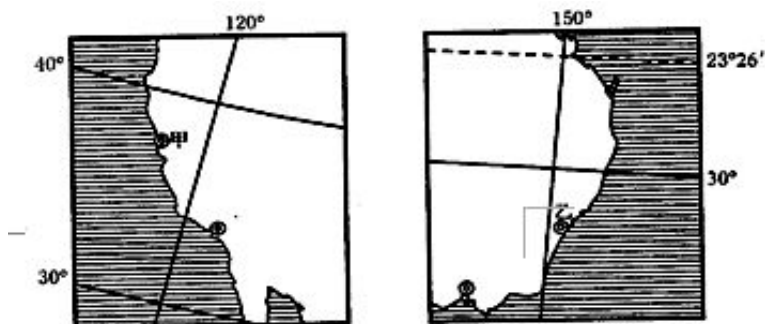
- A.同属一个大洲
B.同临一个大洋
C.同处一个半球
D.同为发展中国家

(2).甲、乙两城市的气候

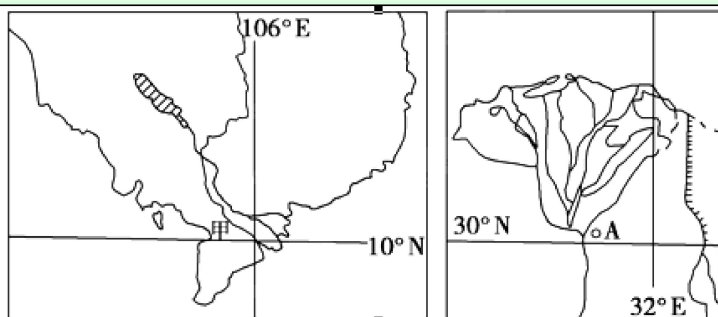
- A.高温期与多雨期均相同
B.高温期相同,多雨期不同
C.高温期不同,多雨期相同
D.高温期与多雨期均不同

(3).乙所在的国家

- A.多火山地震 B.东部有寒流经过
C.中部水资源缺乏 D.有丰富的石油资源



25.下图为世界某两条大河的三角洲略图,完成下列各题。



(1)关于甲、乙两个三角洲自然地理状况的叙述,正确的是

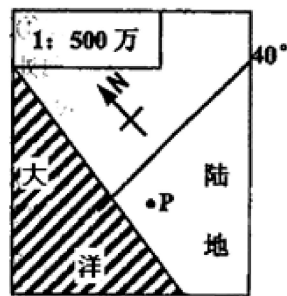
- A.两地区全年盛行西南风
B.两地区气候形成原因相同
C.两地区的主要河流水量丰富
D.两地区以流水堆积地貌为主

(2)两三角洲所在地区的叙述,正确的是

- A.乙地为季风气候 B.甲地多洪涝灾害
C.甲地农作物以小麦为主 D.乙地居民多为黑色人种

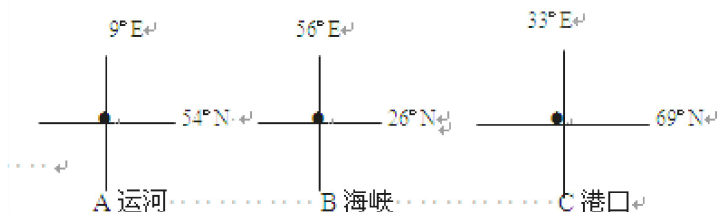
26.读右图完成下列各题。

- (1).若 P 地常年受西风带影响, 则该地位于
A. 欧洲西部沿海 B. 美国西部沿海
C. 非洲西南沿海 D. 南美西南沿海
- (2).此时 P 地同纬度大陆东岸的自然带类型是
A. 温带落叶阔叶林带 B. 亚热带常绿阔叶林带
C. 温带荒漠带 D. 亚热带常绿硬叶林带



27.下图为世界著名的运河、海峡、港口所在地的经纬度,

完成下列各题。



- (1). 运河 A 沿岸的植被类型是
A. 亚寒带针叶林 B. 温带落叶阔叶林
C. 温带草原 D. 温带荒漠
- (2). 图中 B 海峡连接的两大海域是
A. 波斯湾和阿拉伯海 B. 红海和阿拉伯海
C. 地中海和黑海 D. 波罗的海和北海
- (3). 关于港口 C 说法正确的是
A. 该港口附近降水季节变化大 B. 该港口是太平洋沿岸著名的港口
C. 该港口深受暖流影响 D. 该港口所在国家内河航运特别发达

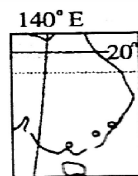
28.下图是四个国家示意图, 完成下列各题。

- (1).关于四国地理特征的叙述, 不正确的是 ()
A. 甲国被誉为“骑在羊背上的国家”
B. 乙国是世界上输出农产品最多的国家
C. 丙国北部海域有世界著名的渔场
D. 丁国位于欧洲的“十字路口”

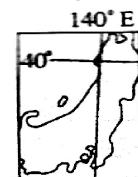
- (2).关于四国城市的叙述, 正确的是 ()
A. 最大港口所临海域都受暖流影响
B. 首都都是最大城市
C. 最大城市都是国际金融中心
D. 主要城市都分布在东南沿海

- (3).关于四国河流的叙述, 正确的是 ()

- A. 甲国最长河流为内流河
B. 乙国有世界上最长的河流
C. 丙国河流径流量稳定
D. 丁国河流航运价值大
- (4). 图中的四国属于亚太经合组织 (APEC) 成员的是 ()
A. 甲和乙 B. 丙和丁 C. 甲和丙 D. 乙和丁



甲



丙

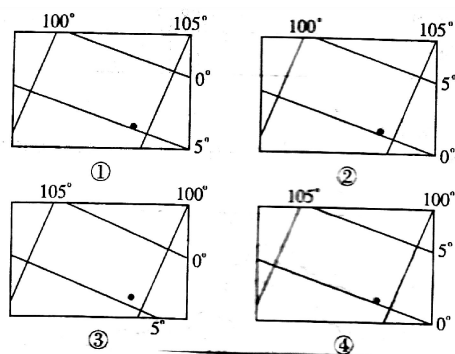


乙



丁

29. 某岛国面积不大，资源贫乏，但利用有利的地理位置，积极发展适合本国国情的经济部门，成为世界上著名的贸易港和工业国。在下面四幅经纬网图中，正确表示这个国家位置的是（ ）



- A. ① B. ② C. ③ D. ④

30. “五十六个民族，五十六枝花，五十六个兄弟姐妹是一家……”这首歌曲唱出了各族人民的心声。请你判断，我国人口最多的少数民族主要分布在下列哪一省(区)

- A. 新疆 B. 西藏 C. 广西 D. 内蒙古

31. 读右图，完成下列各题。

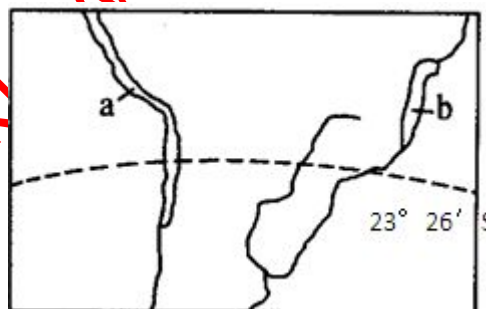
(1) a 区域的自然带是（ ）

- A. 热带荒漠带
B. 热带草原带
C. 热带雨林带
D. 亚热带常绿硬叶林带

(2) b 区域所属气候类型的形成原因主要是（ ）

- ① 位于西风带的迎风坡 ② 位于信风带的背风坡
③ 位于信风带的迎风坡 ④ 沿岸有寒流流经
⑤ 沿岸有暖流流经 ⑥ 位于低纬地区，终年受上升气流的影响

- A. ①④⑥ B. ②④⑤ C. ③⑤ D. ⑤⑥



32. 下图为“世界上四个国家局部地区示意图”，读图 5，完成下列各题。

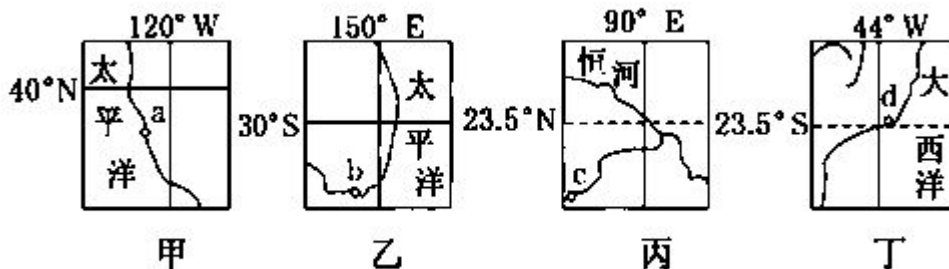


图 5

(1). 某跨国服装公司欲建立新的海外加工基地，你认为上图所示的甲、乙、丙、丁四国中较为合适的是（ ）

- A. 甲乙 B. 丙丁 C. 甲丙 D. 乙丁

(2). 图中 a、b、c、d 四地发展工业的共同优势条件是（ ）

- ① 人力资源充足 ② 所在国矿产资源丰富 ③ 海洋运输便利 ④ 科学技术先进

- A. ①② B. ②③ C. ③④ D. ②④

(3). 有关四国特征的描述，不正确的是（ ）

- ① 甲国农业高度发达，是世界上最大的粮食出口国

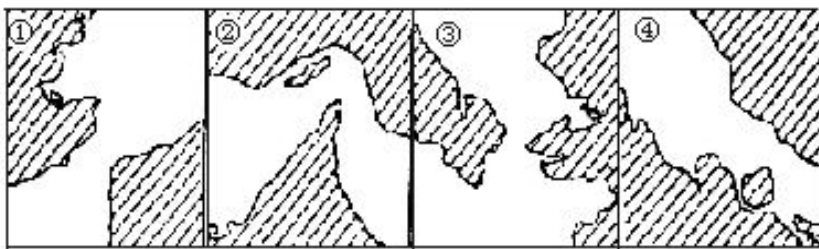
- ②乙国在丰富的煤炭和铁矿资源基础上，建立了发达的钢铁工业和机械制造业
③丙国耕地面积广大，农业发展条件优越，主要作物有水稻、茶叶、黄麻等
④丁国自然环境差异明显，人口和城市主要分布在东北部沿海地带

A. ①② B. ③④ C. ①③ D. ②④

36. 下列选项中，各大陆半岛与其所属大洲对应正确的是

- A. 亚平宁半岛—亚洲 B. 伊比利亚半岛—欧洲
C. 印度半岛—欧洲 D. 阿拉伯半岛—北美洲

37. 读世界著名海峡图。下列选项中，排序与图序相同的是



- A. ①白令海峡 ②霍尔木兹海峡 ③多佛尔海峡 ④马六甲海峡
B. ①霍尔木兹海峡 ②马六甲海峡 ③白令海峡 ④多佛尔海峡
C. ①多佛尔海峡 ②马六甲海峡 ③霍尔木兹海峡 ④白令海峡
D. ①多佛尔海峡 ②霍尔木兹海峡 ③白令海峡 ④马六甲海峡

38. 读下列两地区图，完成下列各题。

(1). 两地区都很丰富的自然资源是

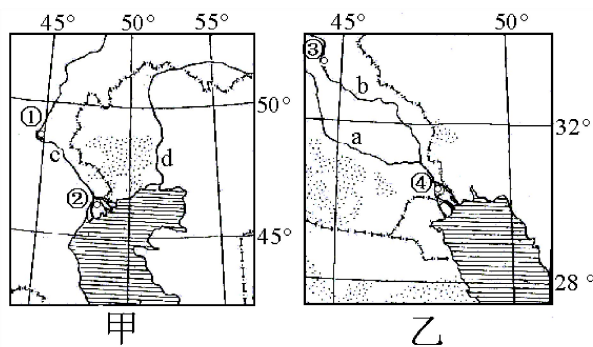
- A. 淡水资源 B. 渔业资源
C. 石油、天然气 D. 煤炭、铁矿

(2). 有关 a、b、c、d 四条河流所在流域的说法正确的是

- A. 四条河流全年皆可通航，航运便利
B. 光照和热量丰富，水源充足，农业发达
C. 四条河流都是外流河
D. 都可能存在土地沙化和次生盐碱化问题

(3). ②和④城之间的直线距离约为

- A. 800 千米 B. 1200 千米
C. 1700 千米 D. 2400 千米



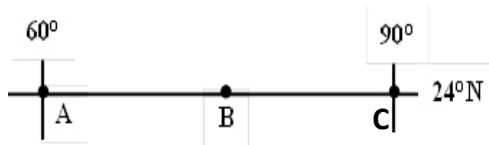
39. 下图中，AC 线地跨三个国家，完成下列各题。

(1). B 国地形自北向南依次是

- A. 山地、高原、盆地 B. 山地、平原、高原
C. 高原、山地、平原 D. 山地、平原、盆地

(2). C 区域是世界主要农业区，该地

- A. 盛产小麦，商品率高
B. 农业类型属资金、技术密集型
C. 地广人稀，农业机械化水平高
D. 水旱灾害频繁，制约了农业的发展



40. 亚洲某地（45°E、20°N）所在国家有着独特的自然与人文景观。完成下列各题。

(1). 该地所属的气候类型是（ ）

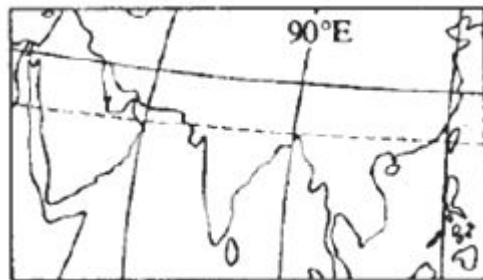
- A. 热带季风气候 B. 热带稀疏草原气候
C. 热带沙漠气候 D. 热带雨林气候

(2). 该地在世界文化圈中属于（ ）

- A. 伊斯兰文化圈 B. 南亚文化圈
C. 东南亚文化圈 D. 非洲文化圈

(3). 该地所属国家在国际贸易中出口的主要产品之一是（ ）

- A. 茶叶 B. 锡矿 C. 石油 D. 咖啡



41. 某地位于 24°N、32.8°E，一条大河流经，该地所在国家有着独特的自然与人文景观。

(1). 该地所属的气候类型是

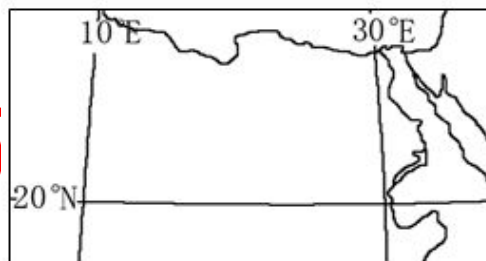
- A. 热带稀树草原气候 B. 热带沙漠气候
C. 热带季风气候 D. 地中海气候

(2). 下列关于该地所在文化圈的叙述中，正确的是

- A. 狂欢节是当地的文化特色 B. 居民多信奉基督教
C. 常见圆顶尖塔的清真寺 D. 种族以黑色人种为主

(3). 下列关于流经该地河流及其流域的叙述中，正确的是

- A. 河流清澈，含沙量较小 B. 全年径流量季节变化较小
C. 沿岸多种植棉花 D. 一年中有凌汛现象发生



42. 读“世界某沿海地区简图”。

(1). 图示地区位于

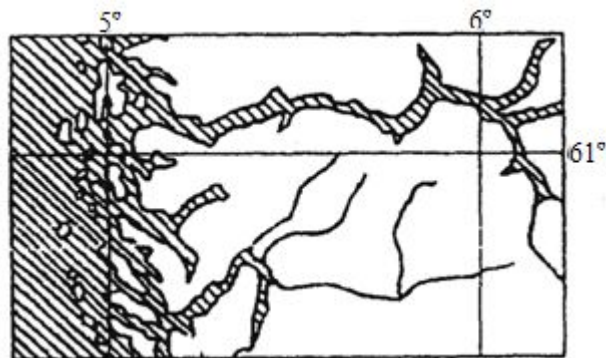
- A. 伊比利亚半岛沿海
B. 亚平宁半岛沿海
C. 斯堪的纳维亚半岛沿海
D. 智利南部沿海

(2). 该地有众多岛屿和深入半岛的峡湾，它们是由：

- A. 海浪侵蚀造成的 B. 流水堆积造成的
C. 冰川侵蚀造成的 D. 风力侵蚀造成的

(3). 图示地区

- A. 渔业发达 B. 有寒流经过
C. 人口稠密 D. 有季风洋流



43. 右图为世界某地区图，完成下列各题。

(1). 关于该地区的地理事物叙述正确的是

- A. ①处海域多雾 B. ②处景观为草原
C. ③处湿地为淡水沼泽 D. ④处山顶有终年积雪

(2). 当太阳直射图中⑤所在纬线时，下列说法正确的是

- A. 悉尼白昼将继续变长 B. 雅典正值多雨季节
C. 北京受亚洲低压影响 D. 伦敦正午太阳高度达一年中最小值

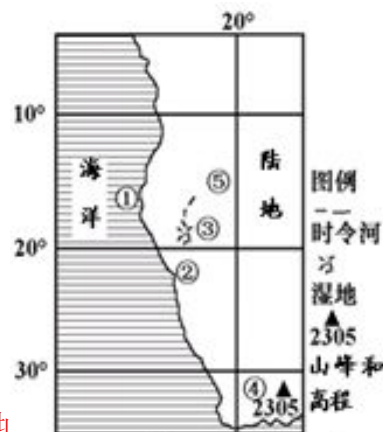


图 6

44.长江干流水能资源最丰富的河段是 ()

- A. 源头至宜宾河段 B. 三峡河段
C. 宜昌至宜宾河段 D. 川江河段

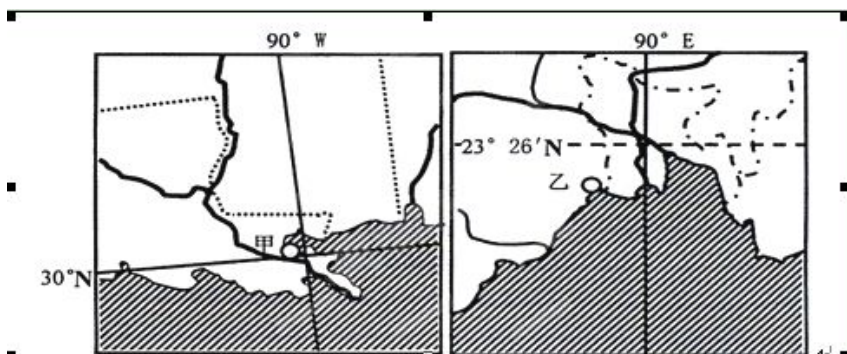
45.黄土高原水土流失严重的地貌类型区是 ()

- A. 黄土塬面区 B. 黄土丘陵沟壑区 C. 沟谷间地貌区 D. 河道小流域

46.能正确表示我国长江流域伏旱天气成因的是

- A. 副极地低压 B. 副热带高压脊 C. 极地高压 D. 赤道低压

47.读下图,完成下列各题。



(1). 甲乙两城的所临海域分别是 ()

- A. 红海, 波罗的海 B. 加勒比海, 阿拉伯海
C. 黑海, 中国南海 D. 墨西哥湾, 孟加拉湾

(2). 甲乙两城市每年重点防范的自然灾害是 ()

- A. 滑坡 B. 泥石流 C. 飓风 D. 寒潮

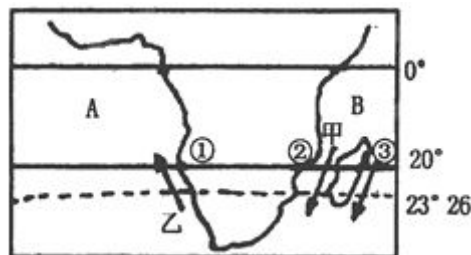
48.读图完成下列各题。

(1).下列有关此图说法正确的是 ()

- A. A 为印度洋 B. B 为大西洋
C. 乙处的洋流为加那利寒流
D. 甲处的洋流为莫桑比克暖流

(2).图中①、②、③三地降水量由少到多排列正确的是

- A. ①<②<③ B. ③<②<①
C. ①<③<② D. ②<①<③



49.读“南极地区图”,完成下列各题。

(1).图中①②③④四个科学考察站中,不会出现极昼、极夜现象的是 ()

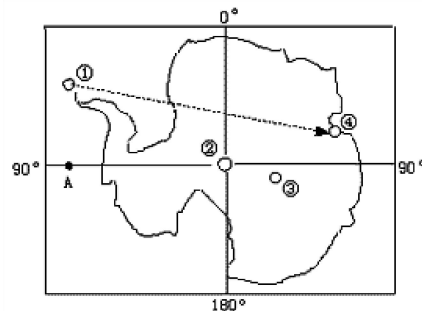
- A. ① B. ② C. ③ D. ④

(2).某运输机将①站的科考设备运往④站,飞行时间为 26 小时,一路上阳光普照,飞行的月份可能是 ()

- A. 6 月 B. 3 月 C. 9 月 D. 12 月

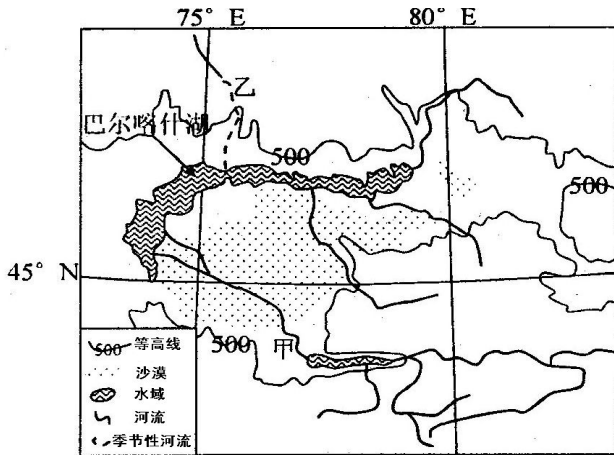
(3).长城站的科考人员试作一次穿越极点到达中山站的旅行, 其行进方向为 ()

- A. 一直向北 B. 一直向南
C. 先向南,再向北 D. 先向北,再向南





51. 下图中的巴尔喀什湖，以湖水东部咸西部淡著称于世。完成下列各题。

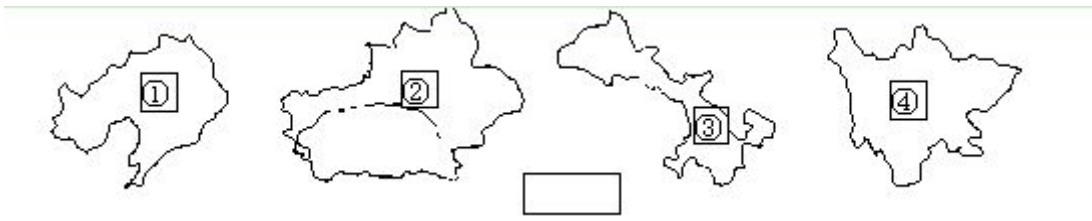


- (1). 下列说法中不属于巴尔喀什湖对该地区所产生影响的是
- A. 东部农业发展的重要灌溉水源 B. 缩小周边地区的气温变化
- C. 阻碍沙漠扩展的重要屏障 D. 提供较为丰富的鱼类产品
- (2). 甲河入湖口的三角洲比乙河入湖口更为明显，据图可知其主要原因最可能是
- A. 甲河下游地势平坦 B. 乙河沿途植被覆盖良好
- C. 甲河流量更大 D. 乙河入湖口较深
- (3). 图中沙漠的主要成因是
- A. 常年受副热带高压控制 B. 地处内陆，海洋水汽难以进入
- C. 常受到来自北冰洋的干冷气流影响 D. 人类过度聚殖的恶果
52. 我国珠江三角洲主要景观特征是
- A. 荒漠广布 B. 稻花飘香 C. 黑土广阔 D. 黄沙蔽日
53. 下列河流中，有春夏两个汛期的是
- A. 鸭绿江 B. 珠江 C. 淮河 D. 海河
54. 长江多年平均径流量最大的季节是
- A. 春季 B. 夏季 C. 秋季 D. 冬季

55. 下列有关我国民族的叙述，正确的一项是 ()
- A. 在 55 个少数民族中人口最多的是回族 B. 少数民族主要分布在东南、东北和西北
- C. 我国的民族分布特点是大杂居、小聚居 D. 蒙古族的传统节日是泼水节，跳长鼓舞

56. 关于南极洲的叙述，正确的是 ()
- A. 有“高原大陆”之称 B. 平均气温比北冰洋要高
- C. 平均海拔最高的大洲 D. 矿产资源贫乏

57. 读我国四省区轮廓图，回答 23-25 题。完成下列各题。



- (1). 在四省区中既临渤海又临黄海的是
- A. ① B. ② C. ③ D. ④
- (2). 四省区中相邻国家最多的是
- A. ① B. ② C. ③ D. ④



(3). 在这四个省级行政区中, 其中与三个自治区相接壤的是

- A.① B.② C.③ D.④

58.下列省区有大范围石质荒漠化现象的是

- A. 黑龙江省 B. 贵州省 C. 广东省 D. 江苏省

59.发源于中国, 流经东南亚地区, 注入太平洋的河流是

- A. 珠江 B. 雅鲁藏布江 C. 额尔齐斯河 D. 澜沧江

60.英国和日本自然环境的相似点是

- A. 地形均以平原为主 B. 均为海洋性气候
C. 均有温带落叶阔叶林带 D. 河流均有结冰期

61.西气东输的主要原因是 ()

- A. 西部资源开发成本低 B. 东部市场需求量大
C. 地势西高东低, 便于管道输送 D. 东部靠海, 便于出口

62.下列关于澳大利亚城市的叙述, 正确的是

- A 首都堪培拉, 是全国最大的工业中心
B 墨尔本位于南纬 30-40 之间, 属于地中海气候
C 悉尼是全国最大的港口城市
D 珀斯是澳大利亚西部最大的港口城市, 也是全国第二大城市

63.【题文】阅读下列材料, 回答问题

材料一 《春天的故事》歌词中写道: “一九七九年, 那是一个春天, 有一位老人在中国的南海边画了一个圈。神话般崛起座座城, 奇迹般聚起座座金山。”

材料二 1984 年邓小平在《办好经济特区, 增加对外开放城市》中说: “我们建立经济特区, 实行开放政策, 有个指导思想要明确, 就是不是收, 而是放。”

探究思考:

(1) 材料一中的“老人”是谁? “画了一个圈”是指什么? “春天”的内涵是什么?

(2) 从影响工业布局的因素考虑, 我国设立经济特区的原因是什么?


(3) 材料二中“不是收, 而是放”是指这个圈后来又扩大了。那又是怎样扩大的?

64.下列关于各大洲地势特点的描述, 正确的是 ()

- A. 北美洲地势中间高四周低 B. 南美洲地势呈三个南北纵列带
C. 非洲地势西北高东南低 D. 欧洲地势南、北高, 中间低



65. 下图，正确反映北美洲的地形剖面图是



66. 读世界某区域图，完成下列各题。

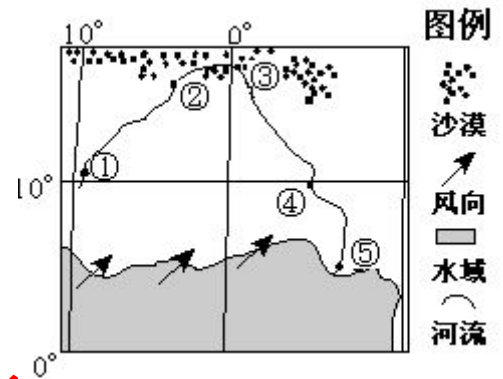
(1). 与图中沙漠形成主导原因相同的地区是

- ①阿拉伯半岛的沙漠 ②安第斯山南段东侧的沙漠
③澳大利亚中西部的沙漠 ④塔里木盆地的沙漠

A. ①③ B. ①② C. ②④ D. ③④

(2). 图示季节，沿河流各段及周边区地理现象的描述不正确的是

- A. ①→②河段正值丰水期
B. ②→③河段水量减少
C. ③→④河段沿岸草木枯黄
D. ④→⑤河段森林茂密



67. 下列山脉既是我国地势第二和第三级阶梯的界线，又是季风区和非季风区界线的是（ ）

- A. 秦岭 B. 太行山
C. 阴山 D. 大兴安岭

68. 下列省区跨四个温度带的是（ ）

- A. 陕西省 B. 内蒙古自治区 C. 甘肃省 D. 山西省

69. 我国冬季南北温差大的最主要原因是（ ）

- A. 纬度位置 B. 地形 C. 洋流 D. 冬季风

70. 北回归线穿过的我国省级行政区是（ ）

- A. 台湾、福建、江西、湖南 B. 广东、广西、福建、浙江
C. 台湾、广东、广西、云南 D. 广东、广西、四川、贵州

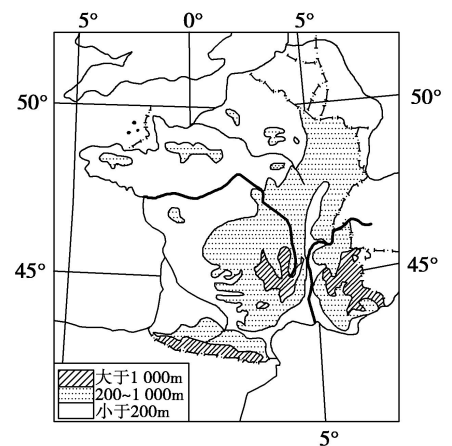
71. 读世界上某国家的经纬网和等高线图，完成下列各题。

(1). 该国家的地形特征可以表述为（ ）

- A. 地形以山地为主，地势由东南向西北降低
B. 地形以平原为主，地势由北向南降低
C. 平原、高原面积广大，地势由东南向西北降低
D. 地形以平原、盆地为主，地势由东向西降低

(2). 该国家是世界上重要的农产品生产国，其主要的农产品有（ ）

- A. 小麦、棉花、葡萄等 B. 玉米、甘蔗、葡萄等
C. 水稻、大豆、棉花等 D. 小麦、甜菜、葡萄等



72. 亚洲面积广大，地形复杂，形成了复杂多样的气候类型，完成下列各题。

(1). 与世界各大洲相比，亚洲最为突出的气候特点是（ ）

- A. 季风气候显著 B. 以热带气候为主 C. 海洋性强 D. 气候类型单一



(2).形成亚洲突出气候特点的主要因素是 ()

- A. 纬度位置 B. 海陆热力性质差异
C. 地形 D. 洋流

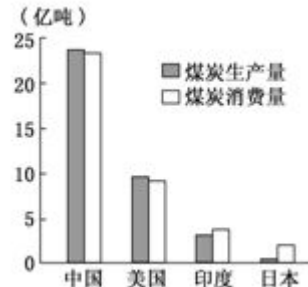
73. 下图示意 2008 年中国、美国、印度、日本四个国家的煤炭生产量和消费量。读图并根据所学知识，完成下列各题。

29. 图示四个国家中，人均煤炭消费量最高的是 ()

- A. 中国 B. 美国
C. 印度 D. 日本

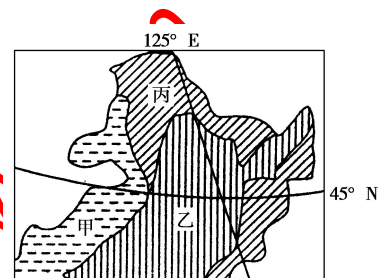
30. 借助图示资料可以大致推算出相应国家的 ()

- A. 单位 GDP 能耗 B. 碳排放量
C. 能源进出口量 D. 煤炭自给率



74. 读下图，甲、乙、丙对应的土地利用类型分别是

- A. 耕地、林地、草地
B. 耕地、草地、林地
C. 草地、林地、耕地
D. 草地、耕地、林地



75. 图中“西气东输”线路穿越的省区中涉及黄河流域的有

- A. 宁、陕、晋、川、鲁 B. 甘、宁、陕、晋、豫
C. 青、甘、宁、内蒙古、豫 D. 新、青、陕、晋、豫

76. 西部哪些工业受西气东输工程建设的强有力拉动 ()

- A. 纺织 B. 食品 C. 飞机制造 D. 钢铁

77. 北方地区的少数民族中，聚居在东北人数最多的是 ()

- A. 朝鲜族 B. 满族 C. 回族 D. 蒙古族

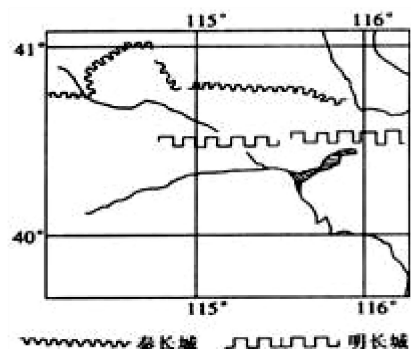
78. 下图表示某区域地理事物的变化，完成下列各题。

(1) 这里不可能接近 ()

- A. 内外流区的分界线
B. 半干旱半湿润地区的分界线
C. 季风区与西北干旱半干旱区的分界线
D. 暖温带和亚热带的分界线

(2) 明长城比秦长城的位置偏南，原因可能是 ()

- A. 河流迁徙 B. 寒潮影响
C. 生产方式变化 D. 环境意识提高



79. 我国国土面积广大，陆疆漫长，陆上邻国多达 14 个。根据疆、邻国以及行政区划的相关知识，完成下列各题。

(1) 关于我国陆上邻国的叙述，正确的是 ()

- A. 人口超过 1 亿的国家有 4 个 B. 内陆国家有 8 个
C. 没有属于西亚的国家
D. 仅俄罗斯与我国有不连续的共同边界

(2)我国共有 9 个边疆省区，其中邻国数最多的有 3 个省区依次是 ()

- A. 新、藏、滇 B. 新、藏、内蒙古
C. 藏、新、滇 D. 藏、新、黑

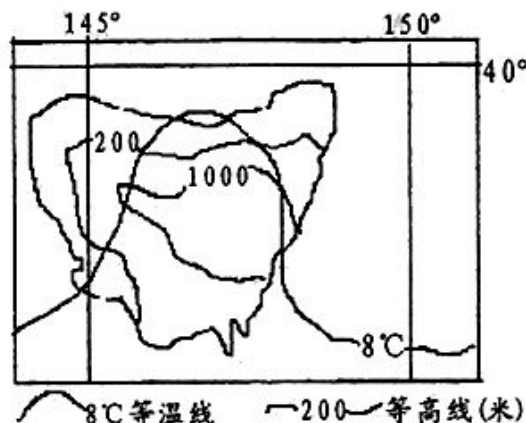
80.读右上角某岛略图，完成下列各题。

(1). 该岛屿自然特点是 ()

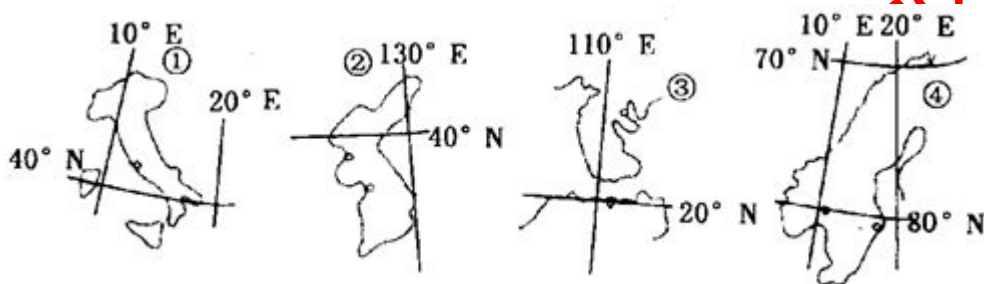
- A. 终年受高压控制，沙漠广布，炎热干燥
B. 西部干旱，东部降水丰富
C. 冬温夏凉，四季湿润
D. 地势平坦，土壤肥沃

(2). 关于该岛屿的正确叙述 ()

- A. 此时所处的时节正是我国长江流域伏旱时期
B. 该国所在的首都是全国最大的城市
C. 位于印度洋板块和太平洋板块交界处
D. 与台湾岛的形成相同，属于火山岛



81.读下图，完成下列各题。



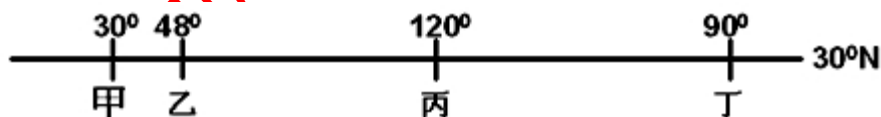
(1).图中所示半岛中有 APEC 成员分布的是

- A. ①② B. ①④ C. ③④ D. ②③

(2).关于图中四地的说法，正确的是

- A. ①④均位于世界重要的地震带上 B. ②③都具有雨热同期的特征
C. ②④都具有山脉横贯、多冰川地形的特点 D. ①③区域分别都只由一个国家拥有

82.下图为 30°N 附近四条河流的河口位置图。完成下列各题。



(1)四条河流年径流量变化最大的是..... ()

- A 甲 B 乙 C 丙 D 丁

(2)下列对四条河流河口地区叙述正确的是..... ()

- A 甲处是世界著名的黄麻产区 B 乙处是世界著名的石油产区
C 丙处是所在国最大的林业区 D 丁处是所在国最大的工业区

(3)关于甲、丙、丁三处共同特征，叙述不正确的是..... ()

- A 都盛产石油 B 流域内人口都稠密
C 下游两岸都盛产棉花 D 都有水稻种植

(4)甲处沿 30°N 线建立绿色植物带，它的主要作用是..... ()

- A 防止泥石流发生 B 保护湿地
C 保护河流水源地 D 减缓土地荒漠化

(5)甲处种植的经济作物的生长条件是..... ()



- ① 光照强 ② 热量丰富 ③ 土壤疏松肥沃 ④ 降水丰富

A ①④ B ③④ C ①③ D ②④

83.目前,中国地下水开采总量已占总供水量的 18%,北京、河北等地地下水开采总量占总供水量的 50% 以上。

(1).北京、河北等地地下水使用量偏高的自然原因有

- A. 地处半干旱区 B. 河流流量小,流程短
C. 地表水污染严重 D. 降水集中,雨季短

(2).下列人类活动中,最有利于地下径流得到稳定补给的是

- ①山区封山育林 ②坡度较小的丘陵修筑梯田 ③农田采用滴灌技术
④加固河流堤防

A. ①② B. ③④ C. ①③ D. ②④

84.我国某地(约 98°E、33°N) 1 月均温-12.8℃, 7 月均温 8.7℃, 年降水量 561.4mm, 多年平均暴雨日数 <0.2 天。

(1).影响该地气温特征的主导因素是

- A. 纬度位置 B. 海陆位置 C. 地形 D. 植被

(2).该地易发生的主要自然灾害是

- A. 雪灾 B. 台风 C. 泥石流 D. 暴雨洪涝

(3).该地所在地形区丰富的自然资源包括

- ①光热资源 ②淡水资源 ③盐类资源 ④地热资源

A. ①②③ B. ②③④ C. ①③④ D. ①②③④

85.下图示意的甲、乙两国分别为传统、新兴的鲜花生产国。完成下列各题。

(1).比较甲、乙两国降水特点及其成因

①甲国受西风带和暖流影响,全年降水较丰沛且季节分配均匀

②甲国受副热带高压带和西风带的交替影响,降水季节差异大

③乙国受赤道低压带影响,全年降水丰沛且季节分配均匀

④乙国受地形影响,降水季节差异大

A. ①④ B. ①③

C. ②③ D. ②④

(2).与甲国相比,乙国发展鲜花生产的优势自然条件是

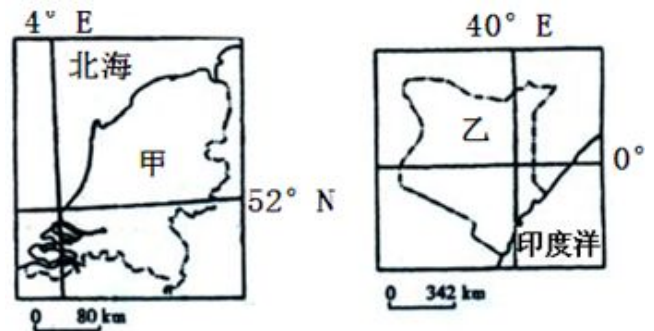
- ①热量丰富 ②光照充足 ③地形平坦 ④水源丰富

A. ②③ B. ①④

C. ①② D. ③④

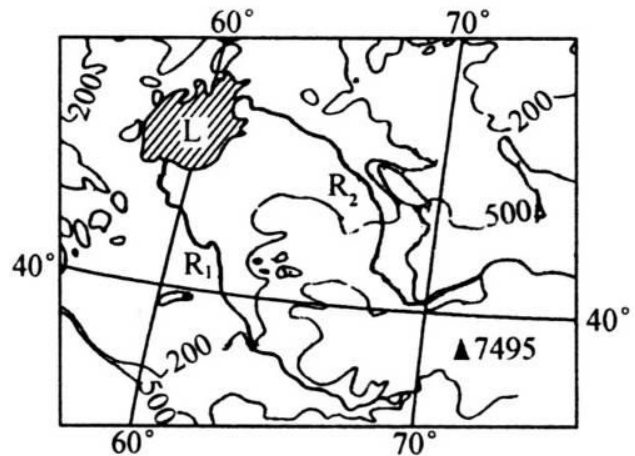
(3).与乙国相比,甲国维持其世界鲜花市场竞争力的优势条件是

- A. 技术含量高,鲜花质量较优
B. 土地丰富,天然花卉品种较多
C. 培植历史久,劳动力成本较低
D. 专业化、规模化生产,鲜花价格较低

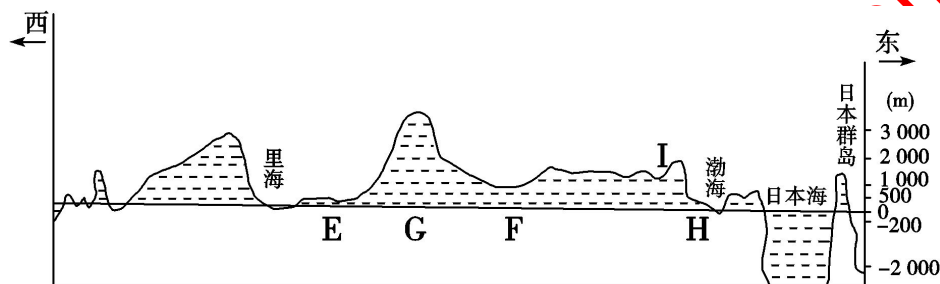


86. 读中亚局部图, 完成下列各题。

- (1). 有关中亚自然环境的叙述, 正确的是
 - A. 地形以山地丘陵为主, 地势西高东低
 - B. 地处西风带, 深受湿润的西风影响, 气候温湿
 - C. 植被以温带落叶阔叶林为主
 - D. 境内多为内流河、内流湖
- (2). 图中两条河流的主要补给水源是
 - A. 降水和地下水
 - B. 湖泊水和地下水
 - C. 高山冰雪融水和降水
 - D. 降水和湖泊水
- (3). 大量引 R₁、R₂ 河水灌溉会使 L 湖
 - A. 湖岸线前进
 - B. 湖水水位下降
 - C. 湖的面积不变
 - D. 含盐量降低



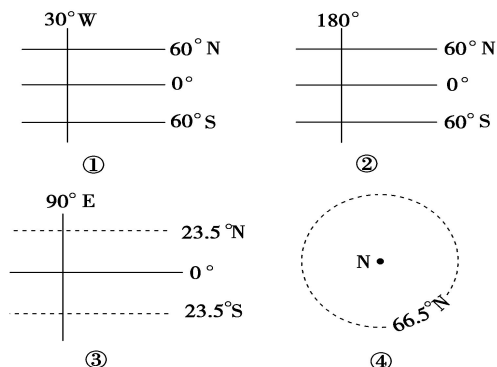
87. 读沿 40°N 亚洲东西向地形剖面图, 完成下列各题。



- (1). 有关 E 地的说法正确的是
 - A. 所在国家是伊拉克
 - B. 地形以山地为主
 - C. 自然景观以草原、荒漠为主
 - D. 冰川作用对地表形态影响深刻
- (2). 有关 H 地的说法正确的是
 - A. 有丰富的有色金属资源
 - B. 该地水土流失现象严重
 - C. 该地为华北平原
 - D. 地势起伏较大, 不适于发展种植业

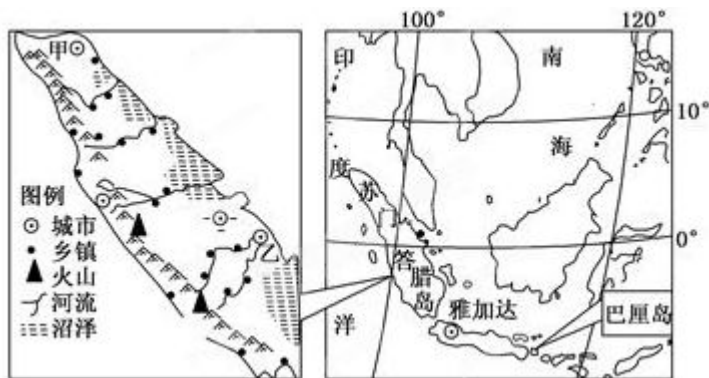
88. 如图为世界四大洋主体位置示意图。读图, 完成下列各题。

- (1). 下列港口的排序依次濒临①②③④四大洋的是
 - A. 鹿特丹、旧金山、摩尔曼斯克、科伦坡
 - B. 鹿特丹、旧金山、科伦坡、摩尔曼斯克
 - C. 科伦坡、鹿特丹、旧金山、摩尔曼斯克
 - D. 旧金山、鹿特丹、摩尔曼斯克、科伦坡
- (2). 连接②、③两大洋之间最短的海上通道是
 - A. 巴拿马运河
 - B. 白令海峡
 - C. 马六甲海峡
 - D. 直布罗陀海峡



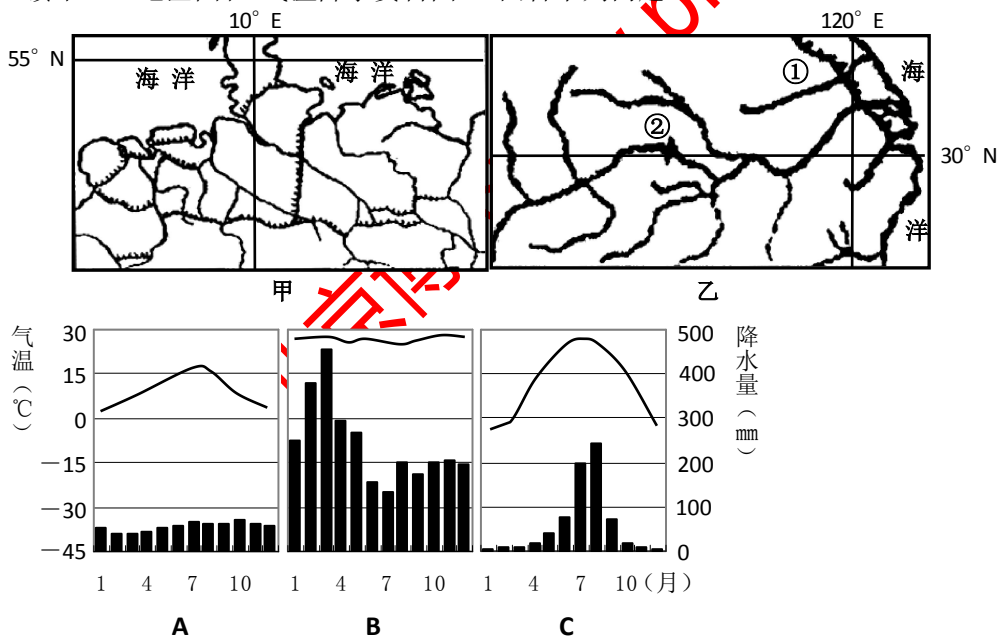


91.该图为东南亚部分区域图，读图回答下列问题。



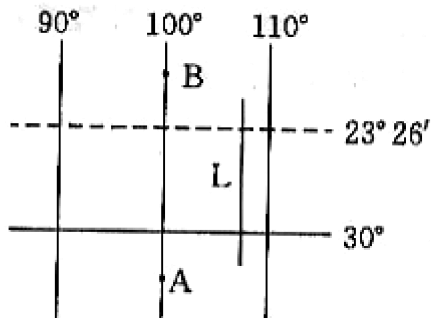
- (1) 简述苏门答腊岛的地形特征。(4分)
- (2) 简述图中信息概括苏门答腊岛聚落的分布特点并分析其主要原因。(5分)
- (3) 若修建连接甲、乙两城的铁路，当地自然条件对施工有哪些影响？(3分)

92.读甲、乙地区图和“气温降水资料图”，回答下列问题。



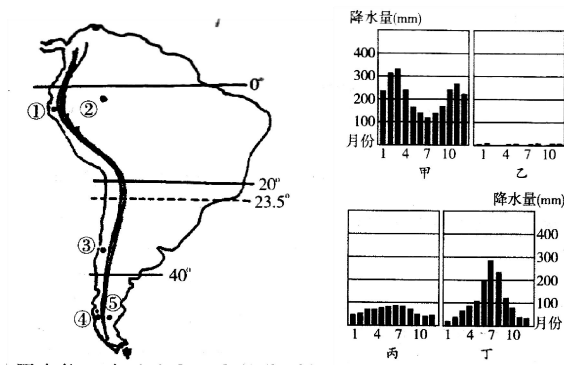
- (1) 属于乙图所示区域的气候类型是气候资料图中的_____（填代号），甲图所示区域在气候等因素综合影响下，其形成的气候类型是_____。
- (2) 甲图所示区域河网密布、运河众多，内河航运业发达。此区域有世界货物吞吐量最大的港口鹿特丹，此港口位于_____河的河口，是该区域的门户。
- (3) 乙图中所示运河①是_____运河，该运河仍能部分通航。该图所示区域位于我国两大工业地带交汇的_____工业基地。

93.读右图，回答下列问题：（14分）



- (1) 图示海域位于_____洋。
- (2) 洋流 L 的性质是_____，它对沿岸气候的影响是_____。
- (3) 请在线段 L 上标出洋流的流向。
- (4) 该洋流影响的国家是_____。
- (5) 如果某日 A 点和 B 点昼长相等，则一天是_____或_____。

94.南美洲轮廓图，完成下列要求。（7分）



- (1) 降水柱状图中能正确反映③和⑤的分别是_____和_____。（2分）
- (2) 比较①地与②地气候的差异。（2分）ks5u
- (3) ④和⑤两地位于同一纬度但自然景观不同，试分析其成因。（3分）

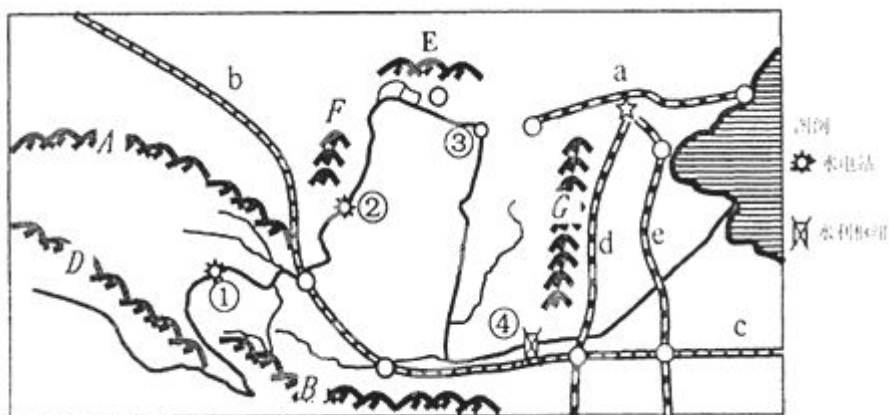
95.读我国某区域示意图，结合所学知识回答问题。（7分）



- (1) 图中作为我国重要地形区分界线的山脉名称是（ ）（1分）
A. 太行山 B. 阴山 C. 贺兰山 D. 秦岭
- (2) 图中铁路运输的主要货物是_____，直接与秦皇岛港相连的铁路干线是_____。（填图中序号）（2分）
- (3) 描述图中壶口瀑布所在河段的水文特征。（4分）



96.读中国局部地图，回答问题。



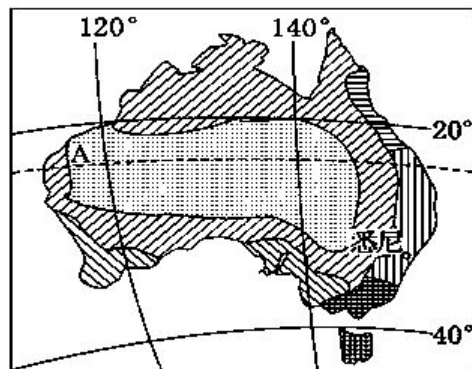
- (1) 铁路 d 的名称是 _____。(2 分)
- (2) 指出图中 G 山脉重要的自然地理分界意义。(写两点)(2 分)
- (3) 简析图中河流从②到③河段流量减少的原因。(写三点)(3 分)

97.阅读材料，回答下列问题。(10 分)

材料一、澳大利亚气候类型分布图。

- A. 图中沿 120°E 经线自南向北，气候类型依次是 _____、_____和热带沙漠气候。(4 分)

- (2)解释澳大利亚中部热带沙漠气候的成因。(6 分)

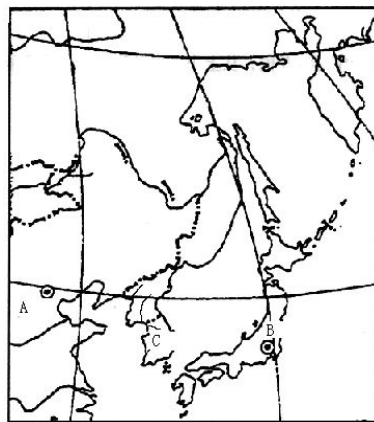


98.读东亚部分地区图，回答下列问题。(12 分)

- (1) C 半岛地形多山，整个地势特点是什么并说明判断依据(4 分)

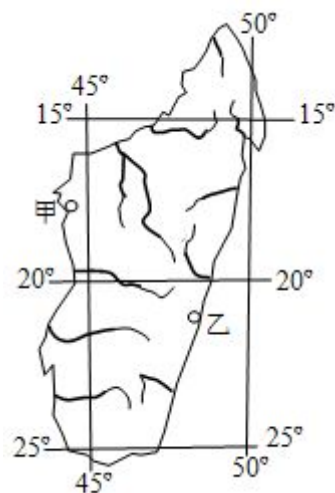
- (2) 冬季 A 地酸性气体排放量远高于 B 地，而 B 地的酸雨危害却比 A 地严重，试分析原因。(4 分)

- 3) 简述 B 所在国冬季和夏季降水地域的差别并分析原因?(4 分)

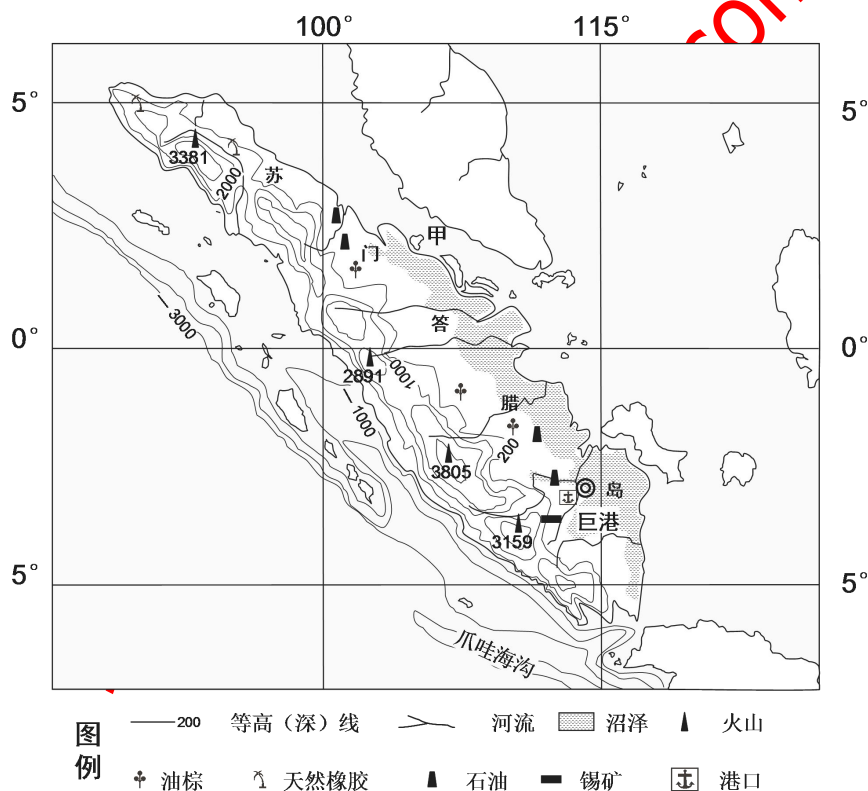


99.读“某岛国示意图”回答问题。(13分)

- (1)概括该岛国地理位置的特点。(2分)
- (2)用虚线画出图中主要分水岭。(2分)
- (3)据图分析该国河流的水文特征。(2分)
- (4)据图分析甲、乙两城市的降水差异并解释产生差异的原因。(4分)
- (5)写出该国所在世界文化圈的名称及其特点。(3分)

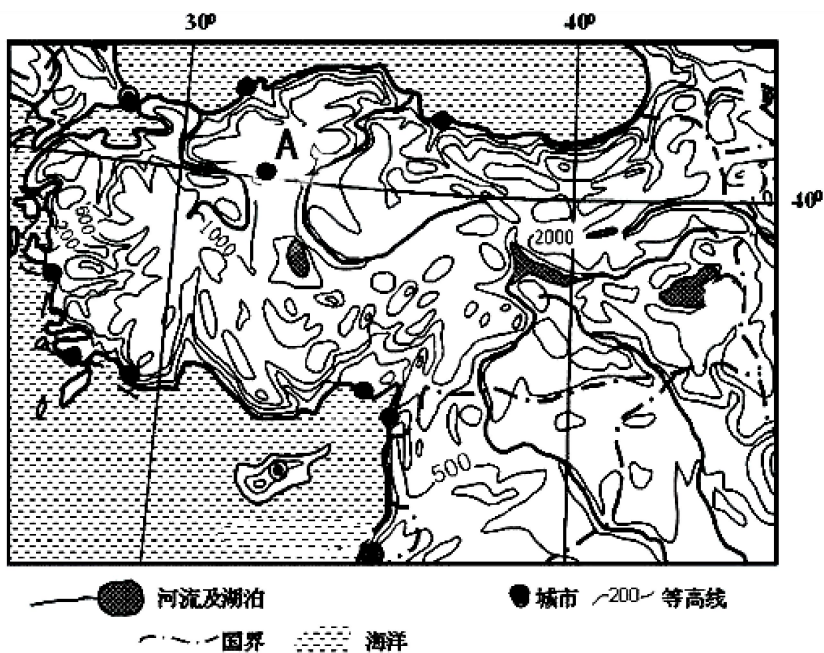


100.读某区域图，回答下列问题。(15分)



- (1) 简释苏门答腊岛的形成原因，并据图说明你作出本解释的理由。(4分)
- (2) 描述甲海峡沿岸地区常见的天气特征，并简析该海峡常年风浪很小的原因。(7分)
- (3) 巨港是该岛最大河港，简评其区位条件。(4分)

101.读世界某国及其周边地区示意图。(12分)



(1)A 城所在国是世界第五大蔬菜和水果生产国,分析材料叙述该国发展蔬菜、水果业的有利条件。(4分)

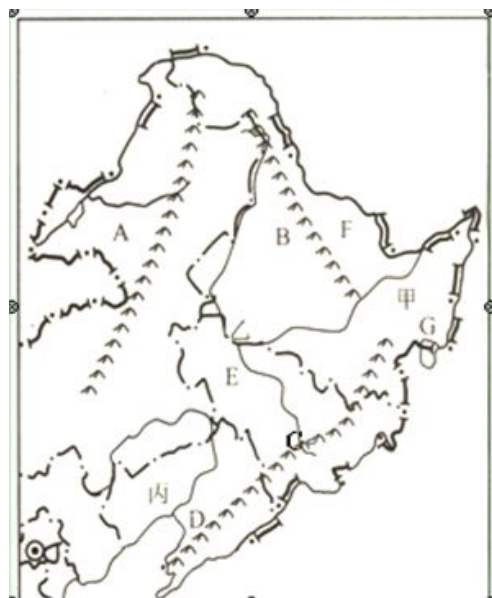
(2)说明 A 城所在国家地理位置的重要性。(4分)

(3)指出 A 所在国城市分布特征,并分析原因。(4分)

102.读东北区自然地理环境概况分布图,回答下列问题:(17分)

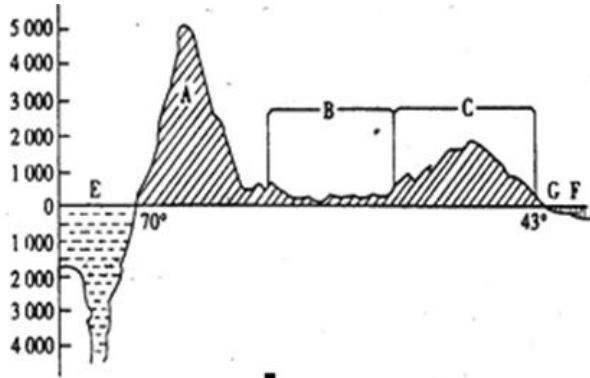
- (1)写出山脉的名称: A _____, B _____, C _____ (3分)
- (2)写出河流的名称: (4分) F _____, G _____。
- (3)写出平原的名称: (4分) 甲 _____, 乙 _____。

- (4)东北商品粮基地建设的有利自然条件
- _____ (2分)
- _____ (2分)
- _____ (2分)



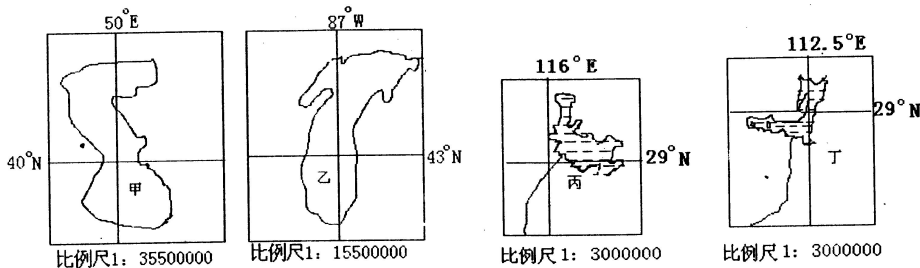


103. 下图是“南纬 22° 地形剖面图”，读图回答（26 分）

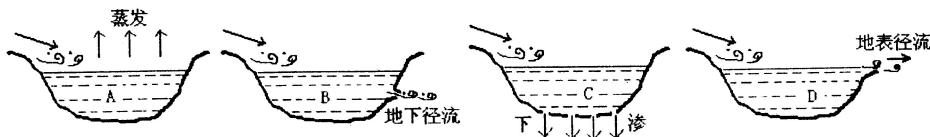


- (1) 地形名称： A _____ B _____ C _____
- (2) E 处的海底地形名称是 _____，形成原因是 _____。
- (3) 流经 BC 交界处的河流上的大型水电站是 _____，B 地区是著名的农牧业区，这里是著名的 _____ 草原，畜牧业以 _____ 为主
- (4) A 山脉西岸临海地区的气候类型是 _____，原因是 _____
- (5) 在 E 处附近海域，等温线的凸出方向及其成因的叙述，正确的是（ ）
- ①向北凸出 ②向南凸出 ③向高纬方向凸出
④向低纬方向凸出 ⑤受地形影响 ⑥受洋流影响
- A. ①③⑤ B. ①④⑥ C. ②③⑤ D. ②④⑥

104. 图中甲、乙、丙、丁分别代表世界著名的四大湖泊，读后完成下列各题：（17 分）



- (1) 四大湖泊中属于咸水湖的是 _____，其输水过程符合下图中的 _____。（2 分）



- (2) 四湖中面积最大的湖泊是 _____，对河流干流水量起重要调节作用的是 _____。（3 分）
- (3) 甲乙两湖周围地区都适宜发展的农业类型是 _____，（2 分）两地发展这种产业有何不同。（4 分）
- (4) 甲、乙、丙、丁四湖中的某湖沿岸以重工业著称于世，评价该湖发展重工业的优势条件。（6 分）

105. 鄱阳湖位于长江南岸，江西北部，它是连河湖，水位涨落受五河(赣、抚、信、饶、修)及长江来水的双重影响，洪、枯水的水域面积、水容积相差极大。“高水是湖、低水似河”“洪水一片，枯水一线”是鄱阳湖的自然地理特征。回答下列问题。

(1) 试从气候角度分析鄱阳湖水位变化大的原因。

(2) 简述鄱阳湖作为湿地的重要价值(三种)。

(3)鄱阳湖平原是我国重要商品粮基地之一，分析其有利的自然条件。

106.读“澳大利亚图”，回答问题。（11分）

(1) 图中①处比②处降水_____（多或少），
原因是什么？（4分）

(2) A地区气候类型是_____。农业的地域类型是_____。此种农业地域类型的显著优越性有哪些？（5分）



(3) 为什么澳大利亚中西部几乎不能发展农业？（2分）

107.读日本工业分布图，回答以下问题。（14分）

(1)说明日本工业的主要分布特点，并阐述原因。（6分）

(2)冬季，日本海沿岸多雨雪，请结合所学知识谈谈为什么？（4分）

(3)该国是亚洲核能发电量最多的国家，试简述其优先发展核电的理由。（4分）



北京博飛WWW.PKUZYW.COM