

北京博飞华侨港澳台联考试题

地理部分 10-51

-----洋流

一、选择题

我国拥有 300 万平方千米的“蓝色国土”，这是中华民族实施可持续发展的重要战略资源，也是把我国建设成为海洋强国的可靠保障。回答各题。

1. 浙江省的舟山渔场成为我国最大渔场，其成因正确的是（ ）

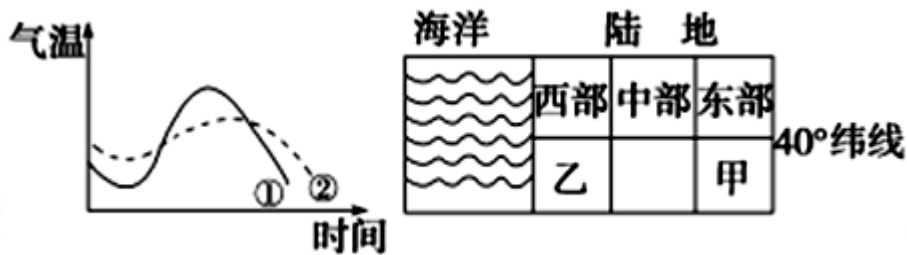
①位于沿海大陆架海域，阳光充足，生物光合作用强 ②长江、钱塘江等大河带来丰富的营养盐类 ③有沿岸的冷、暖流交汇 ④位于温带地区，季节变化明显

- A. ①② B. ①②③
C. ①③④ D. ①②③④

2. 对浙江发展滩涂养殖影响最大的自然灾害是（ ）

- A. 海啸 B. 寒潮
C. 台风 D. 洪涝

下图中的左图是某沿海地区两地气温随时间变化曲线示意图，右图是某区域海陆分布图。读图回答下列各题。



3. 对应①②情况的下垫面分别是（ ）

- A. 湖泊和沙地 B. 山地和平原
C. 裸地和林地 D. 乡村和城市

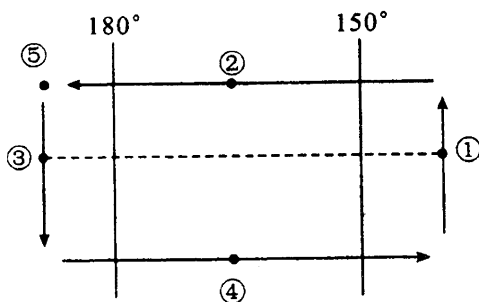
4. 若①②曲线分别表示甲、乙两地气温年变化情况，则图示区域可能位于（ ）

- A. 南美洲 B. 欧洲
C. 非洲 D. 大洋洲

5. 依据世界洋流分布规律，流经乙地沿岸的洋流应是（ ）

- A. 秘鲁寒流 B. 千岛寒流
C. 本格拉寒流 D. 西澳大利亚寒流

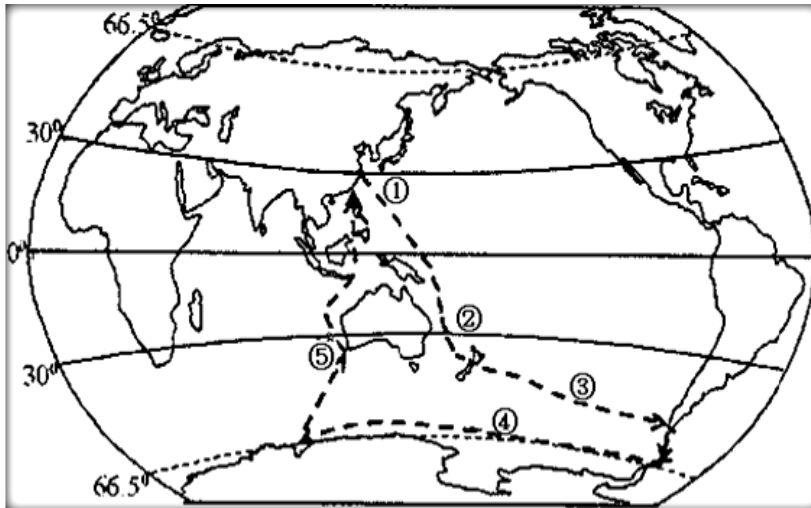
6. 图为洋流模式图，图中虚线为回归线。有关图中几处说法，正确的是（ ）



- A. ②在北半球，西半球
B. ③处是千岛寒流
C. ④处是暖流

D. ②处是风海流

下图中虚线是我国某次南极科考路线图。读图，回答下列小题。



7. 科考船途经①、②、③、④处，均风顺水的是（ ）

- A. ①、② B. ②、③
C. ③、④ D. ①、④

8. 关于①、②、③、⑤处对应洋流说法不正确的是（ ）

- A. ①处洋流向高纬地区流动
B. ②处洋流对沿岸增温增湿
C. ③处洋流受西风带影响形成
D. ⑤处不可能形成渔场

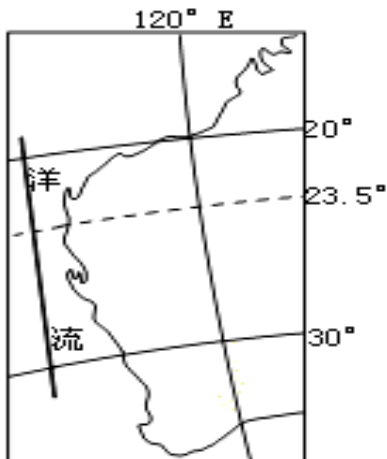
9. 有关洋流对地理环境的叙述，正确的是（ ）

- A. 澳大利亚东岸气候类型的形成，受寒流的显著影响
B. 寒暖流交汇处，往往会很快产生暴雨
C. 秘鲁附近寒暖流交汇处，成为世界著名渔场
D. 北大西洋暖流对西欧海洋性气候的形成有显著的作用

10. 12 月份，自东向西穿过直布罗陀海峡的航船常遇到（ ）

- A. 顺风顺水 B. 逆风顺水
C. 顺风逆水 D. 逆风逆水

读下图，回答下列各题。



11. 图中洋流所在的大洋是（ ）

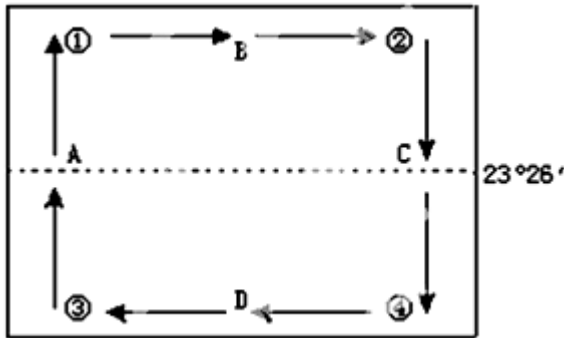
- A. 太平洋 B. 大西洋
C. 印度洋 D. 北冰洋

12. 图中洋流对相邻陆地环境的影响是 ()

- A. 加剧了干燥状况 B. 降低了干、热程度
C. 减轻了寒冷状况 D. 增加了湿、热程度

二、填空题

13. 读下图回答。



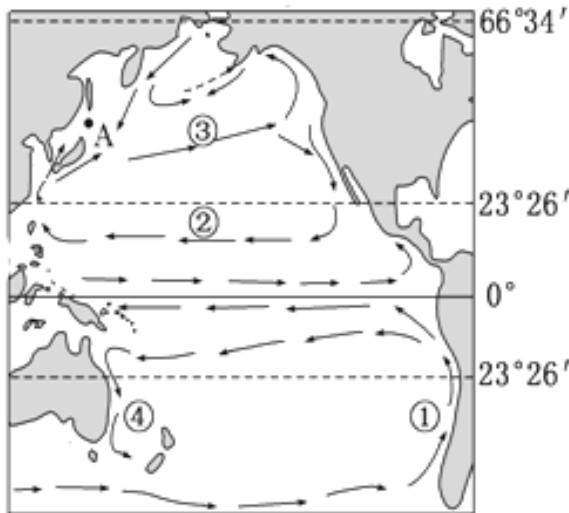
(1) 该洋流所在的海域位于 _____ 半球，判断理由是： _____。

(2) A、B、C、D 四支洋流中，成因属风海流的是 _____，其成因与西风密切相关的是 _____。

(3) 若该图表示大西洋，那么，A 洋流为 _____；若该图表示太平洋，则 C 洋流为 _____。若此海域为北印度洋，那么我国为 _____ 季节（夏季或冬季） _____。

三、综合题

14. 读“太平洋洋流分布示意图”，完成下列问题。



(1) ①处洋流名称为 _____。(2分)

(2) ②③代表的洋流中，主要受东北信风吹拂而形成的是 _____。(2分)

(3) ④代表的洋流对沿岸气候有 _____ 作用。(2分)

(4) 分析 A 处渔场形成的主要原因。(4分)

_____。

1. D
2. C
3. C
4. A
5. A
6. D
7. C
8. D
9. D
10. D
11. C
12. A
13.
 - (1) 北、北半球中低纬度海区洋流呈顺时针方向运动
 - (2) D B
 - (3) 墨西哥湾暖流、加利福尼亚寒流、丰水期
14.
 - (1) 秘鲁寒流
 - (2) ②
 - (3) 增温增湿
 - (4) 日本暖流和千岛寒流交汇，海水搅动，营养盐上泛，海洋表层浮游生物生长旺盛，为鱼类提供丰富的饵料。