

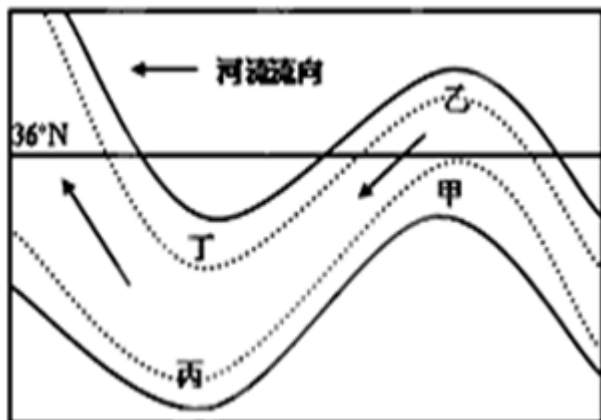
# 北京博飞华侨港澳台联考试题

地理部分 13-51

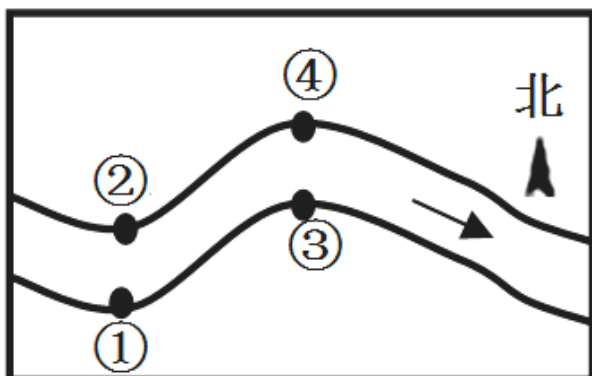
-----河流地貌

## 一、单选题

下图为欧洲某河流入海口附近河道示意图，图中虚、实线分别表示夏、冬季节的水面宽度。



1. 下列关于该河流的描述，正确的是（ ）  
A. 有冬汛和凌汛现象                      B. 夏季输沙量较冬季大  
C. 河流径流的季节变化大                  D. 径流量随气温的变化而变化
2. 关于图中区域，下列叙述正确的是（ ）  
A. 图示区域乳畜业发达  
B. 四地中受流水侵蚀作用最显著的是乙处  
C. 图示区域植被类型以亚热带常绿阔叶林为主  
D. 居民点适宜布局在丙处
3. 如图流水地貌是由流水塑造而形成的地表形态，某河段示意图。在图所示河流的数码处，外力作用及土地利用类型，正确的是（ ）



- A. ①搬运作用-农田                      B. ②堆积作用-住宅用地  
C. ③侵蚀作用-港口                      D. ④沉积作用-防洪堤

4. 读甲、乙两图，回答下题。甲乙图所示地貌，其形成原因是（ ）



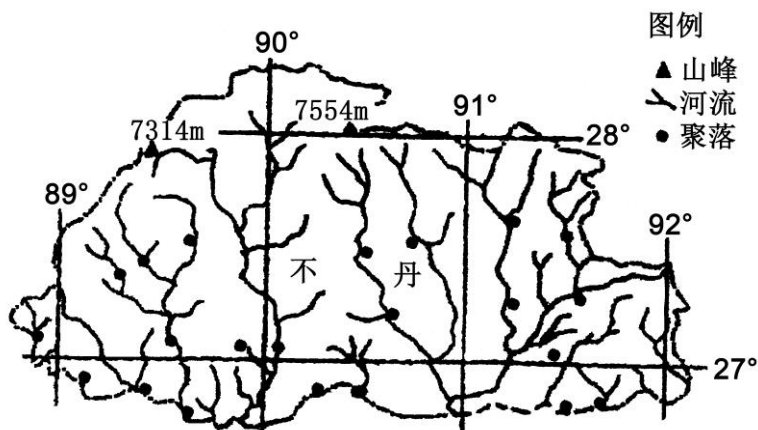
甲



乙

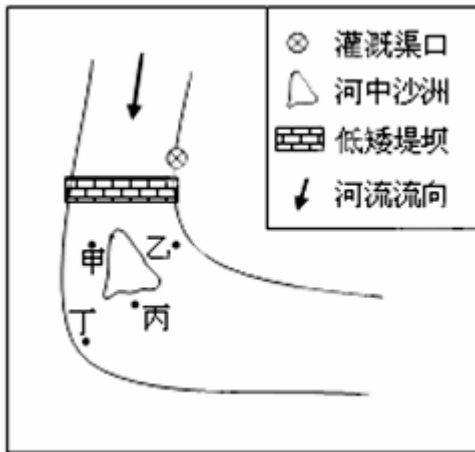
- A. 流水侵蚀                      B. 流水沉积  
C. 风力侵蚀                      D. 风力沉积

不丹是地处喜马拉雅山脉南坡的内陆国家，森林覆盖率 72%，经济发展水平较低。近年来，将环境保护和传统文化保护置于经济发展之上的“不丹模式”受到国际社会高度关注。读图，完成下题。



5. 关于图示地区河流的叙述，正确的是（ ）  
A. 流向由四周向中间                      B. 属于内流河，流量较小  
C. 参与海陆间水循环                      D. 水系发达，河运便利  
6. 影响不丹聚落形成和发展的主要因素是（ ）  
A. 交通                      B. 资源  
C. 河流                      D. 气候

在江南水乡的人们，到河中钓鱼是一大乐事。河中垂钓，钓点是关键，钓点宜选在饵料丰富且易于观察浮漂之地。某次中雨过后，小军来到下图所示河段垂钓。此时，他发现河水已漫过人工堤坝，河中沙洲仍出露水面。读图完成下列各题



7. 有关图中河流的叙述正确的是（ ）

- A. 堤坝的东侧较西侧容易垮塌
- B. 河中沙洲主要受流水侵蚀作用
- C. 堤坝上游河段：东侧河水较西侧深
- D. 小军垂钓时：丁处河水较丙处浑浊

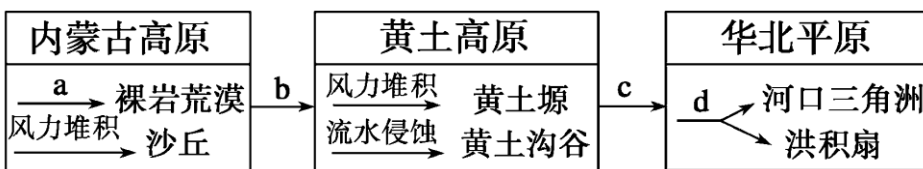
8. 本次垂钓，钓钩最适宜投放于（ ）

- A. 甲处
- B. 乙处
- C. 丙处
- D. 丁处

9. 图中堤坝较低矮，主要是考虑（ ）

- A. 蓄洪
- B. 灌溉
- C. 发电
- D. 排水

内蒙古高原、黄土高原和华北平原因外力作用在成因上具有一定的联系。图中各字母表示不同的主导外力作用类型，读图回答下列各题。



10. 箭头b表示的是（ ）

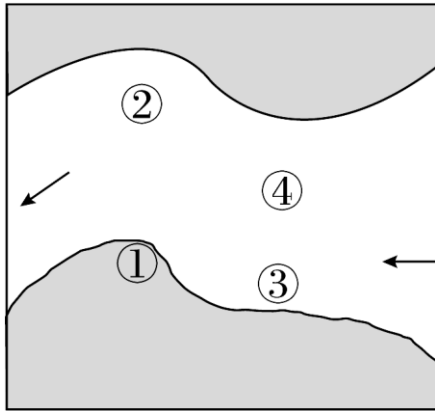
- A. 风力侵蚀作用
- B. 风力搬运作用
- C. 流水溶蚀作用
- D. 流水搬运作用

11. 在c过程中，可能发生的地理现象有（ ）

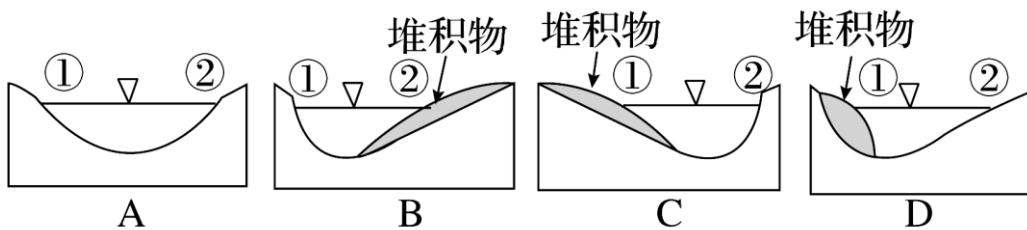
- ①沙尘暴、水土流失 ②水土流失、滑坡 ③泥石流、土地荒漠化 ④沙尘暴、土地荒漠化

- A. ①②                      B. ②③  
C. ①②③                    D. ②③④

下图为北半球某河段示意图，箭头表示河流流向。读图回答下列小题。

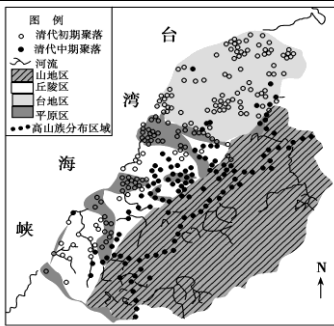


12. 图中四地中，流水侵蚀作用最微弱的是(    )  
A. ①地              B. ②地              C. ③地              D. ④地  
13. ①②连线处河流断面的剖面图是(    )



14. 下列地貌现象中主要受流水侵蚀作用形成的是(    )  
A. 东非大裂谷              B. 北欧峡湾  
C. 河口三角洲              D. 黄土高原的千沟万壑

下图为清代台湾岛西北部地区聚落分布图。读图回答下列小题。



15. 图中所示台湾西北部地区的各河流上游河段，最常见的河流地貌是（ ）

- A. 峡谷                      B. 三角洲  
C. 河漫滩平原              D. 沙丘

16. 就清代初期而言，聚落主要分布在（ ）

- A. 山地区和丘陵区          B. 平原区和台地区  
C. 丘陵区和平原区          D. 台地区和山地区

钱币被称为“国家名片”，人民币则是中国的名片。在已经发行的数套人民币中，我国一些著名的风景被相继印在了它们的背面。据此回答下列各题。



甲



乙



丙



丁

17. 图中的四处景观中，与河谷早期发育相关的是

- A. 甲      B. 乙      C. 丙      D. 丁

18. 甲图中雄伟壮丽景观的成因是

- A. 太平洋板块与亚欧板块碰撞隆起而成

- B. 地壳运动和风力侵蚀共同作用而成
- C. 内外力共同作用形成
- D. 冰川侵蚀作用形成

二、双选题

读下图，回答下列小题。



19. 图中平原形成的主要原因是（ ）
- A. 地壳断裂下沉
  - B. 地壳断裂抬升
  - C. 流水侵蚀作用
  - D. 流水堆积作用
20. 甲类岩石中可能含有（ ）
- A. 煤层
  - B. 生物化石
  - C. 银矿
  - D. 铜矿

参考答案

- 1. C
- 2. A
- 3. B
- 4. B
- 5. C
- 6. C
- 7. D
- 8. C
- 9. D



- 10. B
- 11. B
- 12. A
- 13. C
- 14. D
- 15. A
- 16. B
- 17. A
- 18. C
- 19. AD
- 20. CD