

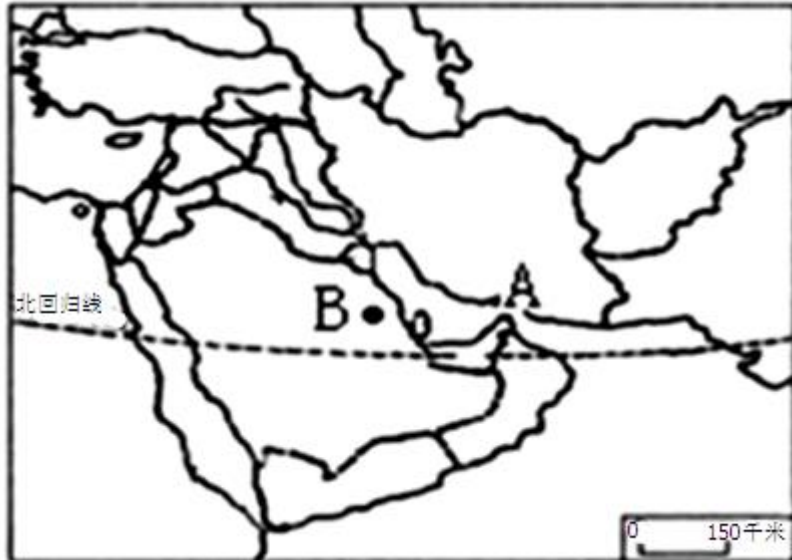
北京博飞华侨港澳台联考试题

地理部分 25-51

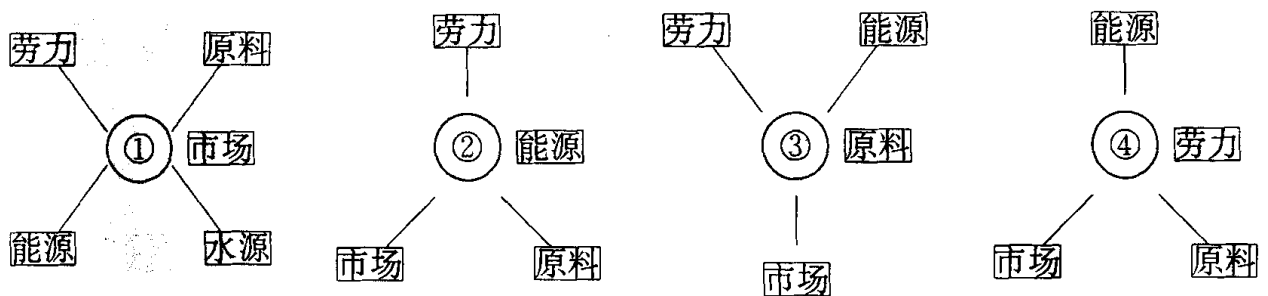
-----工业区位要素

一、选择题

读下图，回答下列各小题。

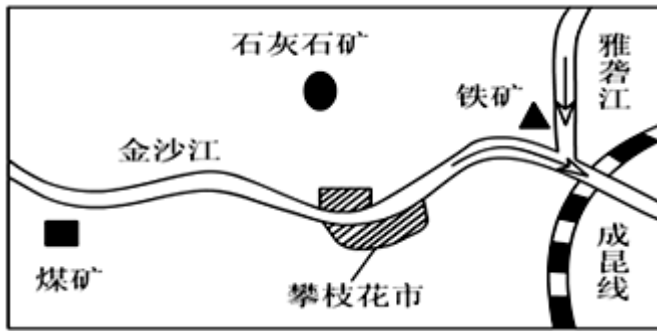


- 昼夜不停地从 A 海峡运出的重要矿产是 ()
A. 煤炭 B. 铜矿
C. 铁矿 D. 石油
- 中国某著名企业计划在 B 地投资建厂，其生产的主要产品是 ()
A. 高档家具 B. 抽湿机
C. 冷气机 D. 电子产品
- 在下列水果罐头厂、电子装配厂、玻璃制造厂、炼铝厂，四种工业区位模式图中，较为合理的是 ()



- ①炼铝厂 ②水果罐头厂 ③电子装配厂 ④玻璃制造厂
 - ①玻璃制造厂 ②炼铝厂 ③水果罐头厂 ④电子装配厂
 - ①水果罐头厂 ②电子装配厂 ③炼铝厂 ④玻璃制造厂
 - ①电子装配厂 ②玻璃制造厂 ③炼铝厂 ④水果罐头厂
- 近年来，珠江三角洲产业群“挥师北上”粤北山区，其考虑的布局因素是 ()
A. 技术 B. 能源
C. 交通 D. 劳动力

四川西部的攀枝花是解放后依靠丰富的铁矿资源发展起来的我国重要的钢铁基地。读图完成下列小题。



5. 该地区矿产资源开发的有利条件有（ ）
- A. 铁矿储量大，矿产组合好
 - B. 在两河交汇处，航运便利
 - C. 临近铁路枢纽，交通便利
 - D. 接近钢铁产品的消费市场
6. 该区域矿产资源的开发，对区域经济发展的促进作用是（ ）
- A. 带动第一、三产业比重的提高
 - B. 推动钢铁及相关工业的发展
 - C. 促进人口迁移和民族团结
 - D. 促进社会治安的改善

读区位因素构成图，回答小题。

7. 若该图为影响农业生产的区位因素图，则新疆绿洲农业形成的主导因素是（ ）
- A. ① B. ②
 - C. ⑤ D. ⑦
8. 若该图为影响工业生产的区位因素图，则下列工业部门与其主导因素对应正确的是（ ）
- A. 微电子工业——⑥ B. 制糖工业——⑦
 - C. 炼铝工业——③ D. 食品加工工业——⑤
9. 若该图为影响功能区的区位因素图，则中心商务区形成的主导因素是（ ）
- A. ⑤ B. ⑥
 - C. ⑦ D. ⑧

2013年9月26日，宝钢海外首家合资钢材加工配送中心在韩国竣工。据此，回答下列问题。

10. 下列钢铁工业的主导区位因素与宝钢相同的是（ ）

- A. 鞍山钢铁公司 B. 德国鲁尔区
C. 首都钢铁公司 D. 日本福山钢铁公司

11. 该公司在韩国建设配送中心的目的是（ ）

- A. 降低运费 B. 扩大市场
C. 保护环境 D. 输出技术

12. 为提高在国际钢铁市场上的竞争力，宝钢可以采取的措施有（ ）

①降低钢铁生产能耗 ②建立境外铁矿石基地 ③加大产品研发投入 ④提高进口燃料比重

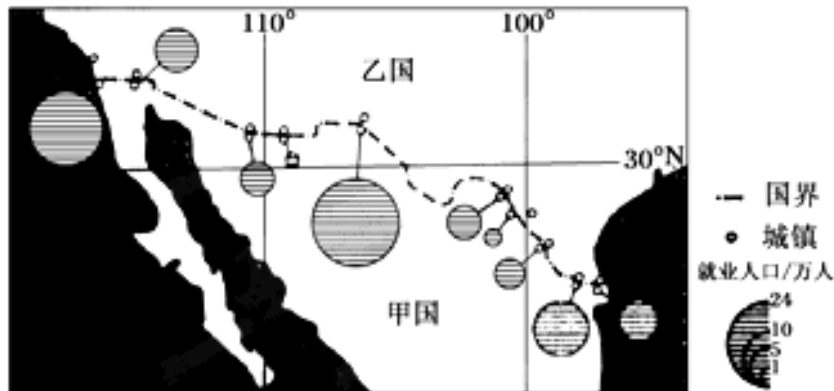
- A. ①②③ B. ②③④
C. ①③④ D. ①②④

13. 一般情况下，经济水平较低的地区，发展的工业多属于（ ）

①资金密集型 ②资源密集型 ③劳动密集型 ④技术密集型

- A. ①③ B. ②③
C. ③④ D. ①④

自20世纪60年代，甲国开始在临近乙国边境的地区设立边境工业区，吸引乙国的企业来此投资建厂，并从乙国进口原料和零部件，加工、组装成品后再销往乙国。目前，这些边境工业区已发展成规模不等的工业中心（见下图）。



14. 据图文资料推断，与乙国相比，甲国（ ）

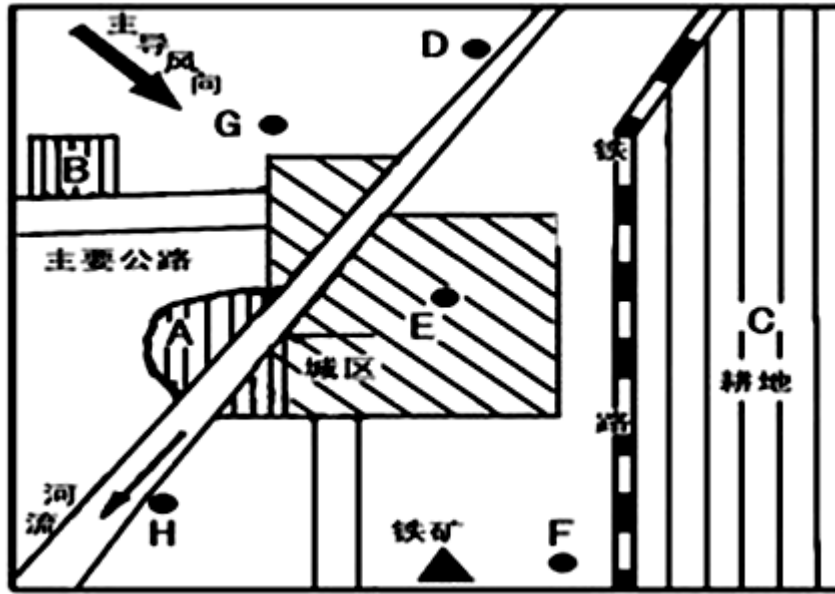
- A. 劳动力价格较低 B. 技术水平较高
C. 消费市场较广 D. 资金较雄厚

15. 甲国边境工业区的发展，提高了（ ）

- A. 乙国的劳动生产率 B. 甲国的环境质量
C. 乙国的就业率 D. 甲国的城镇化水平

二、综合题

16. 读图，完成下列问题：



(1) 图中 A、B、C 为农业区，分别布局小麦区、花圃、奶牛场，布局均合理。奶牛场应布局在_____（填字母），花圃应布局在_____，小麦区应布局在_____。

(2) 图中 D、E、F 为工业企业，将各字母填在相应的横线上：钢铁厂_____，自来水厂_____，服装厂_____。

(3) 该城市拟建一座化工厂，从环境保护角度考虑，在 H、G 两地中较合的是（填字母）_____，理由是_____。

(4) 图中的服装厂属于_____指向型工业。

(5) 在竞争环境下，城市的每一块土地用于哪种经济活动，取决于各种活动的（ ）

- A. 规模的大小 B. 重要的程度
C. 付出租金的高低 D. 由政府决策

(6) 土地租金高低取决于下列因素：①距离市中心的远近②土地利用方式③交通通达度④企业的支付能力，其中主要的是（ ）

- A. ①② B. ①③
C. ②④ D. ③④

参考答案

1. D
2. C
3. B
4. D

5. A
6. B

7. B

8. D

9. A

10. D

11. B

12. A

13. B

14. A

15. D

16.

(1) B A C

(2) F D E

(3) H 河流下游，不污染水源；与盛行风垂直的郊外，不污染大气。

(4) 劳动力

(5) C

(6) B

