

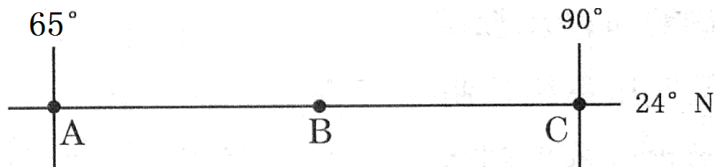
北京博飞华侨港澳台联考试题

地理部分 34-51

-----南亚

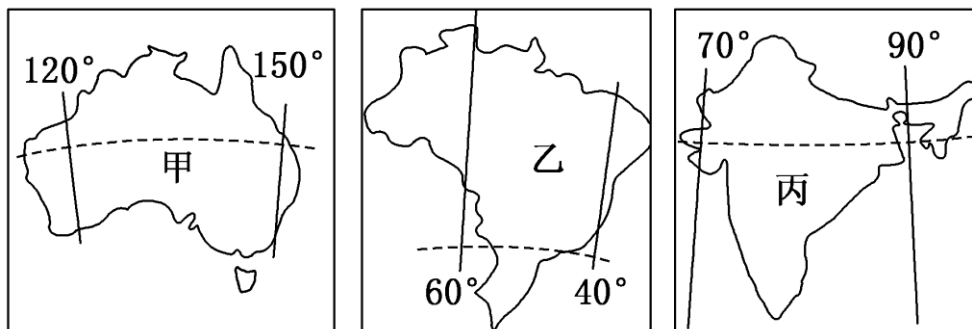
一、选择题

下图中，AC 线地跨三个国家，读后回答以下问题。



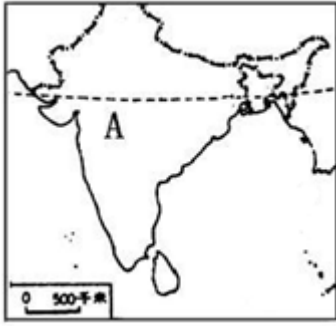
1. A 地气候特征是：（ ）
 - A. 最冷月均温小于 0℃
 - B. 终年炎热干燥
 - C. 具有干湿二季
 - D. 终年高温多雨
2. B 国地形自北向南依次是：（ ）
 - A. 山地、高原、盆地
 - B. 山地、平原、高原
 - C. 高原、山地、平原
 - D. 山地、平原、盆地
3. 下列说法，正确的是：（ ）
 - A. C 国地处亚欧板块
 - B. A 国和 C 国的居民多信奉伊斯兰教
 - C. 布拉马普特拉河源于我国，流经 B 国，在 A 国人海
 - D. B 国是亚洲耕地面积、人口密度最大的国家

下图所示甲、乙、丙三国均为世界某种矿产资源重要出口国，读图完成下列小题。



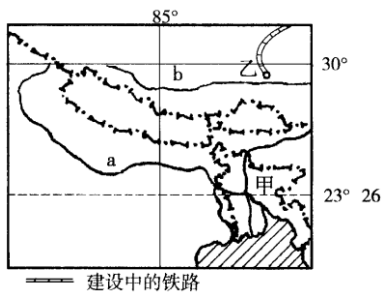
4. 该矿产资源是（ ）
 - A. 铜矿
 - B. 铁矿
 - C. 石油
 - D. 煤炭
5. 矿石运输船从丙国沿较短航线驶往意大利，沿途依次经过的海域为（ ）
 - A. 阿拉伯海、曼德海峡、红海、地中海
 - B. 红海、亚丁湾、阿拉伯海、苏伊士运河
 - C. 亚丁湾、霍尔木兹海峡、红海、苏伊士运河
 - D. 马六甲海峡、曼德海峡、苏伊士运河、直布罗陀海峡

读下图, 回答下列各题。



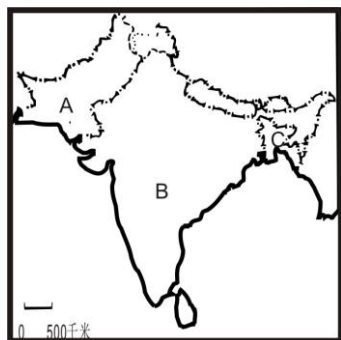
6. 下列关于 A 国的叙述不正确的是 ()
- A. 该国冬季盛行东北风
B. 该国中西部的德干高原是茶叶的主要种植区
C. 该国的人口增长模式为过渡型
D. 该国的高新技术产业主要分布在南部地区
7. 我国哪个省的气候与 A 国的主导气候一致 ()
- A. 海南省 B. 山东省 C. 浙江省 D. 青海省
8. 下列有关日本河流的水文特征的叙述不正确的是 ()
- A. 流程短 B. 含沙量大 C. 水能丰富 D. 流速急

下图为某地区图，读图回答下列小题。



9. 图中甲国是世界上洪涝灾害最严重的国家之一，该国洪涝灾害频繁发生的主要原因是 ()
- ①属于热带季风气候区，降水量的季节变化大
②国家贫困，水利设施差
③地势低平，排水不畅
④气温高，山地冰川融化量大
- A. ①④ B. ①② C. ②③ D. ①③
10. 下列关于南亚的叙述，正确的是 ()
- A. 巴基斯坦以印度教为国教，97%以上的人口为穆斯林
B. 南亚是印度教和犹太教的发源地
C. 恒河源出我国西藏，注入孟加拉湾，下游地区小麦的种植面积广大
D. 南亚人口超过 1 亿的国家有 3 个，其中印度人口最多
11. 印度经常发生水旱灾害，主要原因是 ()
- A. 西南季风的影响 B. 东北季风的影响
C. 原始森林的遭到破坏 D. 地形的影响

读图回答下列小题。



12. B 国地形自北向南依次是 ()

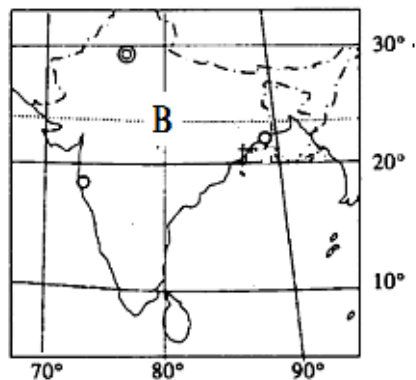
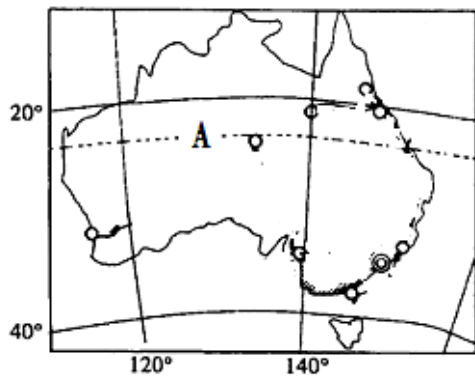
- A. 山地、高原、盆地 B. 山地、平原、高原
C. 高原、山地、平原 D. 山地、平原、盆地

13. 关于 A、B 两国正确的说法的是 ()

- A. A、B 两国间矛盾冲突激烈的历史原因是淡水之争
B. A 国是以山地为主的国家
C. B 国南部与同纬度地区相比，气温偏高的原因主要是受北部山地的阻挡
D. 东南季风的强弱，易使 B 国造成洪涝或干旱

二、综合题

14. 读下图，回答下列问题。



- (1) 描述 AB 两地所在国家的地形特点。
(2) 分别描述 AB 两地气候类型及其特点。

参考答案

1. B
2. B
3. B
4. B
5. A

6. B

7. A

8. B

9. D

10. D

11. A

12. B

13. C

14.

(1) A 地所在国地形特点：平原高原为主，地势东西高中部低，东部是大分水岭，中部是平原，西部是低矮的高原；B 地所在国地形特点：平原高原为主，地势南北高中部低，北面是山地，中部是平原，南部是高原。

(2) A 地气候：热带沙漠气候，终年炎热干旱少雨；B 地气候：热带季风气候，终年炎热，有明显的旱雨季。