

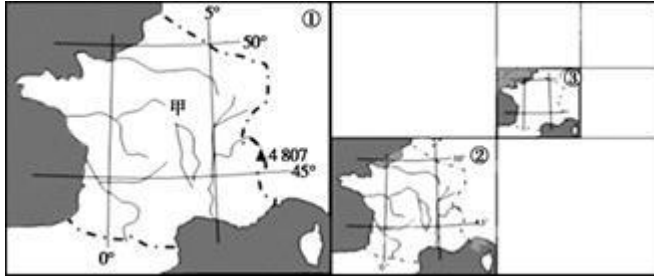
北京博飞华侨港澳台联考试题

地理部分 36-51

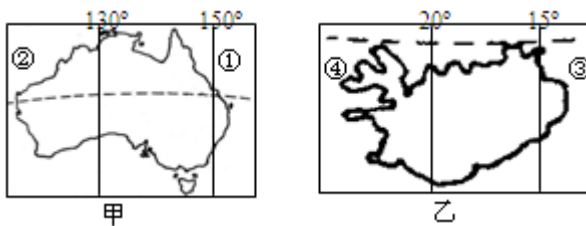
-----欧洲

一、选择题

读世界某区域图，其中①②③图均表示同一区域，且其图幅依次减少四分之三。读图回答下列小题。



- 若①图比例尺为1:N，则②图、③图的比例尺依次为（ ）
A. 2:N 3:N B. 1:2N 1:3N C. 2:N 4:N D. 1:2N 1:4N
 - 关于甲国的叙述正确的是（ ）
A. 该国以温带海洋性气候为主，适宜多汁牧草生长而不适宜谷类作物生长
B. 该国地势东南高、西北低，绝大部分河流注入北海
C. 该国是所在区域经济最发达的国家之一，是世界重要的粮食出口国
D. 虚线表示国界线，虚线西南部隔比利牛斯山与西班牙、葡萄牙相邻
 - 欧洲东部和北亚大部分地区属于（ ）
A. 温带海洋性气候 B. 温带大陆性气候
C. 极地气候 D. 温带季风气候
 - 下列港口与所濒临海域相符合的是（ ）
A. 马赛—大西洋
B. 鹿特丹—北海
C. 汉堡—地中海
D. 符拉迪沃斯托克—北冰洋
 - 下列河流，属于大的地形单元分界线的有（ ）
A. 伏尔加河 B. 鄂毕河 C. 叶尼塞河 D. 多瑙河
- 读下图，完成下列小题。



- 下列叙述正确的是（ ）
A. 甲地跨南北半球，乙地跨东西半球
B. 两地都位于南太平洋

- C. 两地所在海域的水温差异较大
D. 两地的自然景观较为相似
7. ①②③④地的海水温度的排序是 ()
A. ①<②<③<④
B. ④<③<②<①
C. ②<④<①<③
D. ①<③<②<④

读“大不列颠岛地形及某三种地理要素分布图”，结合所学知识，完成下列小题。



8. 判断①②③图所反映的地理要素分别是
A. 小麦区 乳畜业 降水量
B. 降水量 乳畜业 小麦区
C. 乳畜业 小麦区 降水量
D. 小麦区 降水量 乳畜业
9. 麦田圈是指在成熟或即将成熟的麦田或其他农田上，经某种力量把农作物压平而形成的几何图案。根据所学知识，推测英国南部麦田圈出现最多的月份在
A. 10、11月
B. 12、1月
C. 2、3月
D. 4、5月

(一) 2014年3月下旬，郁金香香，莱茵欢唱，习近平主席率团对荷兰、法国、德国、比进行友好访问。

10. 在荷兰访问期间，中荷两国签署了文化合作谅解备忘录。荷兰文化缤纷璀璨，其特色文化景观为

- A. 圆顶尖塔的宗教建筑
B. 热情奔放的探戈舞
C. 轻柔艳丽的纱礼服师
D. 风车乳牛田园风光

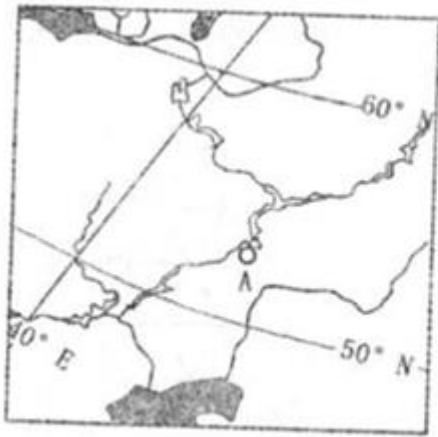
11. 代表团访问的欧洲四国中，以核能为支柱能源，并与我国签署新建核电项目的国家是

- A. 法国
B. 荷兰
C. 德国
D. 比利时


12. 访问期间，中德两国签署协议，开展燃料电池技术合作，以加快插电式混合动力汽车的产业化步伐。从这一合作项目中我国将获得的主要惠利是

- ①改善大气环境质量
②提高汽车工业从业人口的比重
③提升汽车工业水平
④扩大在德国的新能源汽车市场
- A. ② ③
B. ① ③
C. ② ④
D. ①④

图甲为世界某大河主要流经地区示意图，该河源头 海拔 228 米，以融雪补给为主。图乙为图甲 中 A 城市气候资料图，读图完成下列各题。



图甲



图乙

13. 该河径流量最大的季节可能是:

- A. 春季 B. 夏季 C. 秋季 D. 冬季

14. 对该河航运叙述正确的是:

- A. 全年降水均匀, 四季通航 B. 粮食与木材货运方向基本一致
C. 河流流速平缓, 利于航运 D. 支流水流湍急, 不利于通航

15. 关于欧洲的叙述正确的是 ()

- A. 欧洲无高耸的山地 B. 欧洲河流水量一般都不大
C. 深受第四纪冰川的影响, 多冰碛湖 D. 海岸线平直, 海湾、半岛少

二、综合题

16. 读欧洲部分地区图, 回答下列问题:



(1) 图中 A、B 两国农业均以____业为主, 这主要是因为两国均属于____气候。

(2) C 国的葡萄酒公司要建设一个大型的葡萄生产基地, ①、②两地中较适合的是____地, 理由是:_____。

(3) D 半岛, 近年来该地区酸雨现象日趋严重。据调查, 形成该地酸雨的污染物, 多来自西欧国家的工业区, 其传送的载体是_____。

(4) E 国新兴工业区主要分布在国土的_____和东北部, 其独特的发展模式是_____。

(5) 近年来, A 国的钢铁工业日益集中到西部, 有些钢铁公司还将炼钢高炉建到荷兰海边, 其主要目的是: ()

- A. 就近获得从国外进口的大量煤炭 B. 就近获得通过鹿特丹港进口的铁矿石
C. 接近消费市场, 便于出口产品 D. 减少污染, 保护城市生态环境

(6) A 国著名的传统工业区是_____与该工业区类似的还有美国的_____工业区。

参考答案

1. D

2. C

3. B

4. B

5. C

6. C

7. B

8. B

9. D

10. D

11. A

12. B

13. A

14. C

15. C

16.

(1) 乳畜业 温带海洋性气候

(2) ② 地中海气候, 夏季充足, 昼夜温差大

(3) 西风(或西南风)

(4) 中部 以中小型企业集聚的工业小区为独特的发展模式

(5) B

(6) 鲁尔区 东北部