

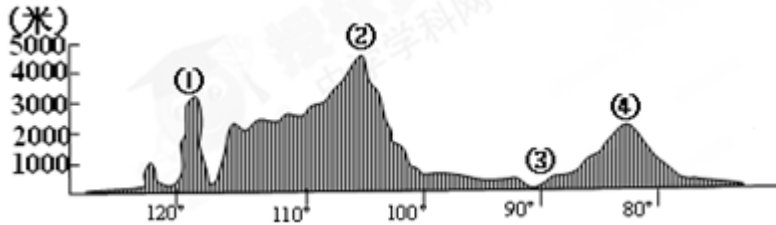
北京博飞华侨港澳台联考试题

地理部分 37-51

-----北美洲

一、选择题

读下图回答下题。



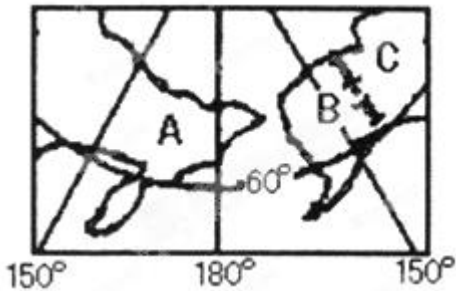
1. 有关图示大洲与大洋关系及所处半球的正确叙述是 ()

- A. 濒临两大洋，地跨东西两半球
- B. 濒临两大洋，位于西半球
- C. 濒临三大洋，地跨南北两半球
- D. 濒临三大洋，位于北半球

2. 关于图中所示大洲地理位置的正确叙述是 ()

- A. 地处北温带和北寒带
- B. 有回归线和极圈通过
- C. 西北、东北及南面均有海峡与其他大洲分开
- D. 南部有三大半岛

下图为某地区示意图(图中 A、B、C 为世界三个国家)，完成下列各题。



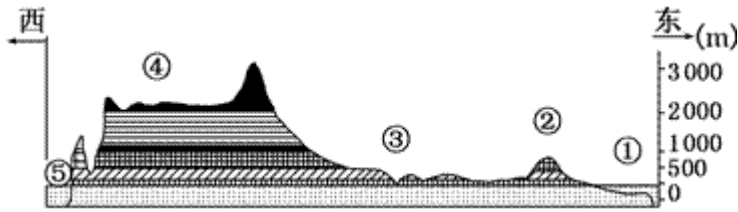
3. 图中 A、B 两个国家之间的海峡是 ()

- A. 直布罗陀海峡
- B. 白令海峡
- C. 马六甲海峡
- D. 英吉利海峡

4. 图中 A、C 两处共有的植被类型是 ()

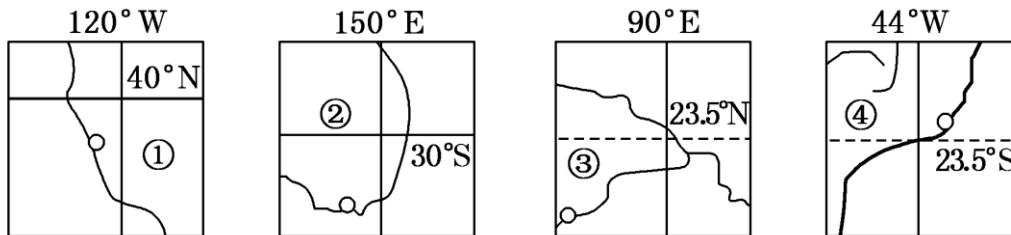
- A. 热带雨林
- B. 亚热带常绿阔叶林
- C. 亚寒带针叶林
- D. 温带落叶阔叶林

读图“某大洲沿 37° N 纬线剖面图”，回答下列各题。



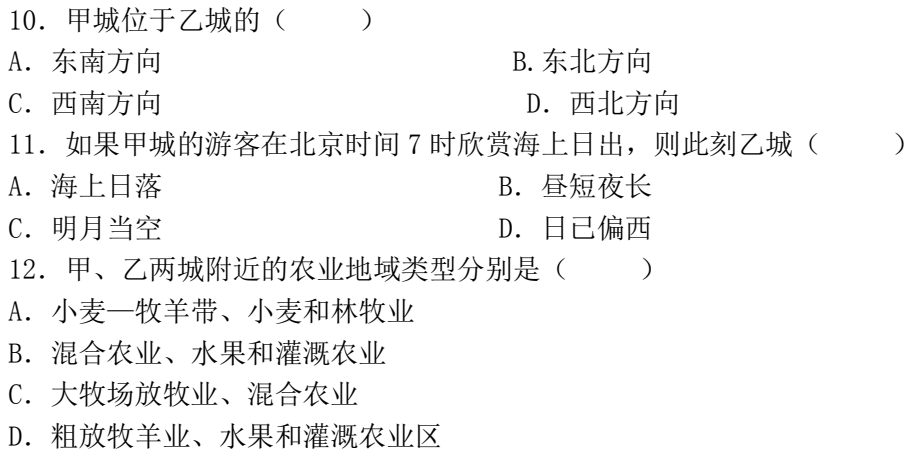
5. ①处洋流是()
- A. 东澳大利亚暖流 B. 拉布拉多寒流
- C. 墨西哥湾暖流 D. 巴西暖流
6. 有关图中序号所在地区, 叙述正确的是()
- A. ②处山脉西侧, 夏季降水多于冬季
- B. ③区为潘帕斯草原, 畜牧业发达
- C. ④区为该国的畜牧和灌溉农业区
- D. ⑤处沿海地区全年温和湿润, 降水丰富
7. 属于纵贯南北美洲西部山系的山脉是()
- A. 阿尔卑斯山和落基山脉
- B. 落基山脉和安第斯山脉
- C. 喜马拉雅山脉和阿尔卑斯山脉
- D. 喜马拉雅山脉和安第斯山脉

读世界四个国家局部地区略图, 结合所学地理知识完成下题。



8. 最近国际市场石油价格上涨, 四国为了保证石油的长期稳定供应, 你认为可采取的应对措施是()
- A. ①国大量动用石油战略储备
- B. ②国可从其东面邻国大量进口石油
- C. ③国利用其极为丰富的天然气资源替代石油
- D. ④国利用甘蔗做原料大量生产乙醇, 部分替代汽油
9. 某跨国服装公司欲建立新的海外加工基地, ①②③④四国中较为合适的是()
- A. ①② B. ②③ C. ③④ D. ①④

读下图, 完成下列各题

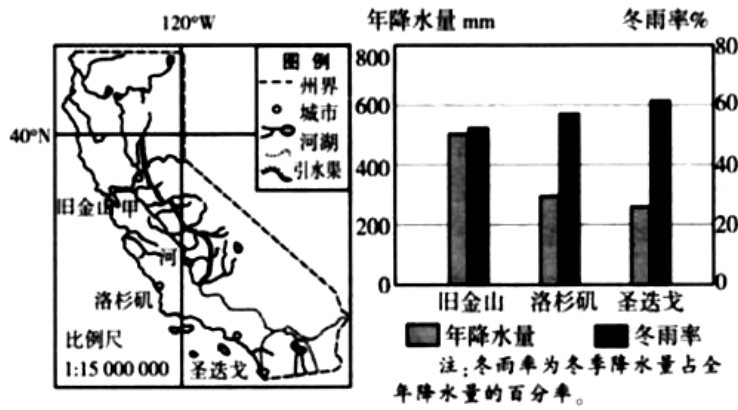


A map of North America showing the distribution of five bird species. The map includes the United States, southern Canada, and northern Mexico. Species 1 is represented by a solid black area in the southern United States and northern Mexico. Species 2 is represented by a solid black area in the northeastern United States and southern Canada. Species 3 is represented by a cross-hatched area in the eastern United States. Species 4 is represented by a solid black area in the western United States. Species 5 is represented by a solid black area in the southwestern United States. The ranges of species 1, 2, and 3 are shaded, while the ranges of species 4 and 5 are not.

- ## 二、综合题

14. 阅读材料，完成下列各题。

材料一 下面甲图是某国某州区域图，乙图是三城市年降水量和冬雨率柱状图。



材料二 圣迭戈是一个典型的海湾型城市，被誉为“全世界最舒适的地方之一”。这座城市建有世界一流的机场、港口、铁路和高速公路；共有 5 所大学和 7 所学院，全市四分之一以上的人口有学士学位；是生产无线通信产品的高通公司总部所在地，也是 IBM、诺基亚、爱立信和英特尔等的研究基地之一。

- (1) 乙图中三城市所在地区典型自然带是_____。
- (2) 说出图示地区由北向南降水的特点并简要分析原因。
- (3) 图示地区南部是该国重要的水果、蔬菜生产基地。请从气候角度评价其生产条件。
- (4) 根据材料分析圣迭戈重点发展高新技术产业的有利条件。

15. 读“美国农业地带分布图”，写出序号④所代表的农业带名称，并分析其形成的原因。



参考答案

1. D

2. B

3. B

4. C

5. C

6. C

7. B

8. D

9. C

10. C

11. D

12. B

13. B

14.

(1) 亚热带常绿硬叶林带

(2) 特点:由北向南年降水量递减; 冬雨率递增。 原因: 图示地区主体在 30°N—40°N 的大陆西岸, 自北向南(由于)纬度降低, 受西风影响时间缩短, 受副热带高压的影响时间增长, 雨季缩短, 年降水量减少; 自北向南年降水量减少, 加之降水更集中冬季, 故冬雨率递增。

(3) 有利条件: 南部地区纬度较低, 冬季温和, 有利于果蔬越冬; 夏季多晴天, 日照充足, 昼夜温差大, 有利于养分的积累。不利条件: 雨热不同期(夏季降水少), 影响农作物生长。

(4) 海湾型城市, 环境优美, 纬度较低, 气候宜人; 建有世界一流的机场、港口、铁路和高速公路, 现代化交通便捷; 高校多, 科研力量强; 从业人员素质高。

15. 纬度位置相对较高, 气候湿冷, 无霜期短; 土地贫瘠, 不适合农作物种植, 但有利于多汁牧草的生长; 该地区接近东北老工业基地, 人口众多, 经济发达; 同时该国人口的饮食方面喜欢牛奶和乳制品; 市场需求量非常大。