

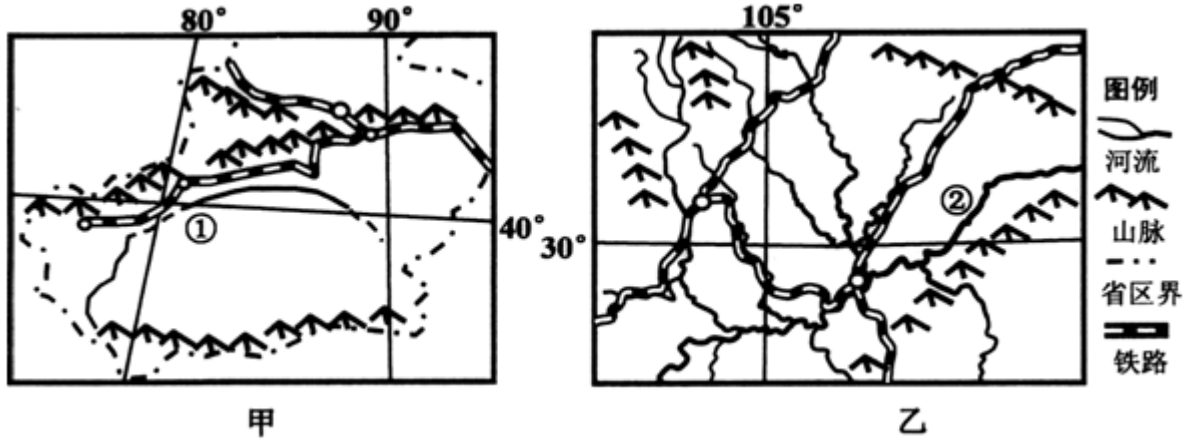
北京博飞华侨港澳台联考试题

地理部分 48-51

-----西北地区

一、选择题

1. 甲是塔里木盆地、乙是四川盆地。甲、乙两盆地中的河流（ ）



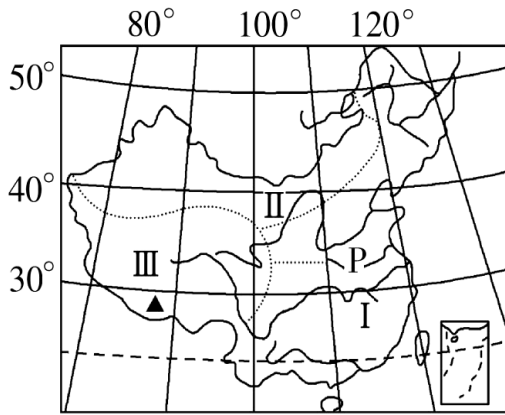
- A. ①河水源主要来自冰雪融水
- B. ①河是我国含沙量最大的河流
- C. ②河初春有凌汛现象出现
- D. ②河的汛期短于①河的汛期

2. 气象部门用 5 天平均气温的高低作为划分四季的指标；连续 5 天平均气温低于 10°C 则为冬季，高于 22°C 为夏季， $10^{\circ}\text{C} \sim 22^{\circ}\text{C}$ 之间为春秋两季。读某年立冬我国大陆部分各地季节状况图，形成图中我国大陆部分各地在同一天出现三种季节的主要原因是（ ）



- A. 海陆热力性质差异
- B. 地形地貌差异
- C. 各地纬度差异
- D. 各地经度差异

3. 读我国三大自然区(I、II、III)图，下列叙述正确的是（ ）



A. 地理界线 P 南北两侧种植业不同的主要原因是光照条件不同

B. III 区比 II 区纬度低，故热量比 II 区充足

C. III 区和 I 区所处纬度差不多，光照条件相同

D. II 区比 I 区北部降水少，故以 400 mm 等降水量线与 I 区北部为界

4. 关于河西走廊的叙述，不正确的是（ ）

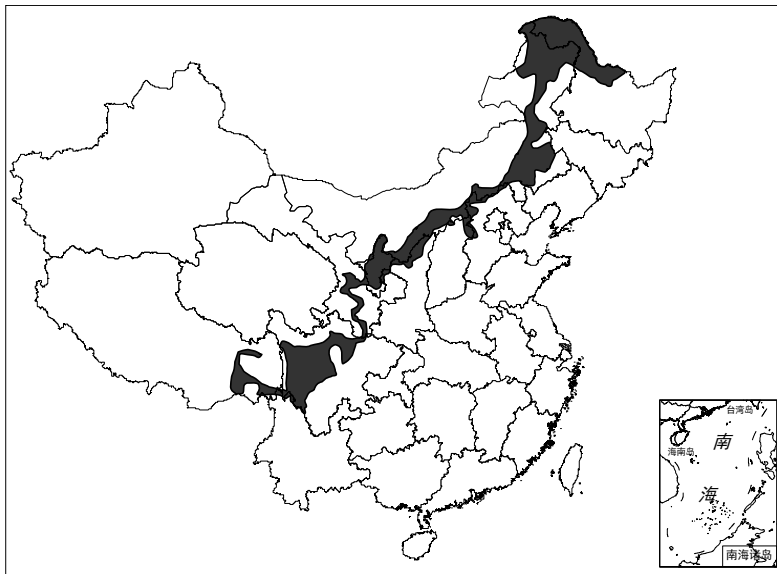
A. 位于祁连山地的北面，因地势较低，形状狭长，在黄河以西而得名

B. 引黄河水和祁连山冰雪融水灌溉农田，灌溉农业历史悠久

C. 交通位置极为重要

D. 有西北重要的石油产地玉门油田

5. 下图中阴影部分表示的地理事物是（ ）



A. 农牧交错带

B. 滑坡灾害带

C. 风能资源集中带

D. 内陆火山地震带

下图为我国三大自然区范围图，读图回答下列题。

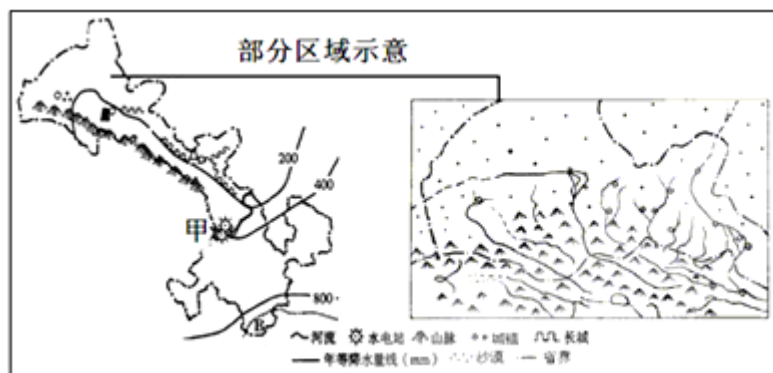


6. 甲、乙、丙三大地区的地理环境特点是 ()
- A. 甲区纬度高, 气温日较差大, 年较差小
- B. 乙区海拔高, 太阳辐射强、气温高
- C. 乙区不临海, 故不受夏季风的影响
- D. 丙区背陆面海, 夏季高温多雨, 雨热同期
7. 图中三大自然区的区域特征组合正确的是 ()
- A. 甲区草场广布, 河网密布
- B. 乙区高寒缺氧、冻土广布
- C. 丙区一马平川, 终年温湿
- D. 甲乙两区均受冬季风影响明显

几乎像永恒的约定, 每当季节变换, 生活在阿尔泰山、天山、帕米尔高原的农民便开始“搬家”; 从山前平原搬到深山里, 再从高山带回到河谷低地或沙地。他们敏锐地踩着季节的节奏, 与之周旋、适应, 永远在路上。当南方地区的农民以某处固定的“家”为阡陌世界的核心时, 新疆的农民却将“转场”当做了生活的本身, 并因此形成了新疆才有的行吟诗人般的生活。阅读上述材料并完成第下列各题。

8. 材料中所述的“搬家”或“转场”在地理学中被称为 ()
- A. 热带雨林迁移农业 B. 混合农业
- C. 乳畜业 D. 游牧业
9. 材料中所述地区与季节对应关系较为科学的一组是 ()
- A. 山前平原—夏季 B. 高山—春季
- C. 河谷低地—冬季 D. 沙漠—秋季

下左图是“我国某省地理简图”, 图示地区是我国荒漠化扩大较快的地区之一。读图回答下列各题。



10. 某地理考察团到该地区考察，不可能见到的景观是（ ）
- A. 斑点状荒漠化圈广布
B. 古长城遗迹
C. 高山上雄壮的冰川
D. 草方格沙障
11. 图中河流中下游地区是历史悠久的绿洲农业区，决定绿洲的规模的最主要因素是（ ）
- A. 土壤的肥力 B. 地势的高低 C. 水源的多少 D. 科技的发展
12. 右图中①点表示当前该省农业产值比重。为缓解当地的生态危机，拟调整该地区的农业产业结构，其中合理的规划方案是（ ）
- A. ② B. ③ C. ④ D. ⑤
13. 既是我国第一、二级阶梯的分界线，又是东西走向的山脉是（ ）
- A. 祁连山 B. 秦岭 C. 昆仑山 D. 横断山
14. 紧靠我国第一、二级阶梯交界线附近的地形区是（ ）
- A. 长白山脉、云贵高原 B. 天山山脉、柴达木盆地
C. 阴山山脉、吐鲁番盆地 D. 祁连山脉、四川盆地

参考答案

1. A
2. C
3. D
4. B
5. A

6. D
7. B

8. D
9. C
10. A
11. C
12. A
13. C
14. D