

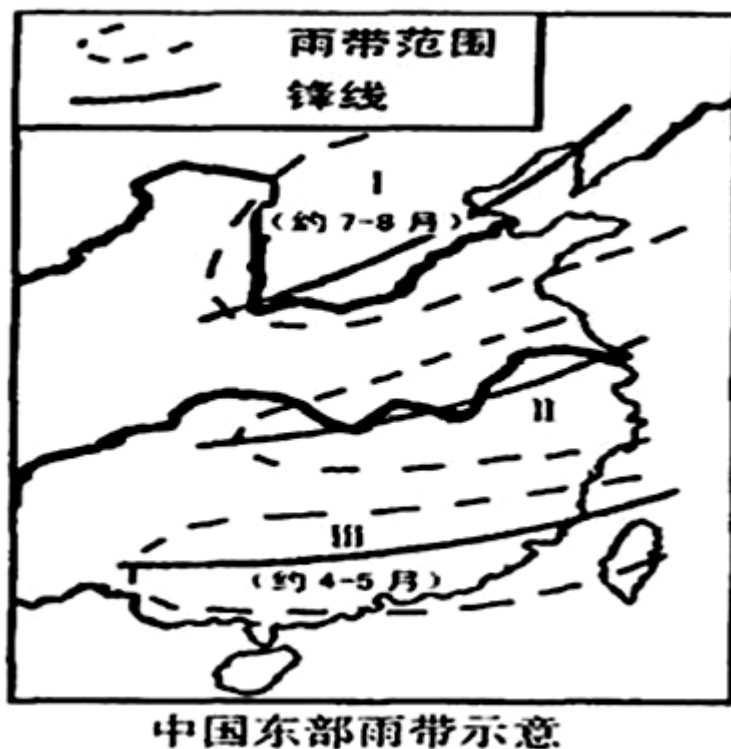
# 北京博飞华侨港澳台联考试题

地理部分 49-51

-----南方地区

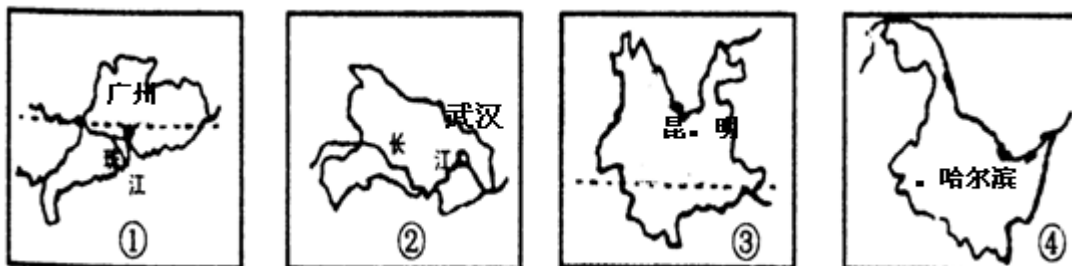
## 一、选择题

影响农业生产的因素，既有自然条件因素，又有社会经济因素。上海市位于亚热带季风气候区，又位于我国东部沿海经济发达地区。读“中国东部雨带示意”图，回答下列小题：



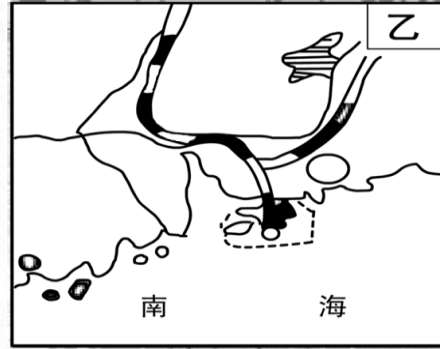
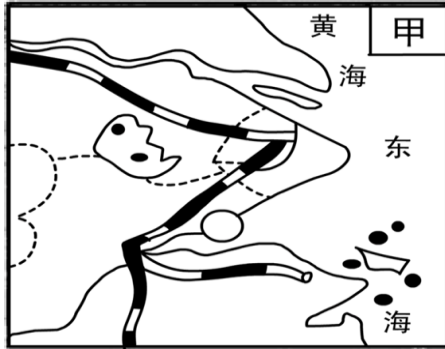
1. 根据雨带在 I、III 地区的时间，可以推论，在一般年份，雨带推移至上海地区的时间大致是（ ）  
A. 4—6 月                      B. 6—7 月  
C. 6—8 月                      D. 5—8 月
2. 如在 7 月以后，雨带仍未推移进入 I 地区，我国东部地区将可能产生灾害的状况是（ ）  
A. 南旱北涝                      B. 南北皆旱  
C. 南涝北旱                      D. 南北皆涝

读下图我国四个省的轮廓，完成下列小题。



3. 图中四省区的简称中, 正确的是 ( )
- A. ①——闽                      B. ②——鄂
- C. ③——昆                      D. ④——哈
4. 图中四省区中, 少数民族最多的是 ( )
- A. ①                              B. ②
- C. ③                              D. ④

下图为我国两个三角洲示意图, 读图并回答下列小题。



5. 关于两个三角洲的叙述, 正确的是 ( )
- A. 甲图是珠江三角洲
- B. 乙图有京沪铁路经过
- C. 甲、乙两地矿产资源丰富
- D. 甲图有我国最大的综合性工业基地
6. 利用各自优越的地理位置, 两地都发展了 ( )
- A. 水产养殖业                      B. 甘蔗种植业
- C. 甜菜种植业                      D. 造纸和化工

下表中每个地区的三个字母从左至右分别表示水分资源、热量资源、光照资源的质量等级(三者的质量等级均分为 a、b、c、d 四个等级, 且由 a 到 d 表示三个条件越来越好。读表完成下列小题。

地区	青藏地区	甲	南方大部	华北平原	塔里木盆地
类型	bad	dda	ddb	ccc	乙

7. 甲地可能是 ( )
- A. 黄土高原                      B. 四川盆地
- C. 台湾西部平原                  D. 河西走廊
8. 乙类型代号应为 ( )
- A. acd                              B. dba                              C. adc                              D. bbb

甲、乙两地分别位于我国两大不同的地形区中。据下表回答下列小题。

地区	经纬度	海拔(米)	一月平均气温(℃)	七月平均气温(℃)
甲	102° E, 25° N	1 891	7. 7	19. 8
乙	113° E, 28° N	68	4	32

9. 甲、乙两地所在的地形区分别是（ ）
- A. 云贵高原、成都平原      B. 黄土高原、华北平原
- C. 青藏高原、四川盆地      D. 云贵高原、洞庭湖平原
10. 甲地夏季气温明显低于乙地，其主要原因是
- A. 所处地形类型不同      B. 所属气候类型不同
- C. 所处海陆位置不同      D. 所处纬度位置不同
11. 长江三角洲地区是我国重要的（ ）
- A. 重化工基地      B. 综合性工业基地
- C. 商品棉基地      D. 热带作物基地

下表为我国北纬 35° ~40° 之间大陆上四地的气候资料，读表回答下列各题。

地点	①	②	③	④
年降水量 (mm)	15.6	466.6	777.4	205.4
一月平均气温 (°C)	-8.5	6.6	-1.2	-9.0
七月平均气温 (°C)	27.4	23.5	23.9	23.6

12. 导致四地气候差异的主要因素是（ ）
- A. 纬度位置      B. 海陆位置      C. 海拔高度      D. 洋流性质
13. 关于四地说法正确的是（ ）
- A. ①③两地河流都有春汛
- B. ①④两地位于青藏高寒区
- C. ②③两地位于季风区
- D. ②④两地位于半干旱区

下图是我国几个省区轮廓图，读图判断下列各题（ ）

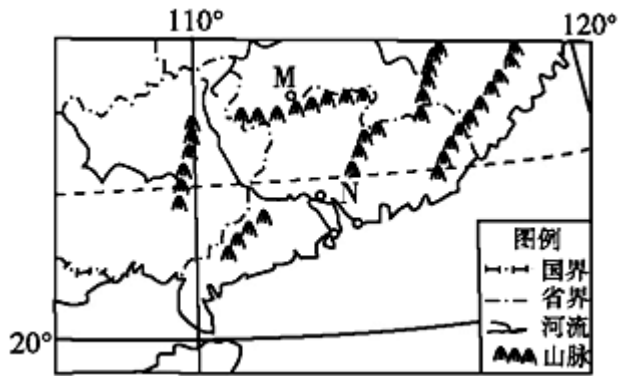


14. 按纬度由低到高排列正确的一组是（ ）
- A. ①②③④      B. ④③②①      C. ③②④①      D. ③①④②
15. 下列关于各省的叙述正确的是（ ）
- A. ①省的省会既是我国著名的钢铁工业中心，又是纺织工业中心
- B. ②省既有全国性的商品粮基地，又有全国性的商品棉基地
- C. ③省既是我国的煤炭工业基地，又是我国有色金属基地
- D. ④省既临黄海，又临东海

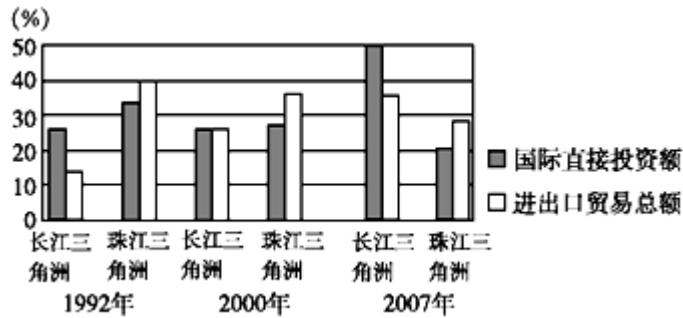
## 二、综合题

16. 阅读下列材料，回答下列问题：

材料一 我国南部沿海地区图。



材料二 1992~2007 年长江三角洲与珠江三角洲国际直接投资额和进出口贸易总额占全国比重的变化图。



- 简述我国南部沿海地区地理位置对该地区经济活动的有利影响。
- 图中 M、N 两地比较, 受寒潮影响较小的是\_\_地, 试分析原因。
- 与珠江三角洲比较, 1992~2007 年, 长江三角洲国际直接投资额和进出口总额占全国的比重有什么变化? 试分析其原因

参考答案

- B
- C
- B
- C
- D
- A
- B
- A
- D
- A
- B
- B
- C

14. C

15. B

16.

(1) 位于北回归线附近的大陆东岸地区,水热充沛,有利于农业生产;南临南海,海运便利;毗邻港澳和东南亚,有利于发展外向型经济。

(2) N ①地处南岭南侧,位于冬季风的背风坡;②距海近,冬季气温较高;③纬度低,相对温暖(或距冬季风源地较远,受冬季风影响小)。

(3) 1992~2007 年,长江三角洲国际直接投资额和进出口贸易总额占全国的比重持续增长,并超过珠江三角洲。原因:长江三角洲地区 20 世纪 90 年代后,对外开放;产业基础好;科技实力更强;经济腹地范围更大。