

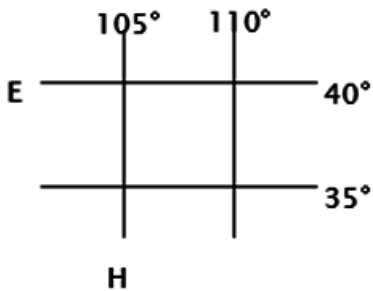
# 北京博飞华侨港澳台联考试题

## 地理部分 51-51

-----中国北方

### 一、选择题

读图回答下列小题。



1. H 经线穿越的我国大地形区有 ( )  
A. 内蒙古高原、黄土高原、青藏高原、云贵高原  
B. 内蒙古高原、黄土高原、四川盆地、云贵高原  
C. 黄土高原、长江中下游平原、四川盆地、云贵高原  
D. 准噶尔盆地、天山、塔里木盆地、青藏高原
2. E 纬线穿过的我国省级行政单位有 ( )  
A. 山东省、河北省、山西省、甘肃省、新疆维吾尔自治区  
B. 河北省、山西省、内蒙古自治区、甘肃省、青海省  
C. 辽宁省、河北省、山西省、甘肃省、新疆维吾尔自治区  
D. 江苏省、河南省、陕西省、宁夏回族自治区、青海省

图是两组我国省级行政区划图，读图回答下列小题。



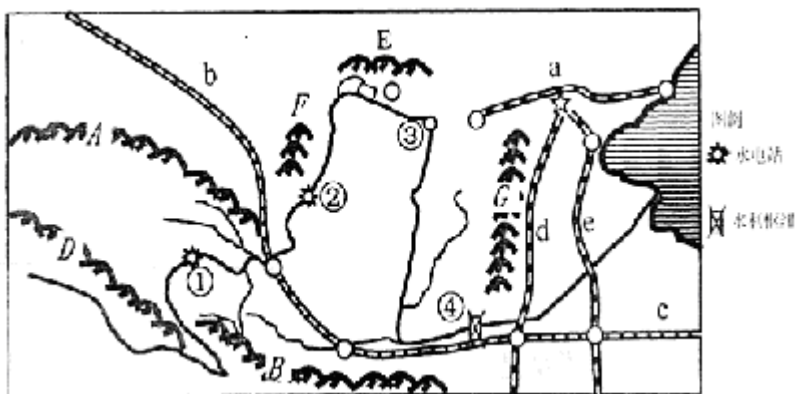
3. 对图中省份的说法正确的是 ( )  
A. 甲、乙两省均位于地势第一级阶梯  
B. 丙、丁两省以河流为界  
C. 甲、乙两省以河流为界  
D. 丙、丁两省均位于地势第二级阶梯
4. 对在甲、乙两省旅行常见地貌景观叙述正确的是 ( )  
A. 远看成山，近看成川  
B. 地表崎岖，谷深坡陡  
C. 沟壑纵横，支离破碎  
D. 平原为主，丘陵间杂
5. 有关甲、乙山脉的叙述，正确的是 ( )



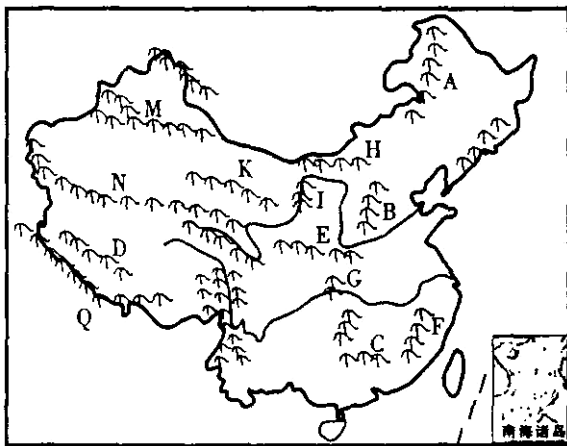
- A. 甲山的东侧是东北平原  
B. 甲山是我国第一、二级阶梯分界线  
C. 乙山与我国 1 月 0 °C 等温线大致吻合  
D. 乙山是内蒙古高原和黄土高原的分界线
6. 我国东部地区丘陵分布广泛，有①山东丘陵；②江南丘陵；③辽东丘陵；④两广丘陵，自北向南依次为：  
( )  
A. ①②③④ B. ③①④② C. ③①②④ D. ④②①③
7. 属于我内海的是 ( )  
A. 渤海和黄海 B. 东海和南海  
C. 渤海和琼州海峡 D. 东海和黄海
8. 有关我国气温分布的说法，正确的是 ( )  
A. 夏季气温最低的地方是漠河  
B. 冬季气温最低的地方在青藏高原  
C. 冬季南北温差不大  
D. 影响我国气温分布的主要因素是纬度位置

## 二、综合题

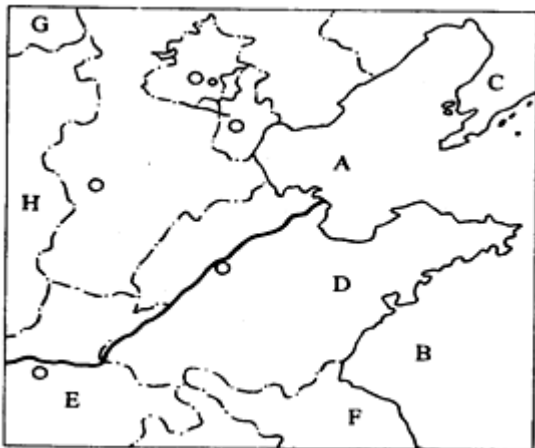
9. 读中国局部地图，完成：



- (1) 属于季风区和非季风区界线的山脉是\_\_\_\_\_、\_\_\_\_\_；属于地势中第一、二级阶梯分界线的是\_\_\_\_\_；0°C等温线经过的山脉是\_\_\_\_\_。(均填字母)
- (2) 山脉 G 东侧的地形单元为\_\_\_\_\_，西侧的地形单元为\_\_\_\_\_。
- (3) ①在\_\_\_\_\_省境内；④在\_\_\_\_\_省(简称)境内。
- (4) 黄河干流从②到③河段，水量减少的自然原因是\_\_\_\_\_；人为原因是\_\_\_\_\_。
10. 读下图，回答问题。



- (1) F 山脉名称\_\_\_\_\_，走向是\_\_\_\_\_；
  - (2) 写出下列山脉东西两侧的地形区：G\_\_\_\_\_；
  - (3) 写出下列山脉北南两侧的地形区：M\_\_\_\_\_；
  - (4) 写出下列山脉所属流域的分界线：C\_\_\_\_\_与\_\_\_\_\_的分界线。
  - (5) 沿 A—H—I—D 山脉一线形成的我国地理分界线名称是\_\_\_\_\_。
  - (6) 印度洋板块和亚欧板块相碰撞而形成的山脉代号是\_\_\_\_\_。
11. 读下图回答下列问题：



图中 A 为\_\_\_\_\_海；B 为\_\_\_\_\_海；C 为\_\_\_\_\_半岛；  
D 为\_\_\_\_\_半岛；E 为\_\_\_\_\_省；F 为\_\_\_\_\_省；  
G 的行政中心是\_\_\_\_\_；H 的简称是\_\_\_\_\_。

### 参考答案

1. B
2. C
3. C
4. C
5. C



6. C

7. C

8. D

9.

(1) EFGB

(2) 华北平原 黄土高原

(3) 青海 豫

(4) 降水少，蒸发旺盛 农业灌溉用水量大

10.

(1) 武夷山 东北—西南

(2) 长江中下游平原 四川盆地

(3) 准噶尔盆地 塔里木盆地

(4) 长江流域 珠江流域

(5) 季风区与非季风区分界线

(6) Q

11.

渤海 黄海 辽东 山东 河南 江苏 呼和浩特 晋