

## 备考港澳台联考 地理绝密资料

### 港澳台联招必考试题-----区域地理 5-10

编写：北京博飞华侨港澳台学校

#### 区域地理 5-试题

##### 一、单选题

- 关于西亚的叙述，正确的是( )  
A. 濒临黑海、地中海、红海、阿拉伯海、里海 B. 两河流域是指阿姆河和锡尔河流域  
C. 死海盐度高达 32%，是世界盐度最高的海 D. 国家都属于阿拉伯国家
- 西亚地区处在印度洋和大西洋的重要国际航线上，沟通这两大洋的咽喉是( )  
A. 苏伊士运河、直布罗陀海峡 B. 苏伊士运河、马六甲海峡  
C. 巴拿马运河、土耳其海峡 D. 巴拿马运河、白令海峡
- 下列选项中，不属于西亚的是( )  
A. 沙漠广布 B. 森林茂密 C. 气候干旱 D. 高原为主
- 俄罗斯的运输主要靠( )  
A. 航空 B. 内河航运 C. 公路 D. 铁路
- 美国最大城市、最大海港、最大的综合性工业中心和金融中心是( )  
A. 华盛顿 B. 休斯敦 C. 芝加哥 D. 纽约
- 美国人口多为海外移民及其后裔，其中 80%以上是( )  
A. 白种人 B. 黑种人 C. 有色人种 D. 印第安人
- 北美分布范围最广的气候是( )  
A. 温带海洋性气候 B. 极地气候 C. 温带大陆性气候 D. 温带草原气候
- 世界最大的淡水湖是( )  
A. 里海 B. 苏必利尔湖 C. 安大略湖 D. 贝加尔湖
- 欧洲西部的主要地形为( )  
A. 平原和山地 B. 山地和丘陵 C. 平原和高原 D. 高原和盆地
- 世界人口增长最快的地区是( )  
A. 东亚 B. 南亚 C. 北非 D. 撒哈拉以南的非洲
- 撒哈拉以南的非洲热带草原气候区的代表性动物有( )



A.大象孔雀      B.狮子斑马      C.骆驼、鸵鸟      D.老虎、狗熊

12.撒哈拉以南的非洲的经济特征是(      )

- A.以农业为主的经济      B.以采矿业为主的经济  
C.殖民地色彩的单一经济      D.多种经营的民族经济

北京博飛 www.pkuzyw.com



- 13.撒哈拉以南的非洲人从人种构成看，主要为( )  
A.白种人 B.黑种人 C.黄种人 D.阿拉伯人
- 14.非洲从地形构成看，主要为( )  
A.平原 B.高原 C.山地 D.丘陵
- 15.西亚著名的灌溉农业区是( )  
A.恒河平原 B.土兰平原 C.印度河平原 D.美索不达米亚平原
- 16.下列海峡运河中，地处亚、非两洲之间的是( )  
A.马六甲海峡 B.苏伊士运河 C.巴拿马运河 D.直布罗陀海峡
- 17.西亚许多国家中畜牧业占重要地位，其气候原因是( )  
A.终年暖湿 B.终年干旱少雨 C.终年冷湿 D.终年湿润多雨
- 18.西亚地处“五海三洲”之地，其中三洲指的是( )  
A.亚洲、非洲、拉丁美洲 B.欧洲、北美洲、南美洲  
C.亚洲、欧洲、非洲 D.亚洲、大洋洲、非洲
- 19.近来，国际石油价格多有波动，出现多次“石油危机”，这一现象产生的原因是( )  
A.石油输出国限产石油 B.石油总产量供不应求  
C.英美对伊拉克的制裁 D.石油主产区与消费区不一致

20.读图，回答问题。(12分)

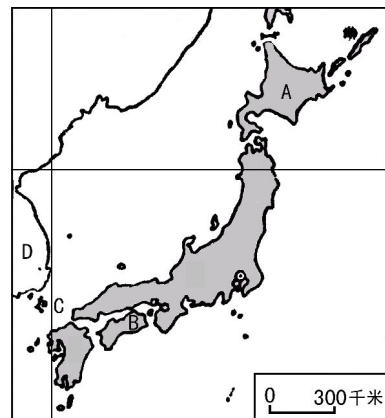
(1) 按要求填写地理事物的名称(3分)

岛屿 A \_\_\_\_\_，海峡 C \_\_\_\_\_  
半岛 D \_\_\_\_\_。

(2) 该国的传统工业区主要分布在 \_\_\_\_\_ 和 \_\_\_\_\_ 的狭长地带。(2分)

(3) 在经济发展中，该国面临的(2+3分)  
不利条件是

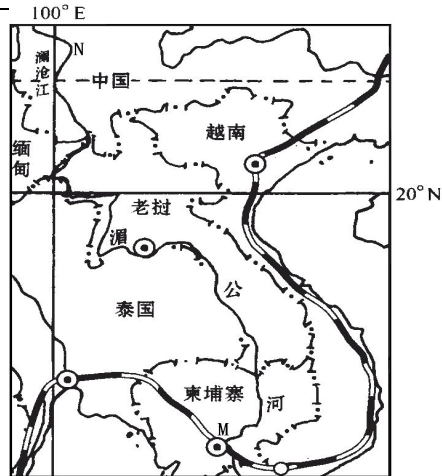
有利的条件是



(4) A 岛附近有世界著名的渔场,其形成的主要自然因素是(2分)

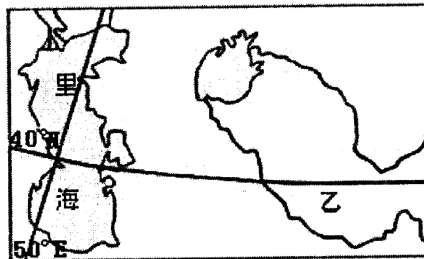
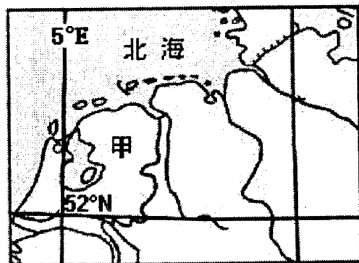


21.读澜沧江—湄公河流域示意图，回答下列各题。



- (1).湄公河发源于中国，最终注入（ ）  
A.印度洋 B.太平洋  
C.大西洋 D.孟加拉湾
- (2).湄公河中下游地区的农业地域类型主要为（ ）  
A.水稻种植业 B.商品谷物农业  
C.种植园农业 D.热带雨林迁移农业
- (3).湄公河口附近海域的盐度较小的月份是（ ）  
A.2月 B.4月  
C.8月 D.10月

22. 区域差异是因地制宜发展经济的基础。读下图，据此回答下列各题。



- (1). 甲、乙两地发展种植业生产的主要制约因素分别是：  
A. 土壤、水源 B. 光热、降水  
C. 风向、地势 D. 地形、河流
- (2). 关于甲、乙两地河流的说法，正确的是：  
A. 甲地河流多有凌汛现象 B. 乙地河流水位季节变化小  
C. 甲地河流水流急，水能丰富 D. 乙地河流以冰雪融水补给为主

23.松嫩平原是我国重要的商品粮基地，发展农业生产的主要制约因素是（ ）

- A.水源不足 B.光照不足 C.热量不足 D.土壤贫瘠

24.区域性经济合作组织最早出现在下列哪三个国家

- A. 荷兰、比利时、卢森堡 B. 美国、加拿大、古巴  
C. 法国、英国、荷兰 D. 匈牙利、奥地利、罗马尼亚

25.对南亚农业和河流汛期有重要影响的季风是（ ）

- A. 东北季风 B. 东南季风 C. 西北季风 D. 西南季风

26.有关南亚的叙述，正确的是（ ）

- A. 南亚的地形由北部山地、中部平原和南部高原三部分组成  
B. 南亚地区均为热带季风气候  
C. 印度河流经印度全境，注入阿拉伯海  
D. 印度西北部的乞拉朋齐，是世界降水最多的地方



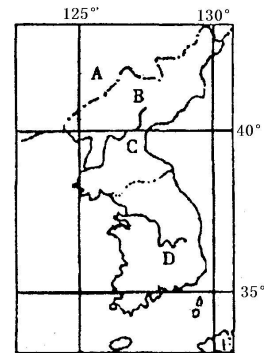
27. 下列城市（首都）与河流组合正确的是（ ）  
A. 河内——湄南河 B. 金边——湄公河 C. 万象——红河 D. 仰光——萨尔温江
28. 东南亚最著名的矿产是（ ）  
A. 天然橡胶和油棕 B. 煤矿和铜矿  
C. 锡和金矿 D. 锡和石油
29. 有关马六甲海峡的叙述正确的是（ ）  
A. 位于苏门答腊岛与马来半岛之间  
B. 是美洲、欧洲向东航行到非洲各港最短航线的必经之地  
C. 是连接太平洋与大西洋的海上通道  
D. 是连接红海与印度洋的海上通道
30. 下列有关中南半岛的叙述，不正确的是（ ）  
A. 山河相间，呈南北纵列分布  
B. 每年6月到10月吹西南季风，是雨季  
C. 属于印度洋板块  
D. 半岛上的湄公河平原是东南亚最大的平原
31. 比较下图中五个亚洲国家，位于东南亚的一组国家是（ ）



- A. ①② B. ③④ C. ①⑤ D. ②③

32. 读右图，据此回答下列各题。

- (1). B国与A国之间的界河是（ ）  
①黑龙江 ②松花江 ③鸭绿江 ④图们江  
A. ①② B. ②③ C. ①④ D. ③④
- (2). 关于C、D两地的气候类型叙述正确的是（ ）  
A. 都是季风气候 B. 都是温带大陆性气候  
C. 都是温带海洋性气候 D. 都是温带季风气候



33. 每年日本樱花开放日期各不相同。从4月初到6月末樱花依次盛开的地区是（ ）  
A. 本州、九州、北海道 B. 北海道、本州、九州  
C. 九州、本州、北海道 D. 北海道、九州、本州
34. 日本所需的石油主要来自于（ ）  
A. 美国、中国 B. 澳大利亚、东南亚 C. 中东、东南亚 D. 中东、英国



35. 日本工业发展的有利条件是 ( )
- A. 地形、气候、矿产等自然条件优越    B. 自然资源丰富，自给有余
- C. 石油资源丰富    D. 四面环海，海岸线曲折漫长，对外联系方便
36. 与世界各大洲相比，亚洲最为突出的气候特点是 ( )
- A. 季风气候显著    B. 以热带气候为主    C. 海洋性强    D. 气候类型单一
37. 下列几组海峡中都介于两大洲之间的是 ( )
- A. 马六甲海峡    莫桑比克海峡    英吉利海峡
- B. 麦哲伦海峡    霍尔木兹海峡    莫桑比克海峡
- C. 白令海峡    直布罗陀海峡    土耳其海峡
- D. 丹麦海峡    德雷克海峡    多佛尔海峡
38. 尼罗河与刚果河是非洲两条主要河流。据此回答下列各题。

(1). 图中两水系的支流密度差异很大，主要影响因素是：

- A. 降水    B. 海陆位置
- C. 地形    D. 气温

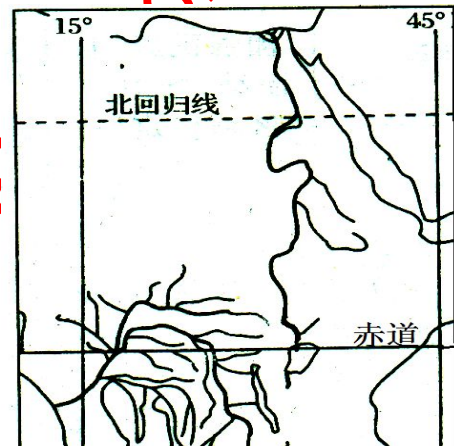
(2). 尼罗河和刚果河的主要补给水源分别是：

- A. 雨水、冰雪融水    B. 冰雪融水、雨水
- C. 地下水、季节性积雪融水    D. 雨水、雨水

(3). 图示区域主要包括全球六大板块中的

- ①亚欧板块    ②非洲板块
- ③印度洋板块    ④美洲板块

- A. ①②    B. ①④    C. ②③    D. ②④



39. 右图为世界石油、天然气某主要产区分布示意图。据此回答下列各题。

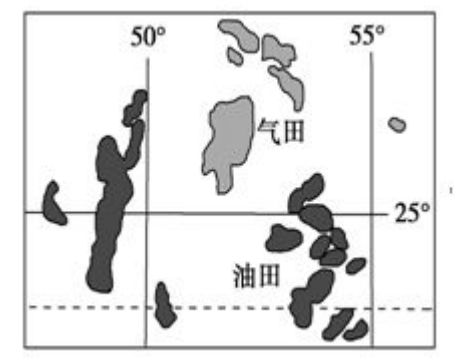
(1). 不需要从图示地区进口原油的国家是

- A. 美国    B. 中国    C. 俄罗斯    D. 日本

(2). 图示地区最大产油国向我国供应石油时所需要经过的海峡是

- ①霍尔木兹海峡    ②直布罗陀海峡
- ③黑海海峡    ④马六甲海峡

- A. ①②    B. ②③
- C. ③④    D. ①④

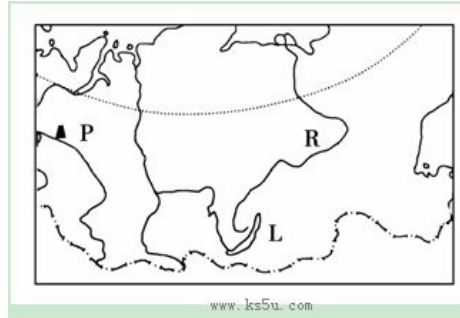


40. 田纳西河流域位于美国农业带（区）中的

- A. 玉米带    B. 混合农业区    C. 棉花带    D. 亚热带作物带



41.读下图，据此回答下列各题。



(1). L 位于俄罗斯的哪个地形区

- A. 乌拉尔山区
- B. 西西伯利亚平原
- C. 中西伯利亚高原
- D. 东西伯利亚山地

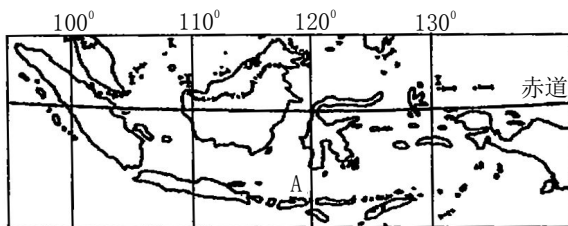
(2). 有关河流 R 的叙述，正确的是

- A. 径流季节变化小
- B. 通航期长
- C. 注入太平洋
- D. 有凌汛现象

(3). 油田 P 为俄罗斯著名油田，是中俄石油贸易的重要输出地，其名称是

- A. 库尔斯克油田
- B. 秋明油田
- C. 库兹巴斯油田
- D. 第二巴库油田

42. 印度尼西亚是世界上最大群岛国家，岛屿上千座，并且多火山和地震。读图，据此回答下列各题。



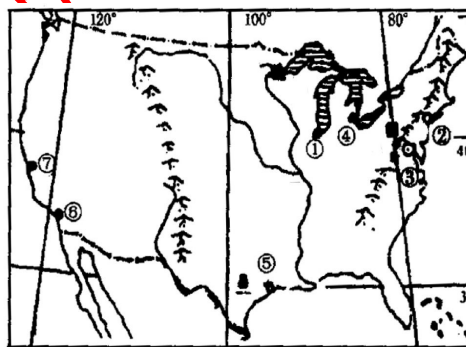
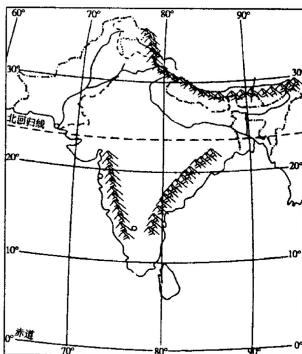
(1). A 岛属于荒岛，人烟稀少，如果当地发展农业的话，适合种什么作物

- A. 甘蔗
- B. 水稻
- C. 甜菜
- D. 天然橡胶

(2). 当地发展这种作物的优势自然条件是

- A. 地形平坦
- B. 土壤肥沃
- C. 劳动力丰富
- D. 热量丰富，降水充足

43.读美国、印度示意图，据此回答下列各题。



(1) 美国和印度均为世界耕地面积广大的国家，但印度耕地灌溉面积比重比美国大。

主要原因是（ ）

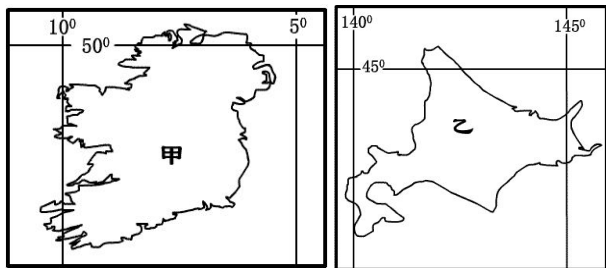
- A. 印度耕地多分布于平原、高原
- B. 印度降水的季节变化和年际变化大
- C. 美国干旱地带面积比印度小
- D. 美国农业地区专业化、集约化程度高

(2). 美国新兴工业中心“硅谷”和印度新兴工业中心班加罗尔相比，有哪些得天独厚的优势（ ）

- ① 洁净优美的环境
- ② 现代化交通条件
- ③ 世界领先的微电子技术
- ④ 长期的军事订货

- A. ①②
- B. ②③
- C. ②④
- D. ③④

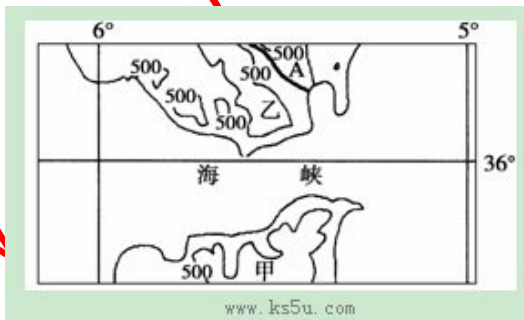
44.读甲、乙两岛屿轮廓图，据此回答下列各题。



- (1). 甲、乙两岛屿气候的相同之处是
- A. 常年受盛行西风控制      B. 受冬夏季风交替控制
- C. 受海洋影响，降水较丰富      D. 受暖流影响，最冷月均温高于 0℃
- (2). 有关乙岛所属国家的叙述，不正确的是
- A. 科技发达，产品多出口国外      B. 矿产资源缺乏，森林覆盖率高
- C. 农业生产规模大，机械化程度高      D. 河流短小流急，水力资源丰富
- (3). 乙岛东侧海域为世界著名的渔场，其成因主要是
- A. 温带海区      B. 暖寒流交汇      C. 上升流的影响      D. 河流的流入

45. 读“世界某地区图”，据此完成下列各题。

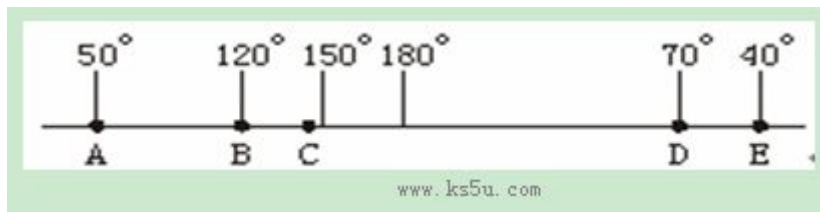
- (1). 图示海峡
- A. 沟通了红海与印度洋
- B. 沟通了大西洋与太平洋
- C. 沟通了地中海与大西洋
- D. 沟通了太平洋与印度洋
- (2). 下列关于图中 A 河水文特征的叙述，正确的是



- A. 冬季有结冰现象      B. 含沙量大
- C. 冬季水量大，水位高      D. 夏季水量大，水位高
- (3). 甲国具有世界意义的矿产资源是
- A. 石油      B. 磷酸盐      C. 黄金      D. 铝土矿
- (4). 甲、乙两国共有的农产品是
- A. 棉花      B. 天然橡胶      C. 椰枣      D. 油橄榄

大，水

46. 读下图，横线为 20° 纬线，A 处以东为海洋，B、C 之间和 D、E 之间为陆地，其余为海洋。据此完成下列各题。



- (1). A、C、E 三地的气候都是
- A. 热带雨林气候      B. 热带草原气候      C. 热带沙漠气候      D. 亚热带季风气候
- (2). A、C、E 三地气候形成的主要原因是
- A. 终年受赤道低气压带控制      B. 东南信风迎风坡降水丰富
- C. 受寒流影响降水更少      D. 海陆热力差异
- (3). 下列对 B 地、C 地之间国家的描述，正确的是
- A. 该国是世界人口稠密国家之一      B. 该国已成为世界软件生产大国



C. 该国经济落后, 粮食问题突出

D. 该国东南部的混合农业世界闻名

(4). D 处有一高大山脉, 其形成原因是

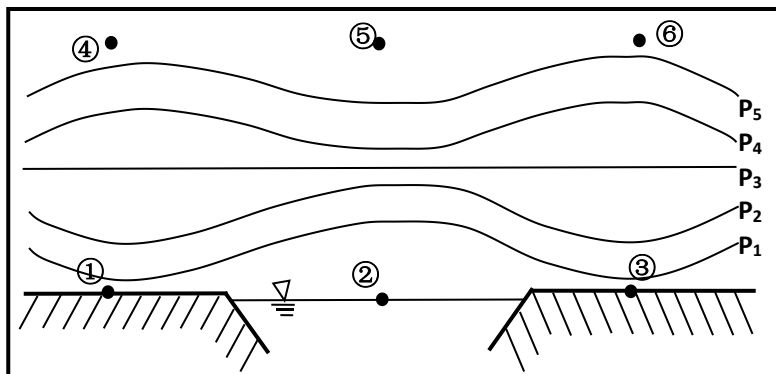
A. 太平洋板块与美洲板块碰撞而形成

B. 南极洲板块与美洲板块碰撞而形成

C. 太平洋板块与亚欧板块碰撞而形成

D. 非洲板块与美洲板块碰撞而形成

47. 读图所示, ①②③所在的纬线为  $35^{\circ}\text{N}$ , 若①所在的大陆为欧亚大陆, ③所在的大陆为北美大陆,  $P_1$ 、 $P_2$ 、 $P_3$ 、 $P_4$ 、 $P_5$  代表等压面, 据此完成下列各题。



(1). 比较图中各点气压的高低:

A. ①②③④ B. ②③⑤⑥ C. ②①④⑤ D. ⑤④③②

(2). 此季节, ①所在的大陆该纬度东海岸的气候特征是:

A. 寒冷干燥 B. 炎热干燥 C. 温和少雨 D. 高温多雨

48. 下图为东南亚某区域示意图。据此完成下列各题。

(1). 岛屿 M 的面积最接近

A.  $3000\text{km}^2$  B.  $6000\text{km}^2$   
C.  $9000\text{km}^2$  D.  $12000\text{km}^2$

(2). 城市 N 居住着近百万华裔, 下列人文景观最不可能在该区域内存在的是

A. 海港 B. 橡胶林  
C. 寺院 D. “封禅”遗址

18. 该区域最常见的气象灾害是

A. 台风 B. 地震 C. 洪水

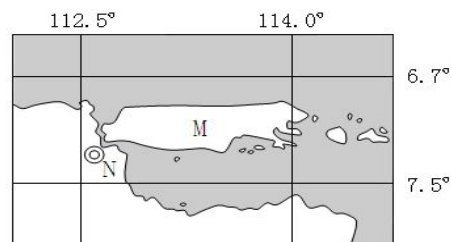


图 7

D. 海啸

49. 下图为非洲主要滑雪场地理分布示意图。据此完成下列各题。

(1). 图示三个滑雪场分布的共同特点有

A. 位于地形崎岖的山地高原区  
B. 位于森林茂密的低山丘陵区  
C. 位于干燥寒冷的草原气候区  
D. 位于终年积雪的高山冰原区

(2). 滑雪场①所在国家的大多数国民以务农维持最基本的生活, 目前拟建非洲最大的滑雪胜地, 这主要得益于

A. 该国交通条件改善 B. 全球气候变化  
C. 该国经济迅速发展 D. 国际市场驱动

(3). 三个滑雪场所在的国家

A 黑色人种为主 B 荒漠化较严重 C 人口增长较快 D 城市化水平高

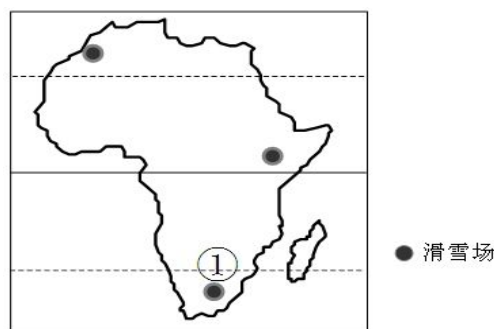


图 1

blog.sina.com.cn/gsw1320922

50. 在后工业化阶段，高新技术产业区主要布局在

- A. 环境质量优越地区  
B. 矿产资源丰富地区  
C. 人口资源充足地区  
D. 劳动力低廉地区

51. 自然区域的典型标志是

- A. 土壤和植被  
B. 气候和地形  
C. 水文和土壤  
D. 植被和水文

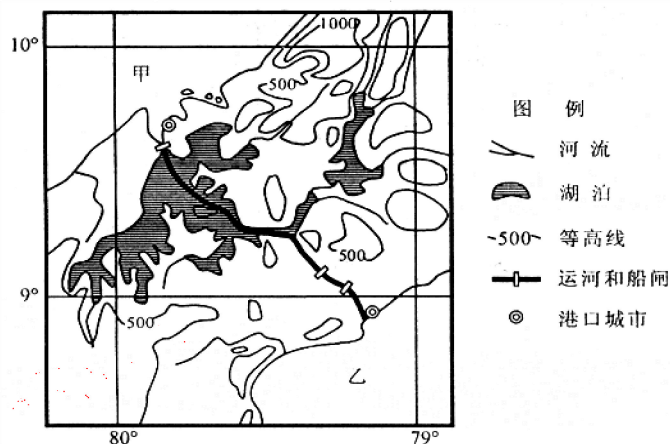
52. 读世界某著名运河图，据此完成下列各题。

(1). 该运河长度约为

- A. 小于 50 千米  
B. 110 千米  
C. 190 千米  
D. 240 千米

(2). 关于该运河叙述正确的是

- A. 是两个大洲和两个国家的分界线  
B. 为欧洲西部通往亚洲东部的最短航线  
C. 沟通了大西洋和太平洋  
D. 穿过海拔 500 米以上的地区



53. 关于日本和新加坡的叙述，不正确的是

- A. 日本和新加坡都利用了本国的有利条件迅速发展经济  
B. 两国都积极发展对外贸易和海上航运  
C. 日本有世界著名的渔场——北海渔场  
D. 旅游业收入是新加坡外汇的重要来源之一

54. 东南亚、南亚国家自然地理环境优越，物产丰富多样，具有经济发展的良好条件。

下列关于东南亚与南亚地理特征共同点的叙述，正确的是

- A. 受热带季风影响，农业生产具有良好水热条件  
B. 大部分地区属高原地形，地势平坦，土壤肥沃  
C. 河流众多，水量丰富，均自北向南注入印度洋  
D. 利用丰富的石油资源，重点发展石油化工工业

55. 读我国温度带分布图，据此完成下列各题。

34. 图中字母 B 代表的温度带是

- A. 北温带  
B. 亚热带  
C. 中温带  
D. 暖温带

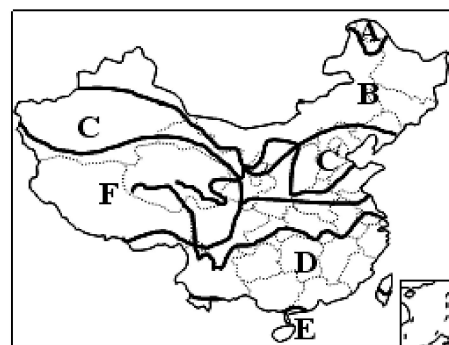
35. 图中 C、D 两温度带的界线是

- A. 长江  
B. 秦岭、淮河  
C. 长城、黄河  
D. 太行山

36. D 温度带中代表性的农作物是

- A. 甜菜  
B. 青稞  
C. 水稻  
D. 橡胶

56. 读右图，据此完成下列各题。



(1). A 地与 B 地降水量不同, 其主要影响因素是

- A. 大气环流                  B. 地形地势  
C. 下垫面性质              D. 海陆位置

(2). 有关图中 I 区和 II 区的正确叙述是(     )

- ① I 区的主要自然植被是温带荒漠草原  
② I 区面临的主要环境问题是土地荒漠化  
③ II 区的主要自然植被是温带落叶阔叶林  
④ II 区突出的环境问题是河流洪涝和污染

- A. ①②③                  B. ②③④                  C. ①②④                  D. ①③④

(3). 关于年等降水量线的正确叙述是(     )

- A. 年等降水量线①的数值为 800 毫米                  B. 年等降水量线②的数值为 800 毫米  
C. 年等降水量线③的数值为 800 毫米  
D. 年等降水量线②与我国 1 月平均气温的 0℃ 等温线大致吻合

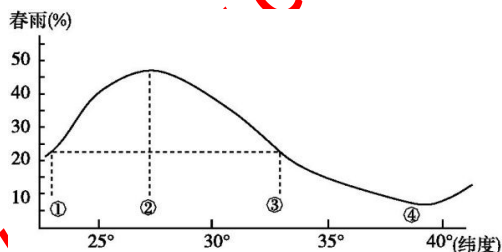
57. 下图表示沿 115°E 经线春雨占全年降水的比重。读图, 据此完成下列各题。

(1). 下列地区春雨比重最大的是(     )

- A. 珠江三角洲                  B. 黄淮海平原  
C. 鄱阳湖平原                  D. 江淮地区

(2). 从图中信息和所学地理知识可以推出

- A. 春季降水量①地区比②地区多  
B. 春季降水量①地区和③地区一样多  
C. 夏雨比重②地区比④地区少  
D. 夏雨比重②地区比①地区多



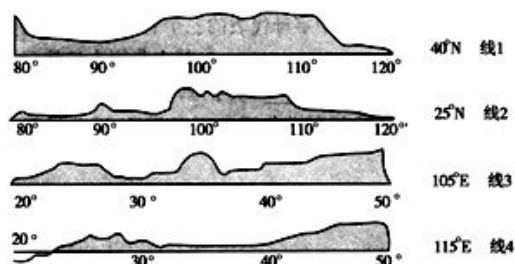
58. 读下列我国沿四条经纬线所绘的地形剖面图, 据此完成下列各题。

(1). 线 1 与线 4 交点所在的地形区名称是

- A. 华北平原                  B. 长江中下游平原  
C. 东北平原                  D. 内蒙古高原

(2). 关于线 2 与线 3 交点处所在的地形区的特征描述正确的是

- A. 山高谷深                  B. 红壤广布  
C. 石漠化比较严重          D. 近看成山, 远看成川



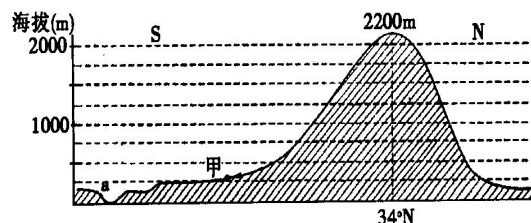
59. 读下面地形剖面图, 据此完成下列各题。

(1). 图中山脉是

- A. 太行山                  B. 秦岭  
C. 天山                      D. 喜马拉雅山

(2). 图中山脚甲地气温为 26℃, 则山顶约为

- A. 9℃                      B. 5℃                      C. 14.3℃                  D. 0℃



60. 我国地域辽阔, 有多种多样的温度带和干湿地区, 气候类型多样, 据此完成下列各题。

(1). 下列地区, 具有“山下有花山上雪”“一山居然四季全”气候特征的是

- A. 阴山地区                  B. 祁连山地区  
C. 雪峰山地区                  D. 横断山区

(2). 我国冬季南北温差很大, 这是由于



- ①太阳辐射的南北差异      ②离海远近的不同  
③大气环流的影响          ④山脉的作用

A、①②③      B、②③④      C、①②④      D、①③④

61.读右我国两大淡水湖示意图, 据此完成下列各题。

(1)、甲、乙两湖的名称分别是

- A、洞庭湖、太湖      B、鄱阳湖、太湖  
C、滇池、青海湖      D、洞庭湖、巢湖

(2)、20 世纪末甲湖湖面比上个世纪缩小近一半, 其后果是

- A、造成上游水土流失      B、导致湖滨土地沙化  
C、对湘江调节能力减弱      D、对长江调节能力减弱



62.根据所学资源知识, 据此完成下列各题。

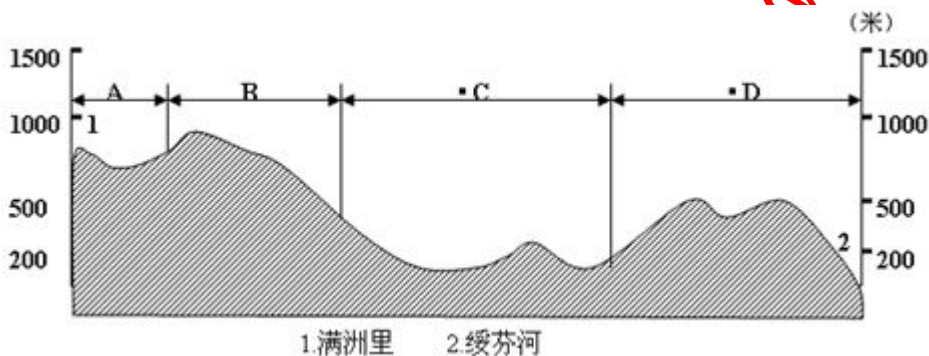
(1).玉门油田和神府煤田所在省区的简称为

- A.豫、鲁      B.晋、粤      C.甘、秦      D.陕、冀

(2).下列地区与该地区产量丰富的矿产资源搭配错误的是

- A.鞍山铁矿      B.白云鄂博稀土矿      C.平果铜矿      D.鸡西的煤矿

63.读地形剖面图,据此完成下列各题。



(1).该地形剖面线的走向为

- A.东北-西南      B.西北-东南      C.东西走向      D.南北走向

(2).C 为我国重要商品粮基地名称为\_\_\_\_\_, 所属温度带为\_\_\_\_\_。

- A.松嫩平原      中温带      B.成都平原      亚热带  
C.三江平原      中温带      D.松嫩平原      暖温带

64.运用所学疆域、行政区划、人口和民族等知识, 据此完成下列各题。

(1). 我国少数民族集中分布的地区是

- A. 东北、东南、西北      B. 东北、西南、东南  
C. 西南、西北、东南      D. 西南、西北、东北

(2). 下列省区中人口密度最大的是

- A. 青海      B. 山东      C. 云南      D. 甘肃

65.读“我国木地板产业重心转移示意图”, 结合所学知识, 据此完成下列各题。



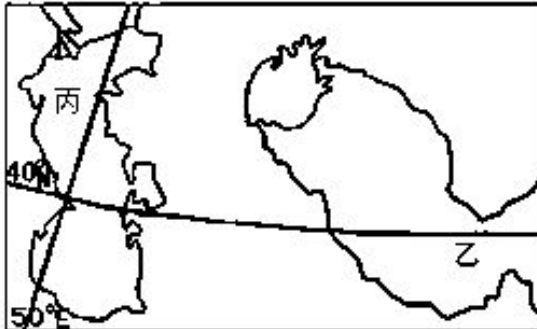
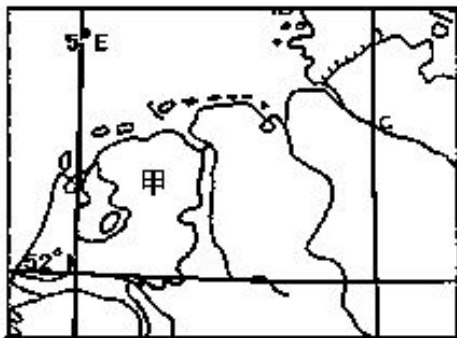
- (1). ②地因某重大自然灾害频发迫使该产业转移，其重大自然灾害不可能是  
A. 滑坡 B. 地震 C. 洪涝 D. 泥石流
- (2). 当前，④地木地板产业向外转移，最有可能转入的地区是  
A. 北非 B. 西亚 C. 北欧 D. 东南亚

- 66.关于日本和英国农业的叙述，正确的是（ ）  
A. 英国气候温和多雨，农业以种植业为主 B. 日本人少地多，农业侧重于精耕细作  
C. 两国均有丰富的渔业资源 D. 英国畜牧业发达，种植业以水稻、小麦为主

- 67.关于日本和英国经济发展相似的叙述，正确的是（ ）  
A. 都是所在大洲经济实力最强的国家  
B. 传统工业的发展都依赖于便利的海运，以“临海型”布局为主  
C. 都是发达的工业化国家，经济都以第三产业为主  
D. 农业都以种植业为主

- 68.以下区域属于均质区的是（ ）  
①我国的北方方言区 ②我国南方的水田农业区 ③沪宁杭工业区  
④华北平原区 ⑤中心商务区  
A. ①②③ B. ①②④ C. ②③④ D. ③④⑤

69. 下图是一组世界区域地图，据此完成下列各题。



- (1).图中甲、乙两地发展种植业生产的主要制约因素分别是( )  
A. 土壤、水源 B. 光热、降水 C. 风向、地势 D. 地形、河流
- (2).乙地由于不合理灌溉而引发的主要环境问题是( )  
A. 水土流失 B. 沙尘暴 C. 土地盐碱化 D. 洪涝灾害
- (3).长期以来，关于丙水域是国际海域还是湖泊的问题，沿岸五国争论不休。该问题的实质是（ ）  
A. 其战略地位问题 B. 其油气资源的归属问题  
C. 该地区油气管线的走向问题 D. 该地区周边地区的生态环境问题

- 70.下表是中国、英国、印度、俄罗斯四个国家的土地利用类型的百分比。据此完成下列各题。

土地类型 \ 国家	甲	乙	丙	丁
耕地	24	15.3	55.9	10.4
林地	19.5	45.6	9.3	13.9



草地	40.2	15.7	10.7	33.8
其他	16.3	31.4	24.1	41.9

- (1).表中甲、乙、丙、丁四个国家分别是( )  
 A. 中国、印度、英国、俄罗斯 B. 俄罗斯、英国、中国、印度  
 C. 英国、俄罗斯、印度、中国 D. 印度、中国、俄罗斯、英国
- (2). 表中甲国农业地域类型主要属于( )  
 A. 季风水田农业 B. 乳畜业 C. 热带种植园农业 D. 牧场畜牧业
- (3). 丁国耕地比重远低于丙国的主要原因是( )  
 ①国土面积小于丙国 ②山区面积广大 ③干旱半干旱面积较广 ④人口密度大于丙国  
 A. ①④ B. ②④ C. ①③ D. ②③

71.读图，据此完成下列各题。

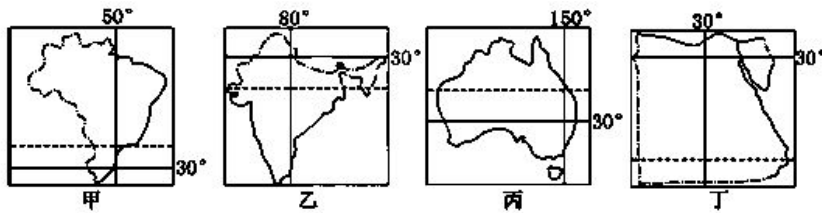


图 K26-6

- (1). 有关图中四个国家自然地理特征的叙述，不正确的是( )  
 A. 甲国地形以山地、高原为主 B. 乙国以热带季风气候为主，旱雨两季分明  
 C. 丙国河流较少，但中部地区地下水丰富  
 D. 丁国有世界最长的河流流经
- (2). 有关四个国家的经济特征的叙述，正确的是( )  
 A. 甲国是世界最大的咖啡和天然橡胶生产国  
 B. 乙国工业集中分布在东南沿海地区  
 C. 丙国是工矿业和农牧业发达的国家  
 D. 丁国最主要的经济支柱是长绒棉的生产和出口

72.读图 11，据此完成下列各题。

- (1). 图中①处是一个大型能源基地，它是 ( )  
 A.油田 B.煤矿 C.水电站 D.核电站
- (2). 关于图示国家的叙述正确的是 ( )  
 A. 咖啡、橡胶等产量居世界首位  
 B. 人口和城市主要分布在东部沿海  
 C. 典型的热带雨林气候，不受地形影响  
 D. 农牧业产值比重已大大超过工业

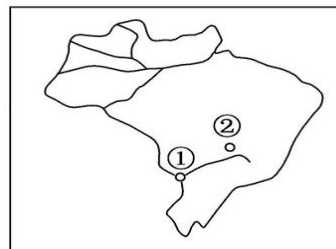
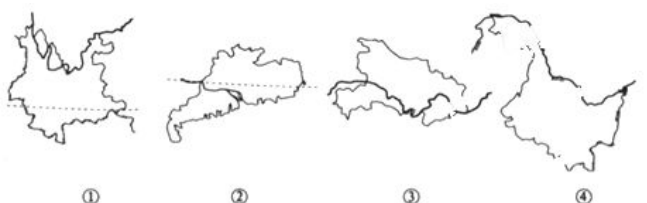


图 11

73.黄河上游与长江上游共同的特点是

- A.水力资源丰富 B.含沙量大 C.有冰期 D.流量小，灾害最多

74.读图，据此完成下列各题。



- (1). 图中四省区中，临海的是





A. ① B. ② C. ③ D. ④

(2). 图中四省区中, 纬度最高、位置最偏东的是

A. ① B. ② C. ③ D. ④

75. 在夏季风强的年份, 我国容易出现

A. 南涝北旱 B. 北涝南旱 C. 西涝东旱 D. 东涝西旱

76. 我国北方各地区共同具有的自然特征是

A. 河流都有较大的含沙量 B. 1 月平均气温在  $0^{\circ}\text{C}$  以下  
C. 都位于地势第三阶梯上 D. 植被类型都是亚热带常绿阔叶林

77. 青藏地区的耕地主要集中在河谷地之中, 其主要原因是

A. 谷地空气中的氧气含量较高 B. 谷地中的气温较高  
C. 谷地中人口较多 D. 谷地中的河流有丰富的河流

78. 关于南方地区的叙述正确的是

A. 上海是位于长江入海口的黄海之滨  
B. 植被类型为亚热带常绿阔叶林  
C. 南方地区种植最广泛的粮食作物是花生  
D. 江南丘陵红壤分布广泛, 红壤酸性, 肥力差, 改良的方法是增施有机肥, 补充熟石灰

79. 我国最大的稀土矿产地是

A. 金昌 B. 和田 C. 白云鄂博 D. 克拉玛依

80. 下列著名风景名胜区属于喀斯特地形的是

A. 峨眉天下秀 B. 桂林“碧莲玉笋世界”  
C. 白头山天池湖水碧兰、白色群峰倒映风光 D. 挺拔险峻、登之可“一览众山小”的泰山

81. 表是 2001 年我国 a、b 两个省区农作物的播种面积 (万公顷), a、b 两省分别是

A. 内蒙古、江苏 B. 广西、黑龙江  
C. 湖北、甘肃 D. 河南、新疆

省区	稻谷	小麦	甘蔗	甜菜
a	242.4	1.5	57.5	
b	156.7	42.3		18.2

82. 位于新疆中部的山地是

A. 阿尔泰山 B. 昆仑山 C. 天山 D. 祁连山

83. 下列关于我国东北地区地形的正确叙述是

A. 主要山脉有大兴安岭、阴山、秦岭等 B. 属我国地势的第三阶梯  
C. 耕地少, 且后备资源严重不足 D. 有世界面积最大的黄土高原

84. 世界上绝大多数动植物都能在我国找到适合生长的地方, 主要因为

A. 季风气候显著 B. 气候复杂多样 C. 夏季普遍高温 D. 雨热同期

85. 我国北方大油田自北向南的正确排序是:

A. 大庆、华北、辽河、胜利 B. 大庆、辽河、华北、胜利  
C. 大庆、华北、胜利、辽河 D. 大庆、胜利、辽河、华北



86.四川盆地与准噶尔盆地相比较，其相同点是

- A. 都位于地势的第二级阶梯上      B. 都有绿洲农业  
C. 都属外流区域      D. 都分布有丰富的煤、铁、石油等

87.下列四大高原中，崩塌、滑坡、泥石流等地质灾害发生较频繁的是

- A. 云贵高原      B. 青藏高原      C. 黄土高原      D. 内蒙古高原

88.我国季风区与非季风区的地理界线是下列中的


- A. 大兴安岭—太行山—巫山—雪峰山      B. 昆仑山—祁连山—横断山  
C. 大兴安岭—阴山—贺兰山—巴颜喀拉山—冈底斯山  
D. 青藏高原的东南边缘—秦岭—淮河

89.北回归线自东向西依次穿过的省区是

- A. 台、闽、粤、湘      B. 台、粤、赣、滇  
C. 台、粤、桂、滇      D. 台、闽、粤、琼

## 第二题、综合题

90.读下图回答

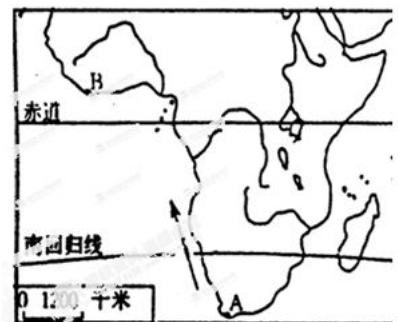


(1) 从 A 地出发沿西海岸航行到 B 地，依次经过的气候类型是\_\_\_\_\_气候、\_\_\_\_\_气候、\_\_\_\_\_气候、\_\_\_\_\_气候。

(2) 在该图中沿赤道作剖面图如下，填出图中字母所代表的地理事物名称：

B\_\_\_\_\_盆地、C\_\_\_\_\_大裂谷、E\_\_\_\_\_高原、F\_\_\_\_\_洋

(3) E 地形区的气候类型是\_\_\_\_\_；E 地没有形成 B 地同一类型气候，是因为\_\_\_\_\_。



91.读亚洲地形图，完成下列各题。（14分）

（1）试简述亚洲的主要地势特征。（2分）

（2）判断图中C、D两地的气候类型、特点以及原因。（12分）



形成

92.读某区域示意图，回答以下问题。（10分）

（1）图中与我国相邻的内陆国是\_\_\_\_\_

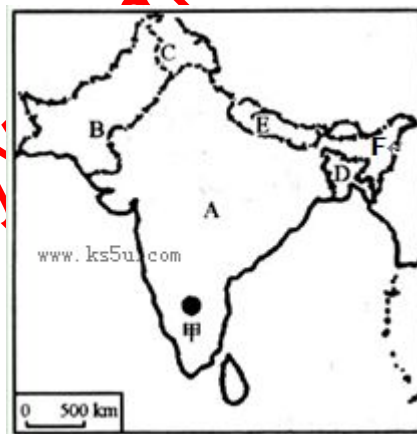
- A. A国      B. C国  
C. D国      D. E国

（2）A国主要的三种矿产资源为\_\_\_\_\_、\_\_\_\_\_、\_\_\_\_\_，该国的新工业区在图中的位置为\_\_\_\_\_。

（3）印度半岛东西两侧沿海地区的主要农业地域类型是\_\_\_\_\_。

（4）加尔各答位于\_\_\_\_\_（河流）三角洲，盛产（热带经济作物）。

（5）图中F是世界上降水量最丰富的地方（填地名），该地降水丰富的原因是\_\_\_\_\_。



93.读图，回答下列问题。（10分）

（1）图示国家由北海道、本州、\_\_\_\_\_、\_\_\_\_\_四个岛屿及附近3900多岛屿组成。

（2）工业集中分布在\_\_\_\_\_洋沿岸和\_\_\_\_\_海沿岸。

（3）该国有世界四大渔场之一的\_\_\_\_\_渔场，成因\_\_\_\_\_。

（4）该国首都东京的气候与上海相比，不同之处在于它的

（5）冬季日本海沿岸降雪\_\_\_\_\_（多或少），原因\_\_\_\_\_。

（6）该国多火山、地震的原因是\_\_\_\_\_。



是  
强。  
是

94.读东北地区图，完成下列各题。（12分）

(1) 东北地区大部分地处我国地势的\_\_\_\_\_级阶梯，主要地形类型有\_\_\_\_\_、\_\_\_\_\_。（3分）

(2) 图中字母代表的东北平原三个组成部分是：（3分）

A\_\_\_\_\_、B\_\_\_\_\_、C\_\_\_\_\_。

图中数字代表的山脉名称是：

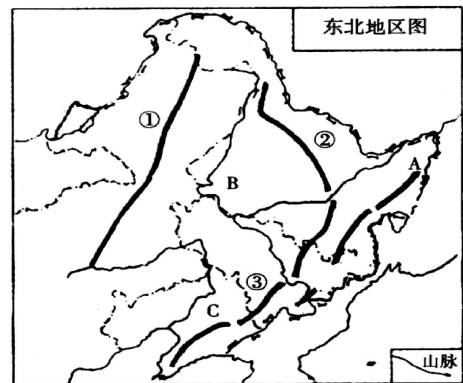
①\_\_\_\_\_，②\_\_\_\_\_，③\_\_\_\_\_。

(3) B地区面临的主要生态问题是\_\_\_\_\_；造成该生态问题的

人为原因为\_\_\_\_\_。（2分）

(4) 东北地区地面结构的基本特征是\_\_\_\_\_。（1分）

(5) 2000年，黑龙江省政府做出决定；停止对北大荒沼泽地的开垦。停止开垦后，耕地面积不再增加，发展农业的出路何在？（3分）



95.读“澳大利亚气候类型分布示意图”，回答问题。（14分）

(1)指出澳大利亚大陆沿120°E经线自北向南的气候类型。（3分）

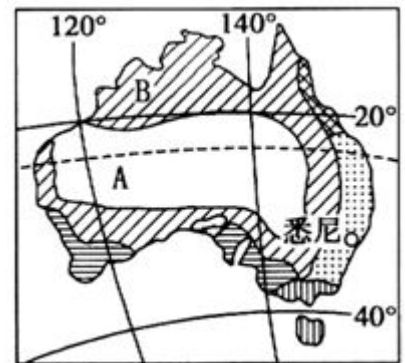
(2)分析澳大利亚中部A气候的成因。（3分）

(3)分别说明澳大利亚西北部B气候一月和七月的盛行风向及对该地区气候干湿状况的影响。（4分）

一月：

七月：

(4)悉尼的季风气候特征不如上海典型，说明悉尼季风气候特征不典型的表现并分析原因。（4分）

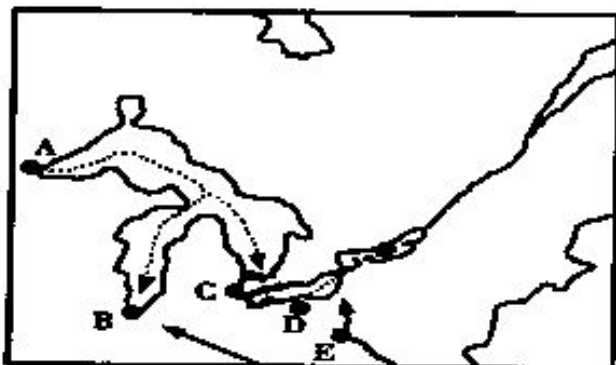


96.某区域内湿地呈斑块状分布。表中的数据反映该区域湿地的变化。

年份	湿地斑块数目(块)	湿地总面积(hm <sup>2</sup> )	湿地比率(%)
1976	2 251	88 893	42.99
1986	3 721	39 639	19.17
2005	1 973	19 230	9.30

阅读资料，分析该区域不同时段湿地变化的特点，说明湿地变化对环境的不利影响。

97.读“五大湖地区图”，回答下列问题：（14分）



- (1) 图中 A 是 \_\_\_\_\_ 市，是最重要的 \_\_\_\_\_ (矿产) 产区。(2 分)
- (2) 图中 B 是 \_\_\_\_\_ 市，C 是 \_\_\_\_\_ 市，E 是 \_\_\_\_\_ 市，其中有“汽车城”之称的是 \_\_\_\_\_，享有“钢都”之称的是 \_\_\_\_\_ (填字母，5 分)。
- (3) 图中虚线箭头表示 \_\_\_\_\_ (矿产) 的运输方向，实线箭头表示 \_\_\_\_\_ (矿产) 的运输方向。(2 分)
- (4) 图中各城市共有的工业部门是 \_\_\_\_\_ 工业，该种工业布局的方式属 \_\_\_\_\_ 型，(2 分) 发展该种工业有哪些有利条件？(4 分)

北京博飞 www.pkuzyw.com