

备考港澳台联考 地理绝密资料

港澳台联招必考试题-----区域地理 6-10

编写：北京博飞华侨港澳台学校

1. 以下各组省区中，按纬度由低到高依次排列的是 ()
A. 湘、鄂、辽、宁 B. 川、贵、陕、内蒙古 C. 琼、浙、苏、沪 D. 赣、皖、鲁、冀
2. 下列区域不属于湿地的是 ()
A. 东海 B. 海南岛红树林 C. 稻田 D. 洞庭湖
3. 田纳西河流开发的核心环节是 ()
A. 发电 B. 美化环境 C. 梯级开发 D. 防洪
4. 湿地被称为“地球的肾”，最主要的是因为湿地具有什么功能： ()
A. 调节气候 B. 美化环境 C. 净化水中的污染物 D. 保护生物多样性
5. 世界上最大的农产品出口国是 ()
A. 阿根廷 B. 澳大利亚 C. 法国 D. 美国
6. 造成洞庭湖萎缩的主要原因是 ()
①泥沙淤积 ②蒸发加剧 ③围湖造田 ④降水减少
A. ①② B. ②④ C. ①③ D. ③④
7. 有关美国的自然条件的叙述，正确的是 ()
A. 平原面积广阔，约占本土的一半 B. 本土大部分属于热带
C. 地形分为三大纵列带，中部为高原 D. 本土气候主要是温带荒漠气候
8. 防治害虫是提高农业产出的手段，在现代农业生产中，最能体现杜绝化肥、农药的滥施，又能保证食品达到卫生标准的是 ()
A. 处方农业 B. 有机农业 C. 节水农业 D. 精确农业
9. 下列地理事物的空间分布均表现为岛状的是 ()
A. 农业和工业 B. 城市和工业 C. 城市群和工业群 D. 铁路线和公路线
10. 亚洲某地，位于 45°E 、 20°N ，该地所在国家有着独特的自然与人文景观。据此回答 1~3 题。

1. 该地所属的气候类型是

- A. 热带季风气候 B. 热带稀疏草原气候 C. 热带沙漠气候 D. 热带雨林气候

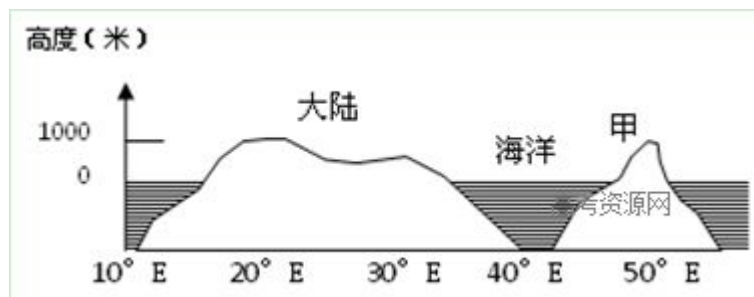
2. 该地在世界文化圈中属于

- A. 伊斯兰文化圈 B. 南亚文化圈 C. 东南亚文化圈 D. 非洲文化圈

3. 该地所属国家在国际贸易中出口的主要产品是

- A. 茶叶 B. 锡矿 C. 石油 D. 咖啡

11.1, 该图属于



- A. 北美洲沿 35° N 所作 B. 澳大利亚沿 23.5° S 所作
C. 非洲沿 23.5° S 所作 D. 亚洲沿 30° N 所作

2. 甲地的位置属于

- A. 亚欧板块 B. 非洲板块 C. 印度洋板块 D. 美洲板块

12.

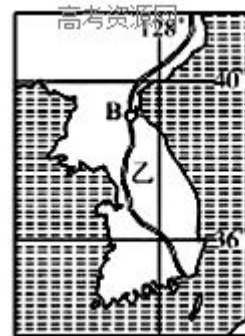
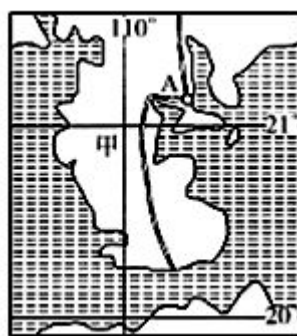
读“两个半岛示意图”，完成 3 题。

1. 图中甲岛 A 点位于乙岛 B 点的什么方向

- A 东北方 B 西北方 C 东南方
D 西南方

2. 下列有关甲、乙两半岛气候的叙述, 正确的是

- A 都属于温带季风气候
B 甲岛为亚热带季风气候
C 乙岛北部是温带季风气候, 南部为亚热带季风气候
D 乙岛北部是温带大陆性气候, 南部为地中海气候



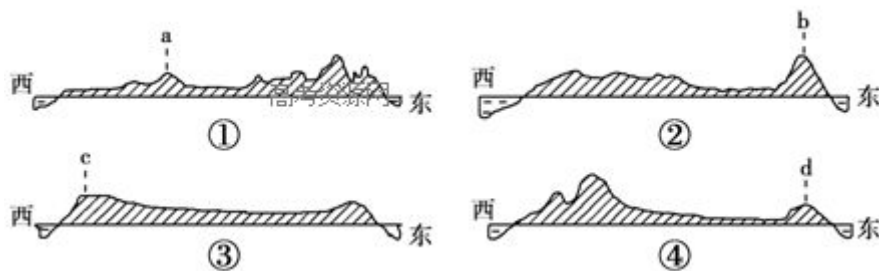
3. 如果某海轮从港口 A 走最近便的航海线到港口 B, 应依次经过哪些著名海峡

- ①琼州海峡 ②台湾海峡 ③朝鲜海峡 ④马六甲海峡

- A ①② B ②③ C ③④ D ①④

13. 读下列四国地形剖面示意图, 图示四个国家中, 有三个面积居于世界前六位, 另一个是人

口超过 1 亿的亚洲国家。据此完成 2 题。



1. 图中国家依次是

- A. ①日本 ②澳大利亚 ③美国 ④巴西
- B. ①俄罗斯 ②加拿大 ③澳大利亚 ④日本
- C. ①俄罗斯 ②澳大利亚 ③印度 ④美国
- D. ①孟加拉国 ②巴西 ③印度 ④美国

2. 关于图中 a、b、c、d 四条山脉的叙述，正确的是

- A. a 山脉位于两大洲的分界线上
- B. b 山脉是世界著名的石油产地
- C. c 山脉西岸为温带海洋性气候
- D. d 山脉位于两大板块交界处

14. “产业空洞化”问题是现在经济学界讨论较多的问题。一些国家随着产业结构、生产活动不断向全球范围扩张，负担生产任务的工厂大量外迁，这必然引起国家原有的生产体系出现一定程度的空洞，出现产业空洞的国家把更多的力量投向高科技产业。据此回答 2 题。

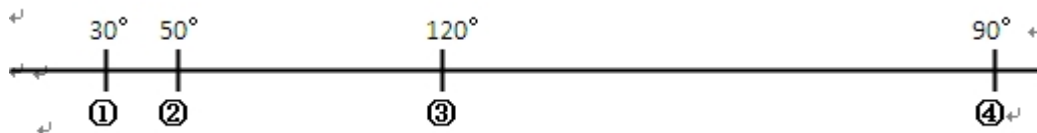
1. 下列国家中出现“产业空洞化”的可能是

- A. 新加坡 B. 日本 C. 巴西 D. 印度

2. 关于出现“产业空洞化”的国家的说法正确的是

- A. 失业率可能上升
- B. 城市化水平显著提高
- C. 生态环境将进一步恶化
- D. 社会经济发展水平大幅度提高

15. 下图中四地是沿 30° 纬线的 4 条河流的入海口附近，读图后回答下面 3 题



1. 四条河流中，流程最长的是

- A. ① B. ② C. ③ D. ④

2. 河口附近地区气候相似的配对，正确的是

- A. ④与③ B. ②与④ C. ③与① D. ②与③

3. 关于四条河流河口处的叙述正确的是

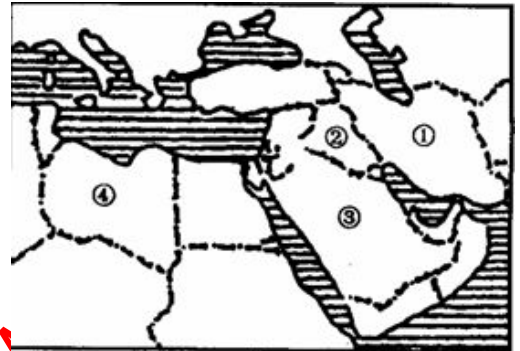
- A. ①河河口处因寒暖流交汇形成大渔场
B. ②河河口盛产棉花
C. ③河河口处冬季结冰
D. ④河河口附近石油资源丰富

17.

中东地区为当今世界极为关注的地区。读图完成下题。

关于图示区域的正确叙述是

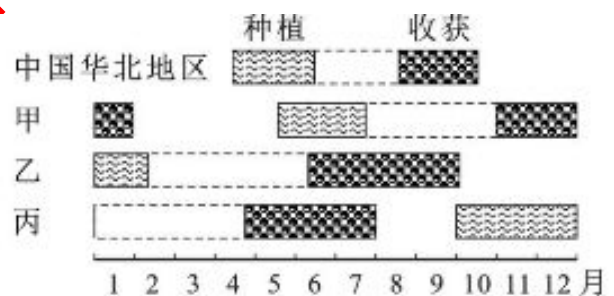
- a) ①国为伊朗，地形以平原为主
b) B②国的椰枣和磷矿丰富
C, 不属于阿拉伯国家的是②③④国
D, 有世界上面积最大的沙漠



18.玉米是世界重要的农产品之一，下图示意中国、印度、南非和巴西四国的部分地区玉米种植、收获生产活动的时段。读图，回答下题。

甲、乙、丙分别位于

- A. 巴西、印度、南非
B. 南非、巴西、印度
C. 印度、巴西、南非
D. 巴西、南非、印度



19.下列城市是中南半岛上的国家首都又位于大河三角洲的有

- A. 首尔 B. 曼谷 C. 新德里 D. 雅加达

20.有关中南半岛的叙述，正确的是

- A. 山河南北纵列分布，自西向东有伊洛瓦底江、湄南河、湄公河和萨尔温江
B. 河流自北向南流，流入太平洋
C. 地处低纬，属于热带雨林气候
D. 湄公河平原是农业比较发达的重要农业区

21.亚洲某地(约 27° N, 86° E)蓝天与白云交织，雪山与湖泊辉映……据此回答下面 2 题。

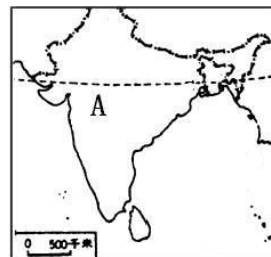
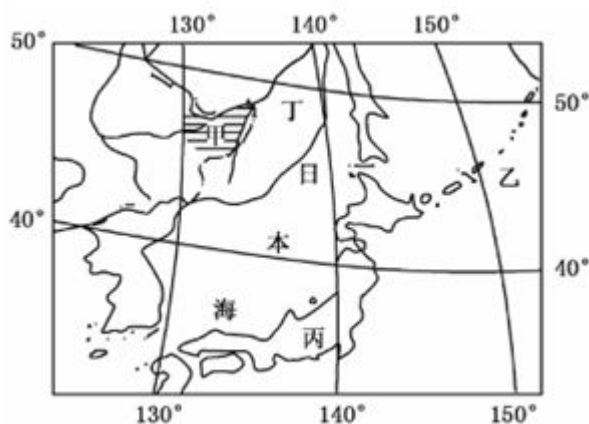
1. 该地的相对地理位置位于 ()

- A. 喜马拉雅山脉南侧 B. 德干高原北部 C. 阿拉伯海沿岸 D. 地中海沿岸

2. 该地属于亚洲地理分区中的 ()

- A. 中亚 B. 南亚 C. 西亚 D. 东南亚

22. 读下图, 完成下面 3 题。



1. 甲阴影区域最主要的粮食作物是

- A. 春小麦 B. 水稻 C. 冬小麦 D. 甜菜

2. 下列关于乙海域的叙述, 正确的是

- A. 附近渔场是由上升补偿流而形成 B. 附近有世界很著名的北海渔场
C. 该海域海水表面等温线向南凸出 D. 附近群岛的成因类型是珊瑚岛

3. 丙、丁两国经济发展具有的相似区位条件是

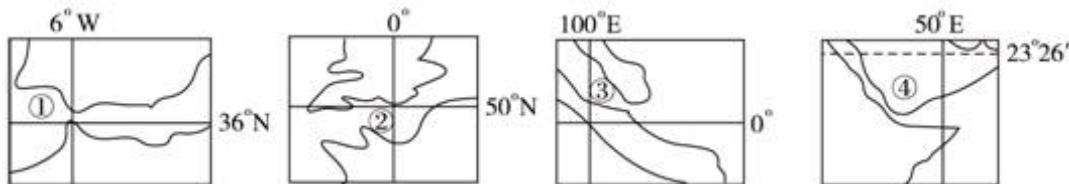
- A. 矿产资源丰富 B. 水能资源丰富 C. 内河航运发达 D. 海洋运输为主

23. 世界上的温带草原主要分布在

- ①大洋洲 ②亚欧大陆 ③北美洲 ④非洲

- A. ①② B. ②③ C. ③④ D. ①④

24. 下列关于图中四个海峡的说法, 正确的是



- A. 属于大洲分界线的是①和② B. 沟通两大洋的是③
C. 两岸属于发展中国家的是②和④ D. 处于板块消亡边界的是①和④

25. 北美洲的水汽主要来自于:

- A 太平洋 B 大西洋 C 印度洋 D 北冰洋

26. 读右图, 回答 1-2 两题:

1. 下列关于 A 国的叙述不正确的是:

- A 该国冬季盛行东北风
B 该国中西部的德干高原是茶叶的主要种植区
C 该国的人口增长模式为过渡型
D 该国的高新技术产业主要分布在南部地区

2. 我国哪个省的气候与 A 国的主导气候一致:

- A 海南省 B 山东省 C 浙江省 D 青海省

27. 读右图完成下列 1-3 题:

1. AB 所在地地形类型是

- A. 山地 B. 高原 C. 平原 D. 盆地

2. 有关图中两条河流部分的说法正确的是

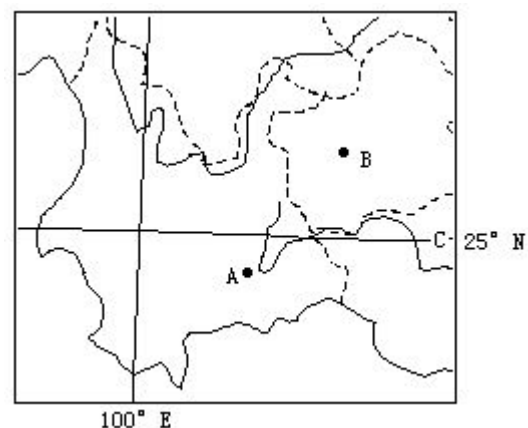
- A. 都处在热带地区 B. 都有广阔的冲积平原
C. 都有丰富的水力资源 D. 夏季只受东南季风的影响

3. 若某一冷锋受地形阻挡, 停滞在 AB 两地之间, 则

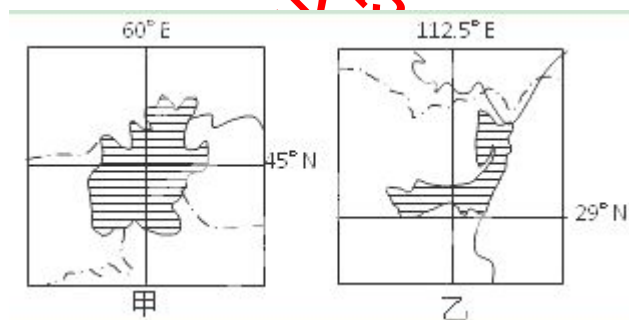
- A. A 处阴雨绵绵 B. B 处多晴朗天气
C. A 处海拔高于 B 处 D. B 处处在丰水期

28. 珠江三角洲的农业生产由传统的“桑基鱼塘”转向“花基鱼塘”、“菜基鱼塘”, 这种变化主要是因为 ()

- A. 农业技术的改进 B. 劳动力的转移
C. 市场需求的变化 D. 自然条件的改变



29. 读下面甲、乙两图, 回答下列各题。



1. 湿地的功能主要是: ()

2. ①提供水资源 ②调节气候 ③防风固沙 ④调蓄洪水 ⑤美化环境 ⑥保护生物多样性
A. ①②③④ B. ②③④⑤⑥ C. ①②④⑤⑥ D. ①③④⑤⑥

2. 关于造成两湖泊面积都在缩小的主要原因, 下列说法正确的是: ()

- A. 跨流域调水造成甲湖面积缩小 B. 周围大面积引水灌溉造成乙湖面积缩小

C.沙漠侵吞造成甲湖面积缩小 D.围湖造田造成乙湖面积缩小

30.由美国次贷危机引发的 2008 年全球金融危机席卷全球，珠三角工业区由此受到的冲击较长三角工业区更大，主要原因为其()

- A. 以外向型为主的工业结构 B. 位于我国改革开放的前沿
C. 邻近港澳台地区的特殊位置 D. 以重工业为主的工业结构

31.2010 年，我国部分农产品价格暴涨，被网友戏称为“蒜你狠”“豆你玩”等。此现象对 2010 年农业生产的直接影响是：

- A. 大蒜、绿豆等农作物的种植面积扩大 B. 促进农业种植技术的快速提升
C. 快速提高农业机械化水平 D. 促进产业结构合理调整

32.中国最大的淡水湖——鄱阳湖有多条河流从东、南、西三面注入，北部有水道通往长江，湖泊水面呈现“冬季一条线，夏季一大片”的景象变化。鄱阳湖是候鸟迁徙途中的重要栖息地。据此完成 1~3 题。

1. 鄱阳湖在冬季成为迁徙鸟群重要栖息地的原因是 ()

- A. 湖滩面积大，水浅 B. 湖底砂砾石广布，水质好
C. 湖区少有大雾，能见度好 D. 湖泊受人类活动影响小

2. 鄱阳湖冬、夏水面景象变化的原因是 ()

- A. 湖底有线状洼地，冬季河道封冻，夏季来水量大
B. 湖底平坦，入湖水量夏季大于冬季
C. 湖底有线状洼地，水位季节差异明显
D. 湖底平坦，长江顶托作用季节变化明显

3. 过去 50 年来，鄱阳湖湿地大面积减少的最主要原因是 ()

- A. 水土流失加速湖泊淤积 B. 围湖造田
C. 气候变干造成湖泊水位降低 D. 湖区地壳明显抬升

33.关于俄罗斯河流的叙述，正确的是 ()

- A. 乌拉尔河注入咸海 B. 伏尔加河为内陆河，注入里海
C. 鄂毕河没有凌汛现象 D. 叶尼塞全年航运便利

34.关于俄罗斯地形的叙述，正确的是 ()

- A. 从勒拿河向东是中西伯利亚高原
B. 平原主要有中欧平原、东欧平原、西西伯利亚平原
C. 乌拉尔山介于东欧平原和西西伯利亚平原之间



D. 以叶尼塞河为界，西部主要是高原和山地，东部是平原

35. 欧洲南部三大半岛自西向东分别是 ()

- A. 伊比利亚半岛、巴尔干半岛、亚平宁半岛 B. 伊比利亚半岛、亚平宁半岛、巴尔干半岛
C. 巴尔干半岛、亚平宁半岛、伊比利亚半岛 D. 亚平宁半岛、巴尔干半岛、伊比利亚半岛

36. 被称为德国“黄金水道”的河流是 ()

- A. 莱茵河 B. 易北河 C. 多瑙河 D. 威悉河

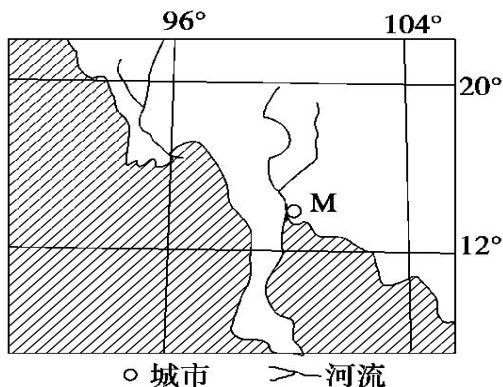
37. 有关德国的说法不正确的是 ()

- A. 地势南高北低， B. 鲁尔区重工业发达 C. 煤炭资源丰富 D. 欧洲人口最多的国家

38. 欧洲西部人口密度最大的地区是 ()

- A. 中欧和北欧 B. 西欧和中欧 C. 西欧和南欧 D. 南欧和北欧

39. 下列说法正确的是 ()



- A. 该区域物产丰富，盛产铜矿、小麦 B. 该区域物产丰富，盛产大豆、锡矿
C. 该区域物产丰富，盛产煤矿、天然橡胶 D. 该区域物产丰富，盛产水稻、锡矿

40. 泰国大米连续 6 年稳居世界销量第一，由此赢得“世界米仓”的桂冠。泰国水稻种植的优越区位条件是 ()

- ①平原面积广，土壤肥沃 ②日照充足，昼夜温差大 ③热带季风气候，雨热同期
④农业机械化水平高 ⑤市场需求大，交通运输方便 ⑥农业劳动力充足

- A. ①③④ B. ①③⑥ C. ②④⑤ D. ②⑤⑥

41. 关于东南亚的叙述，正确的是 ()

- A. 印度尼西亚是东南亚各国中华人所占比最大的国家
B. 东南亚居民信仰佛教的很多，马来西亚把佛教定为国教



- C. 东南亚是世界上热带经济作物的重要产地，马来西亚是东南亚椰子出口最多国家
D. 中南半岛和菲律宾群岛北部的热带季风气候地区，农作物多在雨季播种，在旱季收获

42. 下列四组物产中，全球最大产地在东南亚的是（ ）

- A. 天然橡胶、椰子 B. 稻米、香蕉 C. 石油、锡矿石 D. 铁矿石、煤炭

43. 下列对亚洲主要河流的叙述，错误的是（ ）

- A. 亚洲第一长河——长江发源于青藏高原，向东注入太平洋
B. 湄公河、恒河、印度河都是自北向南注入印度洋
C. 叶尼塞河、鄂毕河都是向北注入北冰洋
D. 黄河、黑龙江最后都是注入太平洋

44. 从分布来看，亚洲的高原、山地主要分布在亚洲的（ ）

- A. 东部 B. 南部 C. 西部 D. 中部

45. 读某半岛地形图（图8），完成1~3题

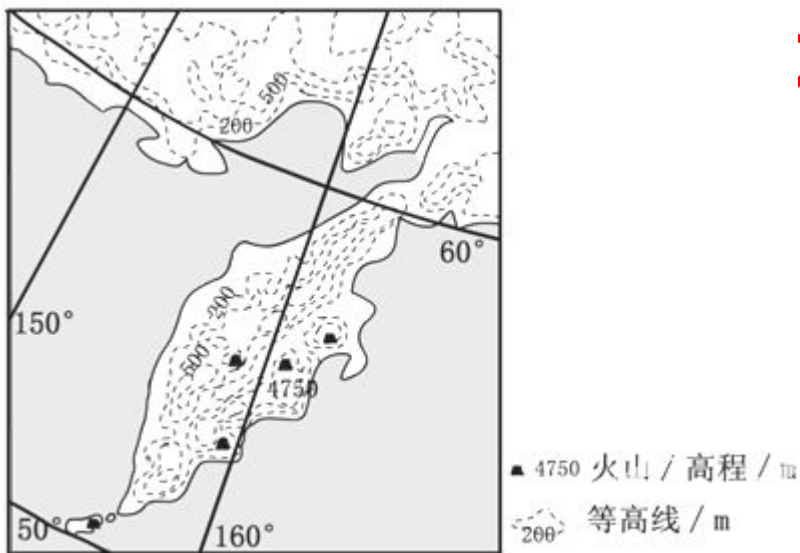


图 8

1. 半岛火山活动频繁的原因是

- A. 太平洋板块张裂的影响 B. 印度洋板块张裂的影响
C. 印度洋板块挤压的影响 D. 太平洋板块挤压的影响

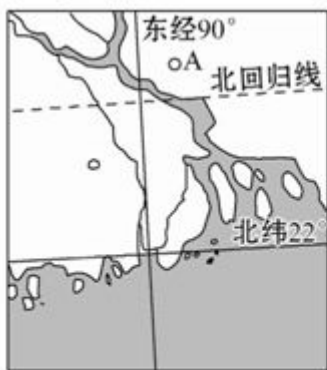
2. 该地可以用哪种能源来发电

- A. 地热能 B. 风能 C. 水能 D. 太阳能

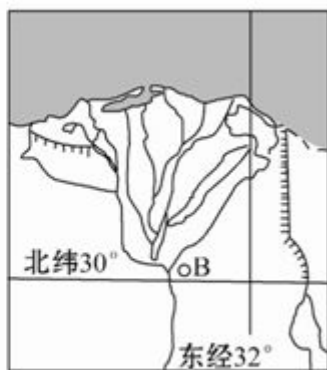
3. 7月份该半岛可能出现

- A. 冰川与岩浆相映 B. 极昼 C. 成群的企鹅 D. 角马向南迁徙

46. 读两个三角洲图，回答1-2题。



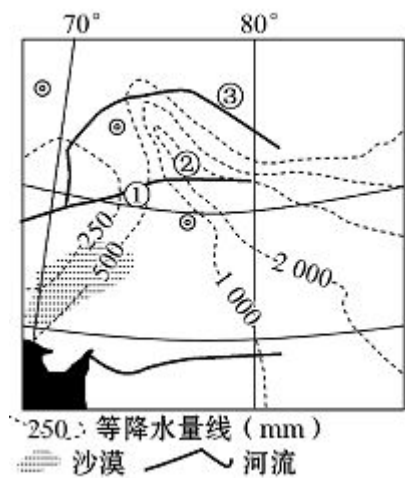
甲



乙

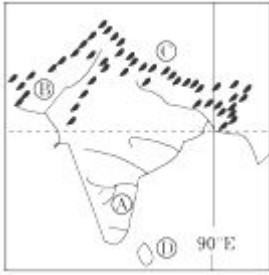
- 关于两个三角洲自然地理状况的叙述，正确的是
 - A 地在 B 地的西北方向
 - AB 两地夏季均受西南风的影响
 - 两地区的主要河水量丰富
 - B 三角洲土壤盐碱化现象严重
- 关于两个三角洲目前面临的主要气象灾害的叙述，正确的是
 - 甲地区易受风暴潮侵袭
 - 乙地区常受台风影响
 - 甲地区经常发生海啸
 - 乙地区土壤盐渍化严重

47.读世界局部地区图，回答 1-2 题。



- 据图中信息判断该地区山脉的走向
 - 南北走向
 - 东北—西南走向
 - 西北—东南走向
 - 东西走向
- 与图中①③两地比较，有关②地自然环境的叙述，正确的是
 - 光照最弱
 - 气温最低
 - 气压最低
 - 河流流量大

48.读下图，完成 1-2 题。



1. B 处的主要宗教是()
A. 印度教 B. 佛教 C. 伊斯兰教 D. 基督教
 2. 2011 年 2 月中国驶往欧洲的货轮经过 D 岛屿时, 可能发生的现象是()
A. 顺风顺水 B. 飓风活动频繁 C. 正值雨季 D. 新茶上市
- 49.

读巴西的人口分布图, 回答 1~2 题。



1. 巴西热带森林得以保存的原因主要是()
A. 人口稀少, 开发较晚 B. 高温多雨, 森林恢复更新速度快
C. 当地早期的环保政策 D. 当地土著居民合理的农业生产
 2. 亚马孙热带雨林被毁的根本原因是 ()
A. 亚马孙横贯公路的修建 B. 森林大火
C. 人口剧增和贫困 D. 商业性木材采伐
50. “绿色腰带”是指:
A、热带雨林 B、亚寒带针叶林 C、亚热带常绿林 D、绿色植物
51. 在草原区, 利用现代技术掘井扩大水源, 下列叙述正确的是 ()
A. 掘井愈多, 愈有利于草地生态保护
B. 水井周围的草地, 获得最充足的水源而长势最茂盛
C. 机井数量不断增多, 经济效益也就不断增长

D. 牲畜不断增多，水井无限制增加，草地最终将毁灭

52. 长江三角洲地区的农作物一年两熟至三熟，而松嫩平原仅一年一熟，产生这种差异的主要因素是：（ ）

A. 气候 B. 水分 C. 地形 D. 土壤

53. 下列关于南北方传统民居差异的说法，正确的是（ ）

A. 南方民居墙体厚 B. 南方民居屋顶坡度大
C. 南方民居屋檐窄 D. 南方民居正南正北的方位观强

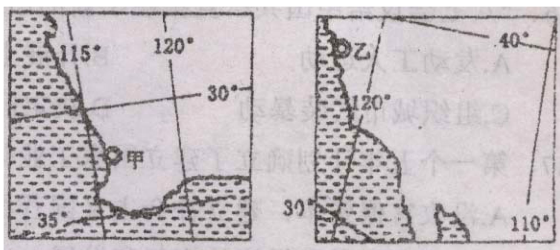
54. 大兴安岭雪花飘飘，海南岛上鲜花还在盛开，两地景观不同的主要原因是（ ）

A. 两地海拔高度不同 B. 两地纬度不同 C. 两地距海远近不同 D. 地形不同

55. “三北”防护林体系的主要功能是（ ）。

A. 调节气候，美化环境 B. 防风固沙，保护农田
C. 净化空气，吸烟滞尘 D. 为野生动物提供栖息地

56. 读下图，完成 1-3 题。



1. 乙城位于甲城的

A. 东南方向 B. 西南方向 C. 东北方向 D. 西北方向

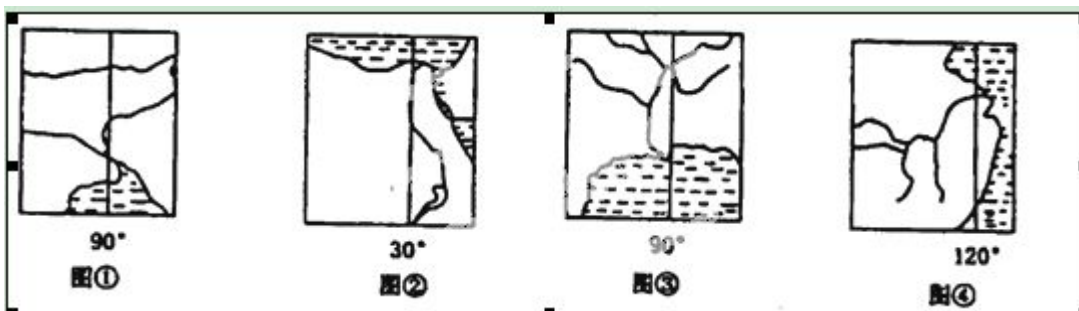
2. 如果甲城游客在当地时间 5 时欣赏到日出景观，则此刻乙城最有可能

A. 阴雨霏霏午已过 B. 万家灯火阑珊处 C. 赤日炎炎似火烧 D. 朝阳蔚海霞满天

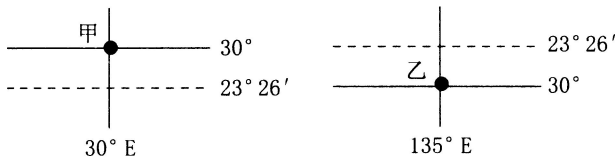
3. 有关甲、乙两城叙述正确的是

A. 甲、乙两城高温同期、降水不同期 B. 甲、乙两城雨季都在冬季
C. 甲、乙两城沿海都有暖流经过 D. 两地附近都是所在国主要小麦产区

57. 读下图“世界四条著名河流入海口示意图”，并判断 1-2 题。

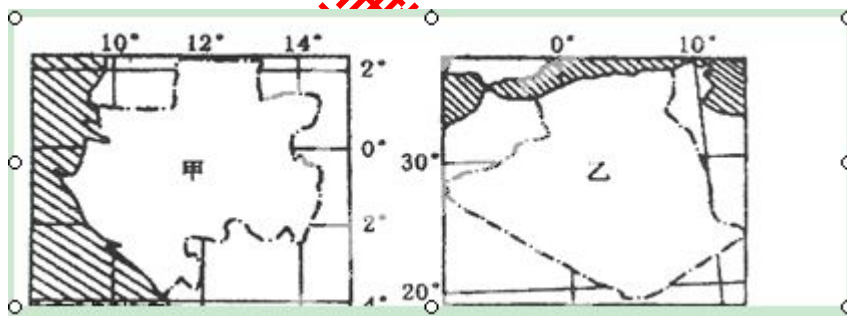


1. 四条河流流域中，盛产棉花的是
A. ①②③ B. ①②③④ C. ②③④ D. ①④
 2. 四条河流中，由于修建水库大坝，使海岸线不断向后退缩，并引起下游土壤盐碱化的河流是在
A. 图① B. 图② C. 图③ D. 图④
58. 读下图回答 1-3 题



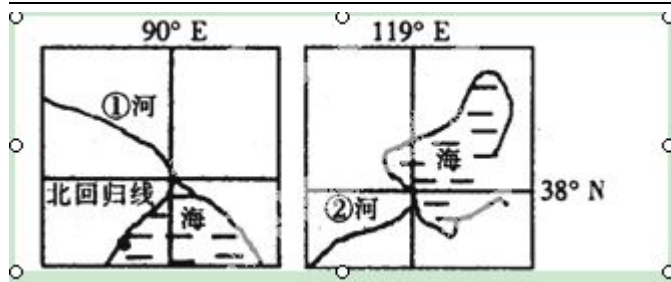
1. 甲、乙两地所在国家分别是
A. 印度、澳大利亚 B. 埃及、巴西 C. 印度、巴西 D. 埃及、澳大利亚
2. 甲、乙两地所在国家在自然地理特征方面相似的是
A. 都是所在大洲面积最大的国家 B. 都位于太平洋与印度洋之间的航运要道上
C. 境内热带荒漠面积都比较大 D. 境内都有一条纵贯南北、流量丰富的大河
3. 关于甲、乙两地所在国家经济发展的叙述，正确的是
A. 甲地所在国家是世界重要的长绒棉生产国 B. 乙地所在国家水稻种植业发达
C. 两国都是本洲的发达国家 D. 旅游业是两国的经济支柱

59. 读两国轮廓图，回答 1~2 题。



1. 下列说法正确的是
A. 甲、乙两国面积相当 B. 甲、乙两国都位于非洲
C. 乙国濒临比斯开湾 D. 甲国位于西半球
2. 与乙国相比，甲国
A. 气候炎热干燥 B. 上升气流更强
C. 光照强，温差大 D. 受西风影响时间长

60. 读下面两幅图，据此完成 1~2 题。



1. ①②两河三角洲处的自然植被分别是

- ①荒漠 ②热带季雨林 ③亚热带常绿硬叶林
④亚热带常绿阔叶林 ⑤温带落叶阔叶林

A. ①③ B. ①⑤ C. ③④ D. ②⑤

2. 初冬和早春, ②河上游河段易发生决堤现象, 这种现象还可能发生在

- A. 莱茵河 B. 乌拉尔河 C. 伏尔加河 D. 叶尼塞河

61. 长江三角洲的肥沃土壤是()

- A. 水稻土 B. 黄土 C. 紫色土 D. 黑土

62. 我国北方有些民居没有后窗, 这反映出当地()

- A. 光照较强 B. 风沙大 C. 冬季寒冷 D. 雨水多

63. 读右图完成下列 1-3 题:

1. AB 所在地的地形类型是

- A. 山地 B. 高原 C. 平原 D. 盆地

2. 有关图中两条河流部分的说法正确的是

- A. 都处在热带地区 B. 都有广阔的冲积平原
C. 都有丰富的水力资源 D. 夏季只受东南季风的影响

3. 若某一冷锋受地形阻挡, 停滞在 AB 两地之间, 则

- A. A 处阴雨绵绵 B. B 处多晴朗天气
C. A 处海拔高于 B 处 D. B 处处在丰水期

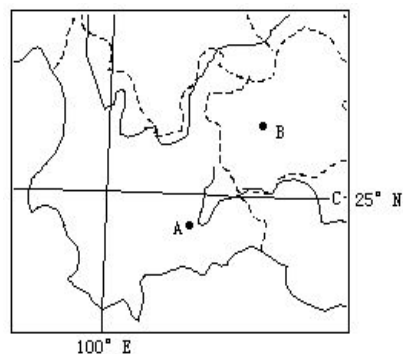
64. 长江上游最大的综合性工业基地和水陆交通枢纽是()

- A. 武汉市 B. 成都市 C. 贵阳市 D. 重庆市

65. 南水北调的东线方案中的引水起点是()

- A. 杭州 B. 南京 C. 扬州 D. 镇江

66. 鲁尔区是德国最大的工业区, 也是世界著名的工业区之一。据此完成 1-2 题。



1. 美国五大湖工业区与鲁尔区有许多相似之处，下列选项中只属于鲁尔区的是()

- A. 科技力量雄厚
- B. 水陆交通便利
- C. 水资源丰富
- D. 煤炭资源丰富，铁矿石短缺

2. 我国的下列工业基地中，最能借鉴鲁尔区综合整治经验的是()

- A. 京津唐工业基地
- B. 辽中南工业基地
- C. 珠江三角洲工业基地
- D. 沪宁杭工业基地

67. 煤炭是人类最早认识并加以利用的能源之一。山西省是我国主要的煤炭生产地，但尚未成为我国的经济大省。据此回答 1—2 题。

1. 和鲁尔区相比，山西省较缺乏的条件是()

- A. 水资源
- B. 铁矿石
- C. 交通
- D. 煤炭资源

2. 为尽快使山西由能源大省转变为经济强省，应加快经济结构调整战略。下列整治措施错误的是()

- A. 增加原煤的生产数量，提高经济效益
- B. 引进新兴产业，协调三大产业的发展
- C. 增加科技投入，走可持续发展的道路
- D. 增设道路网，改善交通条件

68. 德国鲁尔区和我国珠江三角洲都是世界重要的工业区。据此完成 1-2 题。

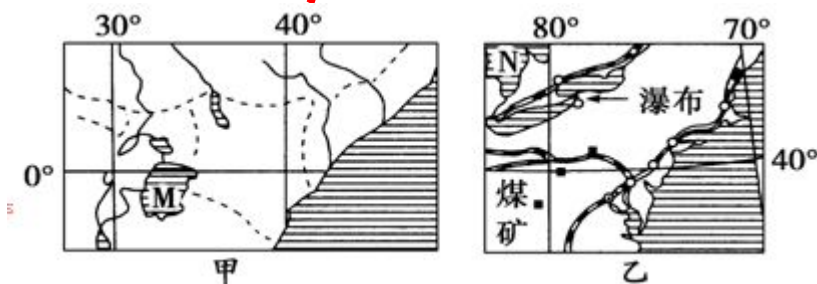
1. 有关德国鲁尔区早期繁荣的叙述，正确的是

- A. 劳动力资源丰富
- B. 煤炭资源丰富
- C. 铁矿资源丰富
- D. 石油资源丰富

2. 有关珠江三角洲工业化和城市化问题的叙述，不正确的是

- A. 城市酸雨现象严重
- B. 工业化推进了城市化的发展
- C. 城市占用耕地减少
- D. 城市基础设施建设亟待完善

69. 读“甲、乙两区域图”，回答 1~2 题。



1. 图中 M、N 是世界著名的湖泊，关于两湖泊的描述正确的是

- A. 两湖均是所在大洲面积最大的湖泊
- B. M 湖是内力作用形成，N 湖是外力作用形成
- C. M 湖周围的植被为热带雨林，N 湖周围的植被为温带草原

D. 两湖均为内流湖

2. 两湖泊所在区域的人文地理特征为

A. 甲、乙区域经济发达，农业分别为大牧场放牧业和乳畜业

B. 甲、乙区域资源丰富，资源分别为铁矿、铀矿和煤炭、石油

C. 甲、乙区域人口稠密，人口自然增长率低

D. 甲区域环境问题以生态破坏为主，乙地区环境问题以环境污染为主

70. 我国西双版纳地区的人工多层经济林主要是为了充分利用什么因素 ()

A 降水

B 地形

C 热量

D 光照

71. 近年来，长江中下游平原作为全国“粮仓”的地位让位于东北平原的原因是 ()

A. 粮食商品率高

B. 农业走向专业化、机械化

C. 人口城市密集，人均耕地少

D. 全球变暖

72. 以下不属于长江三角洲农业生产特点的是 ()

A. 粮食作物以水稻为主

B. 河湖面积广，水产业发达

C. 经济作物有油菜、棉花

D. 耕作制度为一年一熟

73. 读右下图，完成 1~3 题。

1. B 处的地表主要的自然景观是

A. 荒漠

B. 森林

C. 草原

D. 沼泽

2. 2012 年 2 月中国驶往欧洲的货轮经过 D 岛屿时，可能发生的现象是

A. 顺风顺水 B. 飓风活动频繁 C. 正值雨季 D. 新茶上市

3. A 处附近的城市为印度重要的

A. 钢铁工业城市

B. 新兴工业城市

C. 毛纺工业中心

D. 棉纺工业中心

74. 关于里海的叙述错误的是 ()

①欧亚大陆之间的一个狭长水域 ②从成因上看，属内陆海

迹湖

③世界最深的湖泊

④通过伏尔加河沟通黑海

A. ①②

B. ②④

C. ③④

D. ①④

75. 阿姆河和锡尔河都是内流河，它们同时流入 ()

A. 里海

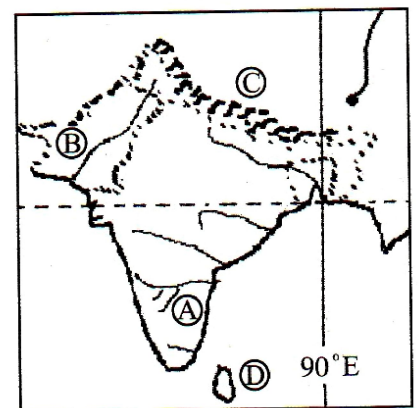
B. 黑海

C. 巴尔喀什湖

D. 咸海

76. 下列关于日本的叙述，不正确的是 ()

A. 经济以加工贸易为主



- B. 主要工业区分布在日本海沿岸
- C. 近年来日本将一些工业，特别是污染严重的工业向发展中国家转移
- D. 日本的自然资源中，森林资源比较丰富

77.日本多火山、地震的原因是（ ）

- A. 位于太平洋板块之上，地壳极不稳定
- B. 位于亚欧板块与太平洋板块的张裂地带，地下岩浆活动频繁
- C. 日本群岛属于火山岛，火山频繁爆发，诱发频繁地震
- D. 位于环太平洋火山、地震带上，地壳活动比较活跃

78.下列关于东南亚与南亚地理特征不同点的叙述，正确的是（ ）

- A 东南亚以白色人种为主，而南亚以黄色人种为主
- B. 东南亚适宜于天然橡胶生长，而南亚有利于棉花种植
- C. 南亚产业属于资源密集型，而东南亚产业属于技术密集型
- D. 南亚是世界上华人华侨聚集之地，而东南亚华人华侨相对较少

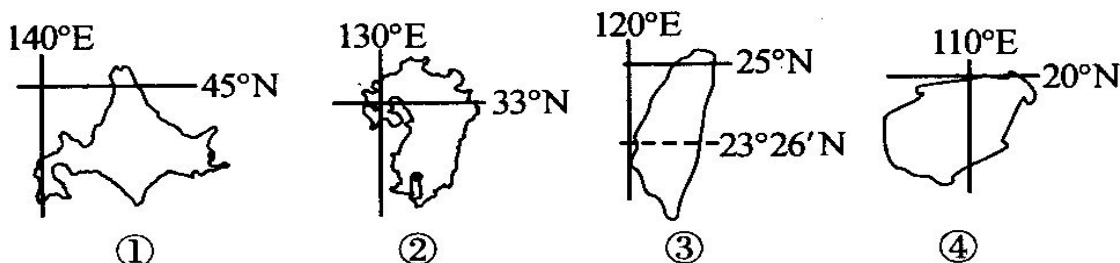
79.下列关于东南亚与南亚地理特征共同点的叙述，正确的是（ ）

- A. 受热带季风影响，农业生产具有良好水热条件
- B. 大部分地区属高原地形，地势平坦，土壤肥沃
- C. 河流众多，水量丰富，均自北向南注入印度洋
- D. 利用丰富的石油资源，重点发展石油化工工业

80.马来西亚、菲律宾、印度、泰国的主要出口农产品依次是

- A. 棉花、茶叶、蕉麻、天然橡胶
- B 天然橡胶、蕉麻、茶叶、稻米
- C. 椰子、茶叶、稻米、棉花
- D. 胡椒、金鸡纳霜、木棉、棉花

81. 读下图，回答第1~3题。



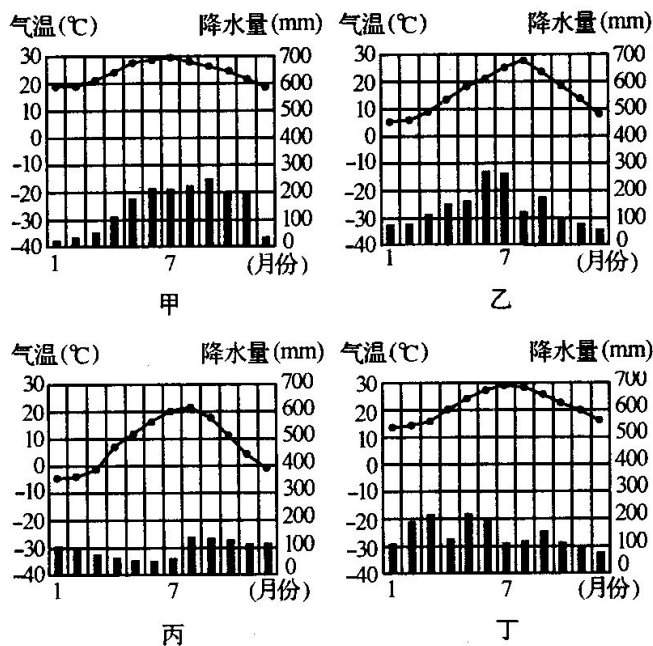
1. 四图中，附近有世界著名大渔场的是

- A. ① B. ② C. ③ D. ④

2. 图中四个岛屿中，属于亚热带季风气候的是

- A. ①② B. ②③ C. ③④ D. ①④

3. 右图各气候类型与上图中四个岛屿对应正确的是 ()



- A. ①—甲、②—乙、③—丙、④—丁
B. ①—丙、②—乙、③—甲、④—丁
C. ①—乙、②—丙、③—丁、④—甲
D. ①—丙、②—乙、③—丁、④—甲

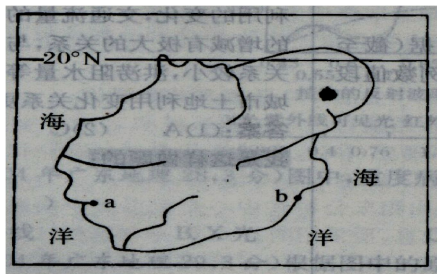
82. 印度主要的经济作物有 ()

- A. 棉花、水稻、茶叶
B. 棉花、黄麻、茶叶
C. 茶叶、甘蔗、小麦
D. 甘蔗、茶叶、大豆

83. 东亚位于世界最大的陆地和最大的大洋之间，其气候特点()

- A. 大陆性气候显著 B. 海洋性气候显著 C. 季风气候显著 D. 热带特征突出

84. 如下图是我国某岛屿略图，据此回答 1~2 题



1、a 地与 b 地相比，建立盐场的优势条件是

- A. 气温高 B. 附近海域盐度高 C. 降水少 D. 地势低平

2、该岛近年来经济发展迅速，主要因为

- ①区位优势 ②资源优势 ③政策优势 ④科技基础优势



- A. ①② B. ①②③ C. ②③④ D. ①②③④

85.既属于东部季风区，又位于地势第二级阶梯上的地貌单元是 ()

- A. 黄土高原 B. 内蒙古高原 C. 柴达木盆地 D. 东北平原

86.亚马孙雨林被破坏的根本原因是()

- A. 过度的迁移农业和商业性伐木 B. 人口增长和贫困导致的发展需求
C. 采矿、修路和城镇建设 D. 开辟大型农牧场

87.印度洋海啸给世人敲响了警钟。专家指出，为防御海啸，我国东南沿海地区除加强防波堤建设外，最重要的是尽快恢复沿海的红树林。据此回答 1-2 题。

1. 红树林是一种重要的沿海生态系统，其重要作用在于 ()

- ①抵挡波浪，防御海啸 ②为海洋生物提供栖息地
③为海洋生物提供食物 ④调节水温，降低盐度


- A. ①② B. ②③ C. ③④ D. ①④

2. 红树林生命力极强，涨潮时即使遭受没顶之灾，也数日不死，下列关于红树林的叙述正确的是 ()

- ①红树林生长所需要的能量来自海洋能 ②红树林生长需要的能量来自太阳能
③红树林生长所需要的肥力来自土壤 ④红树林生长所需要的肥力来自海洋

- A. ①④ B. ②③ C. ①② D. ③④

88.读图某河流年径流量变化曲线示意图，回答 1—3 题



某河流年径流量变化曲线示意图

1. 该河流所处的气候类型区是 ()

- A. 亚热带大陆西岸 B. 亚热带季风区 C. 温带季风区 D. 高寒地区

2. 能正确反映该河流水文特征的是 ()

- A. 有两个汛期 B. 主要是雨水和地下水补给
C. 年径流量大 D. 冬季断流是河流没补给

3. 关于流域开发的叙述，正确的是 ()

- A. 应以河流的利用与治理为核心
B. 应以流域内人民提高经济效益为核心
C. 应以流域内工农业生产得到迅速发展为核心
D. 应以流域内自然资源的利用为核心

89.田纳西河流域成为美国最大的电力供应基地的原因是 ()

- A. 水力资源极为丰富, B. 煤炭资源极为丰富,
C. 铀矿资源极为丰富, D. 流域内水电、火电、核电的大规模开发

90.田纳西河流域开发的核心是 ()

- A. 河流的梯级开发 B. 防洪 C. 航运 D. 旅游

91.田纳西河流域自 19 世纪后期环境恶化的主要原因是 ()

- A. 由于人口激增, 对资源的大规模掠夺式开发
B. 长期高强度种植玉米, 造成土地退化
C. 为获取炼铜木炭, 大片伐林, 造成水土流失
D. 炼钢大量排放二氧化硫, 形成酸雨

92.田纳西河的水系、水文特征是 ()

- ①水系发达, 支流众多 ②河流落差大, 水力资源丰富
③矿产资源丰富 ④水量丰富, 流量不稳定

- A. ①②③ B. ②③④ C. ①②④ D. ①③④

93.巴西政府大规模开发亚马孙流域计划的内容包括以下几个方面, 正确的是 ()

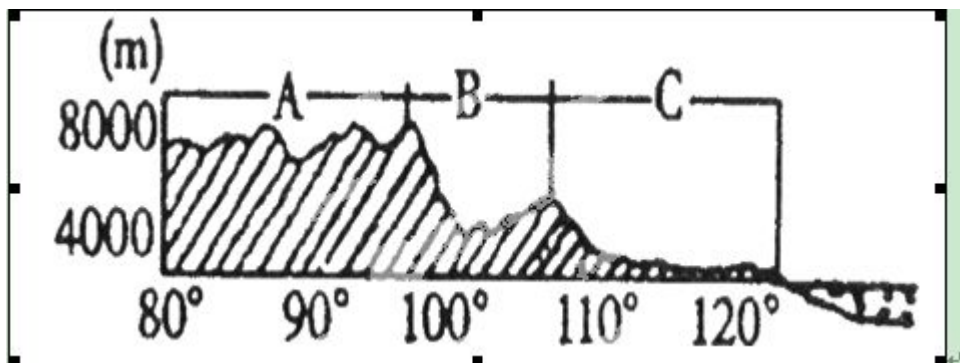
- ①修建亚马孙横贯公路 ②移民亚马孙平原
③借助外资、鼓励跨国企业投资开发 ④接纳海外移民, 开发亚马孙平原

- A. ①②③ B. ②③④ C. ①②④ D. ①③④

94.长江三角洲的肥沃土壤是 ()

- A. 水稻土 B. 黄土 C. 紫色土 D. 黑土

95.读“我国沿 32° N 所作的地形剖面图”, 回答 1—3 题





1. A 地形区西部丰富的可再生能源是

- A. 水能、地热能 B. 太阳能、风能 C. 生物能、核能 D. 天然气、石油

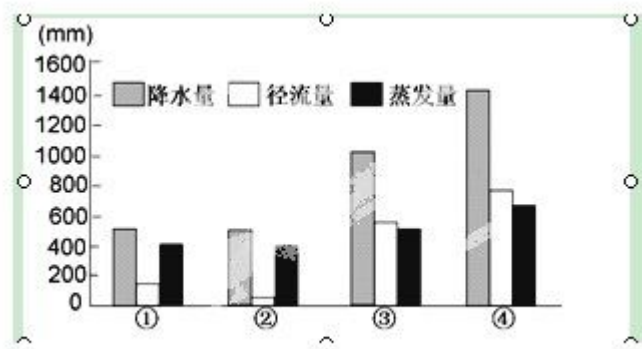
2. A 地形区土地利用主要类型是

- A. 林地 B. 草地 C. 耕地 D. 沙漠

3. 下列叙述正确的是

- A. C 地形区是华北平原 B. B 地形区的河流多属内流河
C. A 是塔里木盆地 D. A 地气温的日较差大

96. 下图是我国长江、黄河、珠江、松花江四大河的水量平衡示意图，回答 1~2 题。



1. 图中反映珠江的是

- A. ① B. ② C. ③ D. ④

2. ②河流径流量最小，最主要原因是

- A. 流域面积小 B. 河流长度最短 C. 流经半干旱、半湿润地区 D. 水土流失严重

97. 读右图回答 1--3 题。



1. 图中山脉属于地势阶梯分界线的是

- A. ① B. ② C. ③ D. ④

2. 甲地形区的主要生态问题是

- A. 水土流失 B. 荒漠化 C. 盐碱化 D. 沙尘暴

3. 河流在流经乙处附近后径流量明显减少的主要原因是

- A. 降水量减少 . 沿岸农业灌溉用水过多 C. 支流较少 D. 蒸发量增大

98. 在工业化阶段，各产业变化的特点是

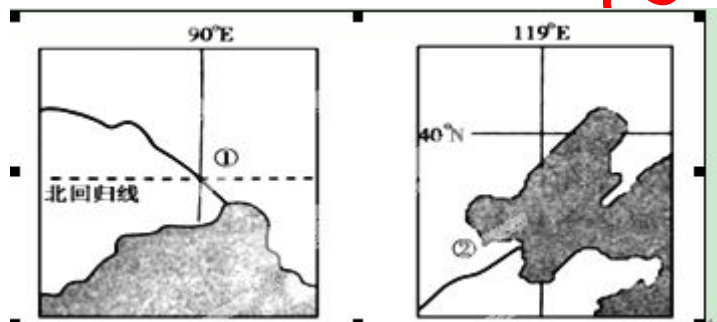
- A. 第一产业在国内生产总值中的比重继续上升
B. 第二、一产业在国内生产总值中占到相当大的比重
C. 第三产业表现出加速发展的趋势
D. 第三产业的增长速度和产值比重明显地超过第二产业

99. 衡量区域发展水平，常用的指标有

- ①人均国内生产总值 ②人均国民收入 ③对外贸易总 ④三大产业产值比重

- A. ①②③ B. ②③④ C. ①②④ D. ①③④

100. 下图为某两河河口图，阴影为海域部分，读图回答 1~3 题。



1. 两河河口处共同的自然地理特征是()

- ①雨热同期 ②地势平坦 ③土地沙化严重 ④海岸退缩严重

- A. ①② B. ②③ C. ③④ D. ②④

2. 下列关于两河流下游地区人文地理特征的描述，正确的是()

- A. 两河下游航运发达 B. ①河人口稀少，②河人口稠密

- C. ①河下游盛产黄麻，②河下游盛产棉花

- D. ①河沿岸植被是常绿硬叶林，②河沿岸是落叶阔叶林

3. 对①河入海口所在国家的描述，正确的是 ()

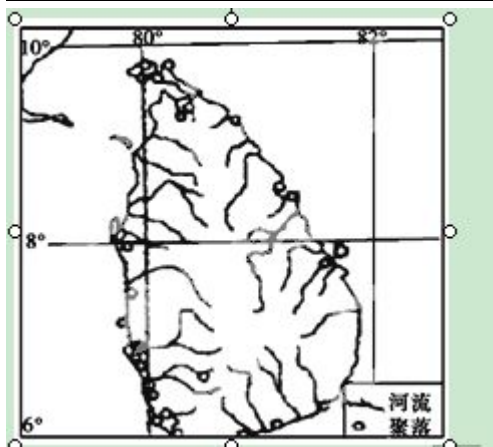
- A. 首都都是伊斯兰堡

- B. 该国有著名的佛教建筑吴哥窟

- C. 人口过亿，人口密度大

- D. 位于回归线附近，属于热带沙漠气候

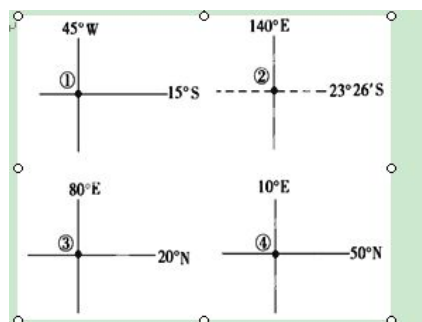
101. 读下图，回答 1~2 题。



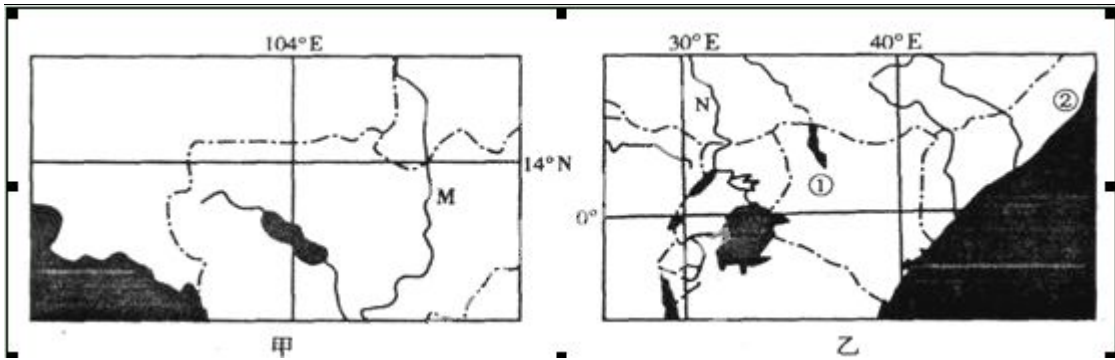
1. 该岛位于()
A. 太平洋 B. 印度洋 C. 大西洋 D. 北冰洋
2. 下列有关该岛的表述正确的是()
A. 以山地为主, 地势北高南低 B. 气候终年高温多雨
C. 河流流域面积广, 水能丰富 D. 居民多生活在沿海平原地区

102. 读图, 回答 1~3 题。

1. 图中四地所在大洲排序正确的是()
A. ①南美洲、②非洲、③北美洲、④亚洲
B. ①非洲、②南美洲、③大洋洲、④欧洲
C. ①南美洲、②大洋洲、③亚洲、④欧洲
D. ①非洲、②大洋洲、③北美洲、④亚洲
2. 图中四地所在国家排序正确的是()
A. ①阿根廷、②南非、③泰国、④法国
B. ①巴西、②澳大利亚、③印度、④德国
C. ①坦桑尼亚、②阿根廷、③澳大利亚、④英国
D. ①赞比亚、②智利、③美国、④俄罗斯
3. 图中四地所在国家所濒临的海洋, 排序正确的是()
A. ①大西洋、②印度洋、③泰国湾、④地中海
B. ①印度洋、②太平洋、③北冰洋、④波罗的海
C. ①印度洋、②太平洋、③地中海、④北海
D. ①大西洋、②太平洋、③阿拉伯海、④波罗的海



103. 读下面两区域图, 回答 1~3 题。



1、图中 M、N 两河的共同水文特征是

- A. 上游多峡谷，落差大 B. 水量丰富 C. 水位季节变化大，年际变化小 D. 支流少

2、乙图中①、②两地的自然带及其形成的主导因素是

- A. ①地：热带雨林带，纬度 B. ①地：热带草原带，地形
C. ②地，热带雨林带，地形 D. ②地：热带草原带，洋流

3、对两图所示地区农业生产的叙述，正确的是

- A. 两地农业人口比重大，劳动生产率高
B. 两地均是世界天然橡胶、咖啡、香蕉等热带经济作物的最重要产区
C. 甲地水热充沛，农业地域类型主要为水稻种植业
D. 地草原广阔，农业地域类型主要为大牧场放牧业

104. 中国、日本、美国、澳大利亚都是太平洋沿岸的国家，据此回答 1-2 题。

1、有关人口及人口分布的叙述，正确的是（ ）

- A、四国人口都集中分布在国土的东南部 B、日本即将进入人口老龄化阶段
C、中国城市化道路应按其他三国的模式进行 D、美国是今日各国人才的重要迁入区

2、当美国的洛杉矶进入一年中的多雨季节时，下列叙述正确的是（ ）

- A、江淮地区进入梅雨季节 B、全球大陆上等温线向南凸出
C、巴西高原上草木枯黄 D、夏威夷高压势力强盛

105. 我国地域辽阔，有多种多样的温度带和干湿地区，气候类型多样，据此回答 1-4 题：

1、下列地区，具有“山下有花山上雪”“一山居然四季全”气候特征的是：（ ）

- A、阴山地区 B、祁连山地区 C、雪峰山地区 D、横断山区

2、我国冬季南北温差很大，这是由于：（ ）

- ①太阳辐射的南北差异 ②离海远近的不同 ③大气环流的影响 ④山脉的作用

- A、①②③ B、②③④ C、①②④ D、①③④

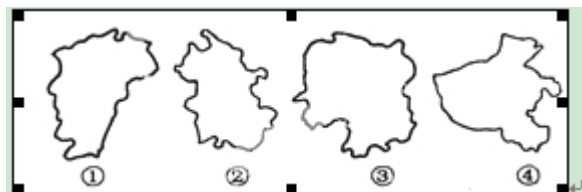
3、我国黑龙江省的呼玛县成为世界种植水稻最北的地区是由于：()

- A、季风的影响 B、地形的影响 C、海陆位置的影响
D、纬度位置的影响

4、我国既不受冬季风影响又不受夏季风影响的地区是：()

- A、云贵高原 B、藏北高原 C、塔里木盆地
D、南岭

106. 下图中四个省区叙述正确的是：()



- A、四个省区由北而南的排序是①②③④ B、四处省区中没有一个濒临海洋
C、四个省区彼此之间互不相邻 D、图中①省位于四川省北边

107. 读图1，回答1-2题。

1. 合理的棉纺织工业布局应位于图中

- A. ① B. ② C. ③ D. ④

2. 下列几组省区(市)按①-②-③-④排列的是()

- A. 山东-四川-西藏-江苏 B. 河北-新疆-青海-广东
C. 浙江-辽宁-湖北-北京 D. 安徽-重庆-湖南-河南

108. 读图，回答小题。

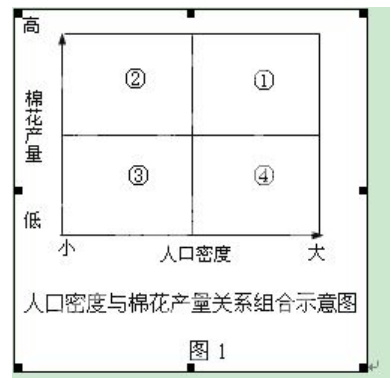
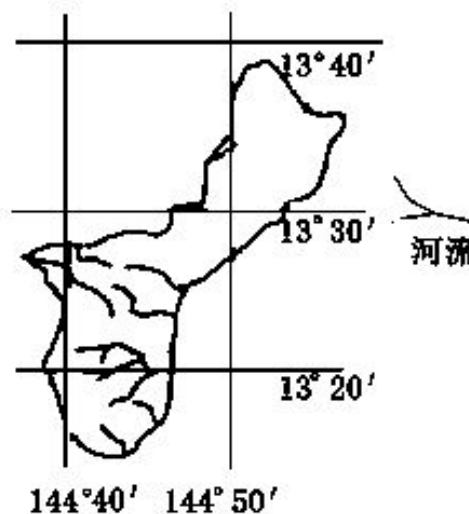
1. 关于图示岛屿位置的叙述，正确的是

- A. 位于东半球，西太平洋上 B. 位于东九区，东太平洋上
C. 位于赤道附近，印度洋上 D. 位于我国东北方向

2. 图示岛屿最宽处约为

- A. 8千米 B. 18千米 C. 28千米 D. 38千米

3. 关于图示岛屿上河流特征的描述，正确的是



- A. 流域面积大 B. 汛期短, 水量小
C. 流程短, 水流急 D. 含沙量大

109. 读图 11, 回答第 1—2 题。

1. 若 F、H 同时位于晨线上, 则

- A. E 地日出时地方时约为 6 时 B. F 地正午太阳高度角为 0°
C. H 地昼长将逐渐变短 D. G 地正值夕阳西下

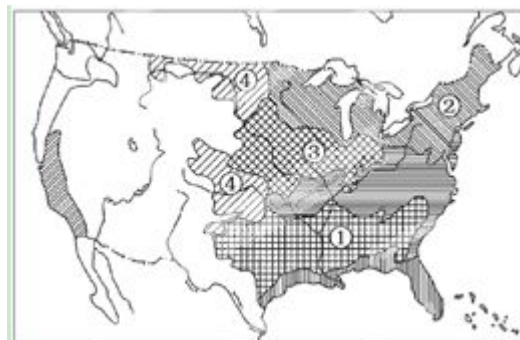
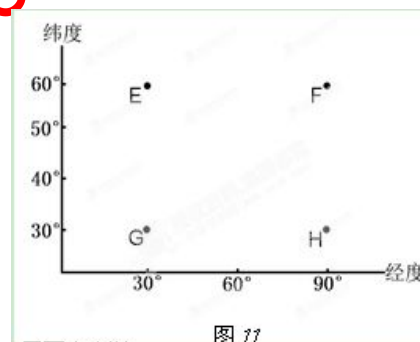
2. 图中

- A. E 地至 F 地地势逐渐升高 B. G 地与 H 地分属两个大洲
C. G 地气候特点是雨热同期 D. H 地日温差小而年温差大

110. 就工业结构来说, 我国具有的基本特征是: ()

- A 南重北轻, 东轻西重 B 南轻北重, 东轻西重
C 南重北轻, 东重西轻 D 南轻北重, 东重西轻

111. 美国农业生产布局最主要的特点是农业生产地区专门化。所谓农业生产地区专门化, 是指一个地区专门生产一种或几种农畜产品, 在全国范围内形成专业生产区。据此回答 1—2 题。



1. 关于美国农业带的叙述与图幅序号相符的是 ()

- A. ①亚热带作物带 ②小麦带 ③玉米带 ④棉花带
B. ①玉米带 ②小麦带 ③棉花带 ④乳畜带
C. ①棉花带 ②乳畜带 ③玉米带 ④小麦带
D. ①棉花带 ②乳畜带 ③小麦带 ④玉米带

2. 下列因素中, 与美国乳畜带的形成无关的是 ()

- A. 该地区气候湿冷, 有利于多汁牧草的生长
B. 该地区居民喜食牛奶、乳酪等产品



C、该地区是美国工业发达、城市密集区，消费市场广大

D、该地区人口稀少，草原面积广大，只适合发展乳畜业

112.田纳西河流域是美国最大的（ ）

A、电力能源基地 、电子工业基地 C、汽车工业基地 D、宇航工业基地

113.湿地被称为“地球的肾”，最主要的是因为湿地具有什么功能：

（ ）

A、调节气候 B、美化环境 C、净化水中的污染物 D、保护生物多样性

114.在马来半岛沿海平原和中央山脉之间的山麓丘陵地带，不仅适于种植橡胶，而且又是锡矿带的主体，成为举世闻名的“胶锡地带”。近年来，“胶锡地带”的橡胶和锡矿石的生产出现滑坡，而电子装配、化工、机械等一大批工业部门代之而起，“胶锡地带”已向“制造业带”转化。结合所学知识，据此回答 1--2 题。

1. 区域由“胶锡地带”向“制造业带”转化的主要原因是（ ）

①“胶”“锡”属于初级产品，在国际贸易中居不利地位 ②马来西亚利用本国自然环境和交通优势，大力发展本国的民族工业 ③科技力量雄厚，国内市场广阔 ④有效的产业政策和高水平的教育投入，推动了产业升级

A. ①②④ B. ②③④ C. ①③④ D. ①②③

2. 目前，该区域正处于（ ）

A. 以传统农业为主体的发展阶段 B. 工业化阶段
C. 衰落阶段 D. 高效益的综合发展阶段

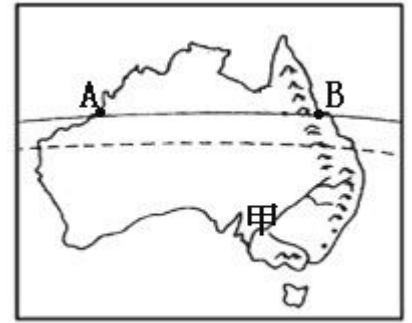
115.划分西、中、东三个经济地带的主要依据是（ ）

A. 经济发展速度 B. 经济结构 C. 经济发展水平 D. 自然资源的种类、数量

116.图为“某区域示意图”，读图完成 1~2 题

1. 下列说法正确的是

A. A 地温度比 B 地低
B. 从 A—B 自然带依次为森林带、草原带、荒漠带



C. A地温度比B地高

D. 从A—B自然带依次为荒漠带、草原带、森林带

2. 甲地区的农业类型

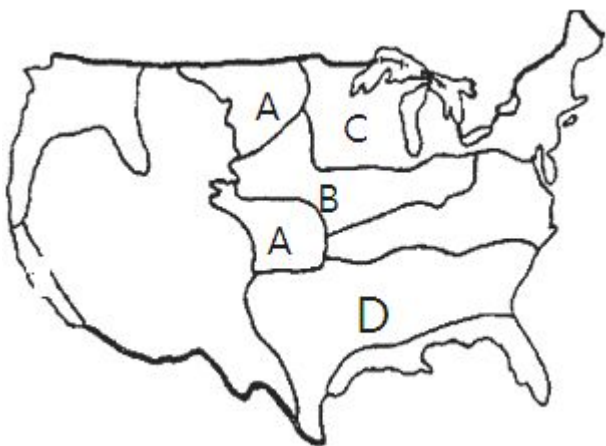
A. 盐城也有此种类型农业

B. 此季节去甲地，正是小麦的收获季节

C. 该地区农业发展的限制条件是水源

D. 该地区发展该农业类型的主要区位条件是地广人稀

117. 读美国农业带分布图，回答下列问题。



(1) 图中字母代表的农业带分别是

A _____, B _____, C _____, D _____

(2) 影响C农业带的主要自然条件是

是 _____、
主要社会经济条件是 _____

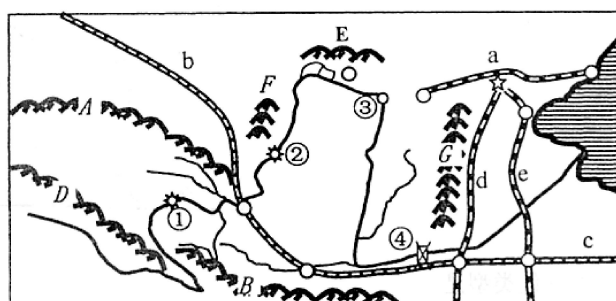
(3) 美国农业生产布局最主要的特征是 _____

主要好处是 _____

(4) 图中分布的小麦带中，北部主要种植 _____ (春小麦、冬小麦) 中部主要种植
(春小麦、冬小麦)。

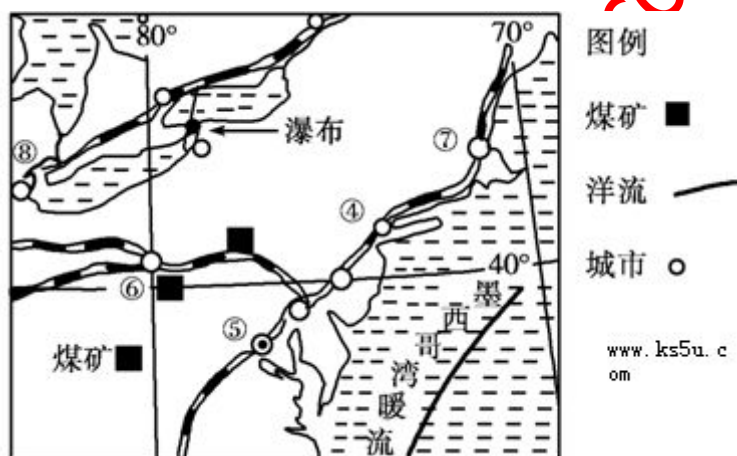
118.

中国局部地图，完成：



- (1) 属于季风区和非季风区界线的山脉是_____、_____；属于地势中第一、二级阶梯分界线的是_____；0℃等温线经过的山脉是_____。（均填字母）
- (2) 山脉 G 东侧的地形单元为_____，西侧的地形单元为_____。
- (3) ①在_____省境内；④在_____省（简称）境内。
- (4) 黄河干流从②到③河段，水量减少的自然原因是_____；人为原因是_____。

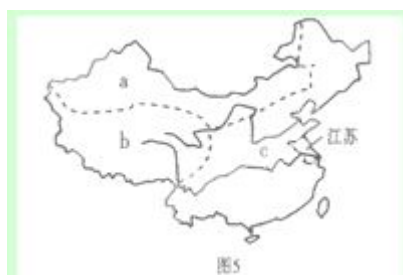
119. 下图为美国东北部工业区图，读图回答问题。



(1) 据图分析该工业区的主导工业部门是_____。

(2) 该工业区工业发展的主要有利条件有哪些？

120. 读“我国三大自然区的划分图”（图 5）回答



(1) 图中三个自然区的名称

A_____, b_____, C_____

(2) a 区与 c 区的界线与_____mm 年降水量线大致吻合。

(3) b 区与 C 区的界线上有_____山脉

(4) 平均海拔高度的大小比较正确的是

A. $a > b > c$ B. $b > c > a$ C. $b > a > c$ D. $c > a > b$

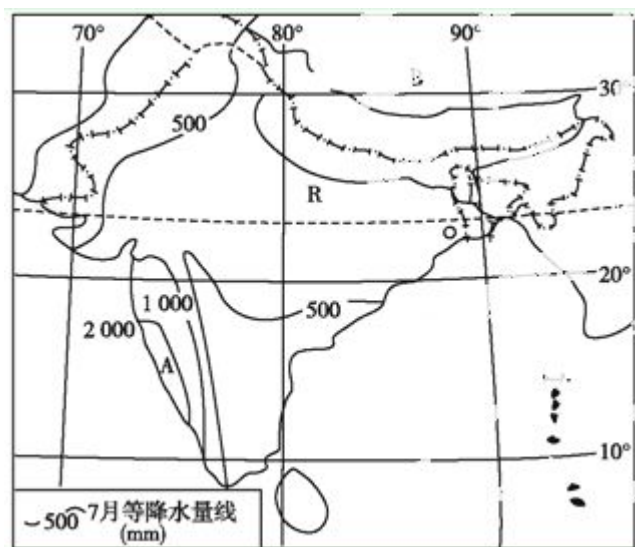
(5) 有关江苏省的叙述正确的是

①都在东部季风区 ②以平原为主 ③都是湿润区 ④跨亚热带和暖温带

⑤属于东部经济地带

A. ①②③ B. ①②④ C. ①②⑤ D. ①②④⑤

121. 读图，回答下列问题。

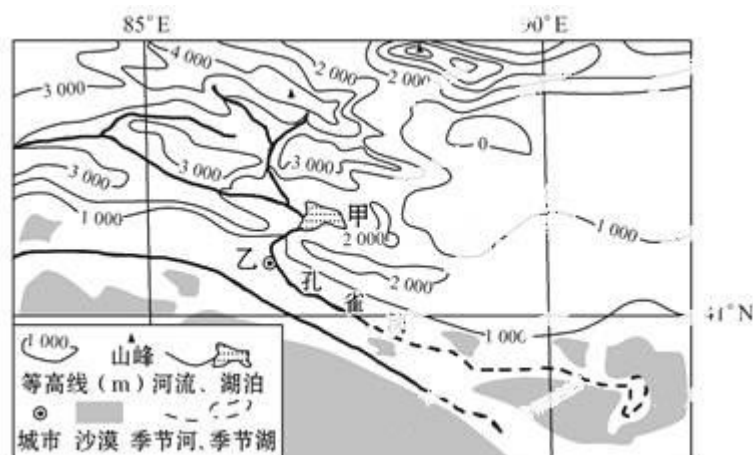


(1) 指出 R 河的主要补给类型，并分析该河径流量季节变化较大的原因。

(2) 图中 B 地区是我国年太阳辐射最强，年平均气温最低的地区，试从大气受热过程分析该地区太阳辐射最强，气温低的原因。

(3) R 河入海口处经常发生洪涝灾害，请分析发生洪涝灾害的原因。

122. 下图为我国某区域示意图。读图回答下列问题。



- (1) 分析图中甲湖成为我国最大内陆淡水湖的原因。
- (2) 说出从甲湖引水到孔雀河下游，对下游地区可能产生的影响。

123. 图 1 和图 2 分别是甲岛 7 月等温线分布示意图和乙岛水系分布示意图，读图回答下列问题

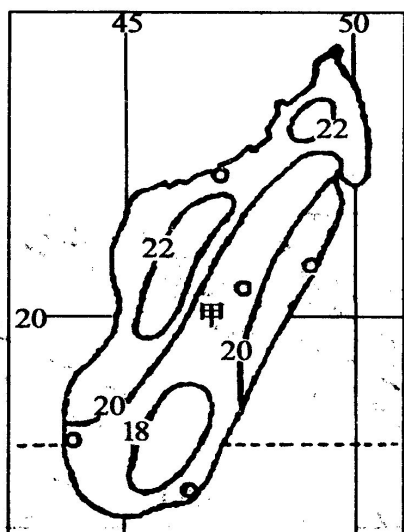


图1 (温度单位℃)

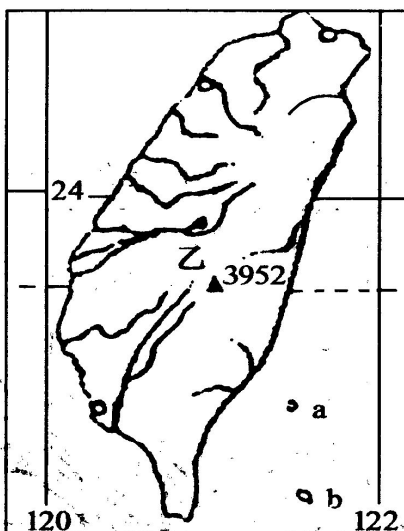


图2

(1) 甲、乙两岛面积较大的是_____岛；(1分)图2中a、b两小岛之间最短距离约为_____千米。

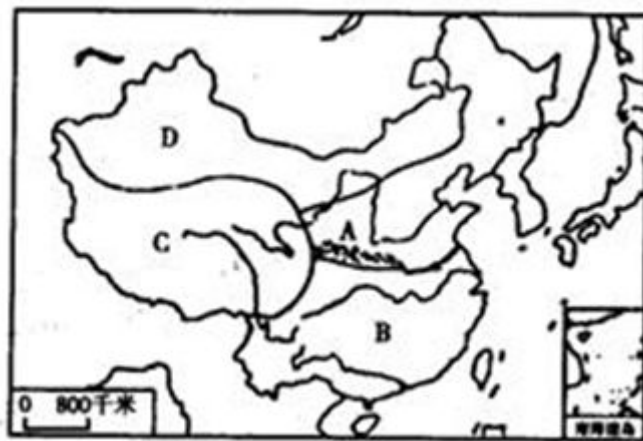
(2) 图1中所示的甲岛20℃等温线弯曲明显，主要影响因素是_____。

(3) 根据图2中信息，描述乙岛地形特征。

(4) 甲、乙两岛7月都盛行相同方向的风向，但成因不同，乙岛此风形成原因是：_____

(5) 试分析甲岛东侧气候类型的成因。

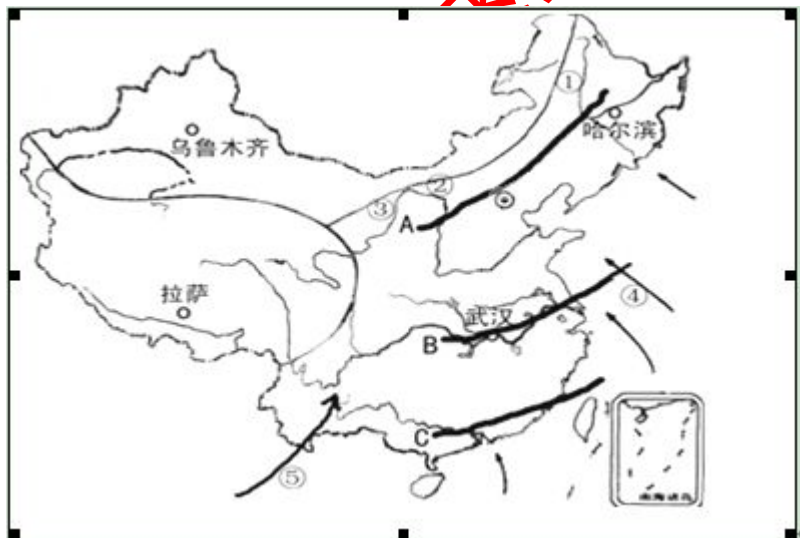
124.阅读三大自然区分布图，完成要求。



- (1) C、D 区的交界线上有_____山脉和_____山脉等。
- (2) C区与其他地区相比，夏季气温最突出的特点是_____，形成这种气候特征的根本原因是_____。

125.

读图, 回答下列问题。

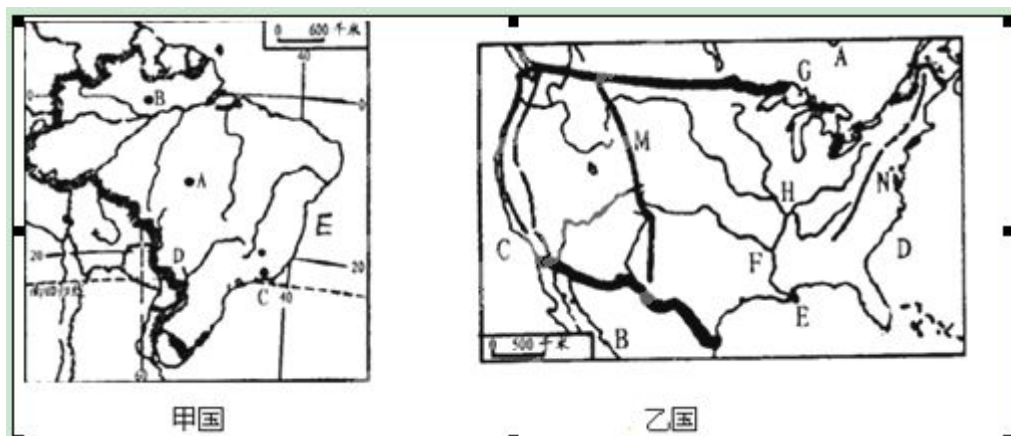


- (1) 图中数码代表的季风区和非季风区分界线上的山脉名称：
①_____，②_____，③_____。
- (2) ④代表_____季风(填风向)，⑤代表_____季风(填风向)，它们分别来自_____洋和_____洋。
- (3) 图中城市，几乎不受冬季风影响的是_____，主要原因是_____。

(4) 夏季风推动锋面雨带不断北移（如 C→B→A），给我国带来降水。当雨带在 B 处长时间停留易发生_____灾害；当雨带移至 A 处，B 处易发生的灾害是_____。

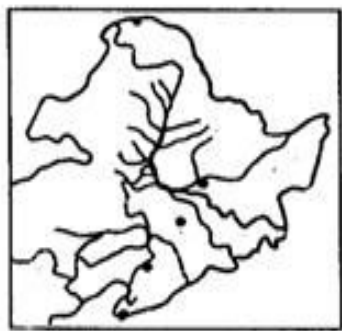
126.

读图，完成下列问题。

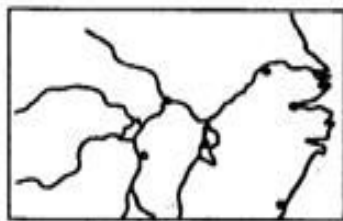


- (1) 根据图中信息判断：甲国是_____，乙国是_____；
- (2) 流经甲国北部的河流是_____，流经乙国中部的河流是_____。
- (3) 乙国中 M 是_____山脉，形成的原因是_____板块和_____板块相撞挤压形成。
- (4) 甲国是_____（农产品类型）王国，乙国西部是世界_____（工业地域）产业基地。

127. 读我国甲、乙两个地区图，回答下列问题。



甲



乙

(1) 甲为我国_____地区，该地区主要地形是____， 乙为我国 _____ 地区。

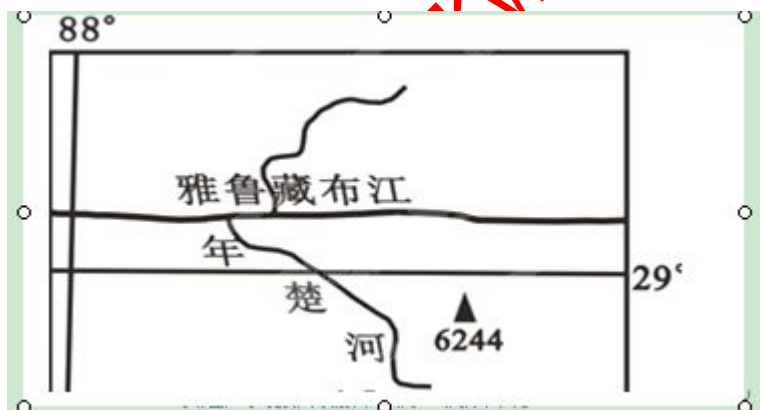
(2) 从土地利用方面比较甲、乙两地，完成下表。

地区	土壤类型	耕地类型	人均耕地水平（与全国平均比较）
甲			
乙			

(3) 东北地区是我国重要的商品粮生产基地之一。请简要分析为什么能形成商品粮基地（从自然、人文等方面分析）？

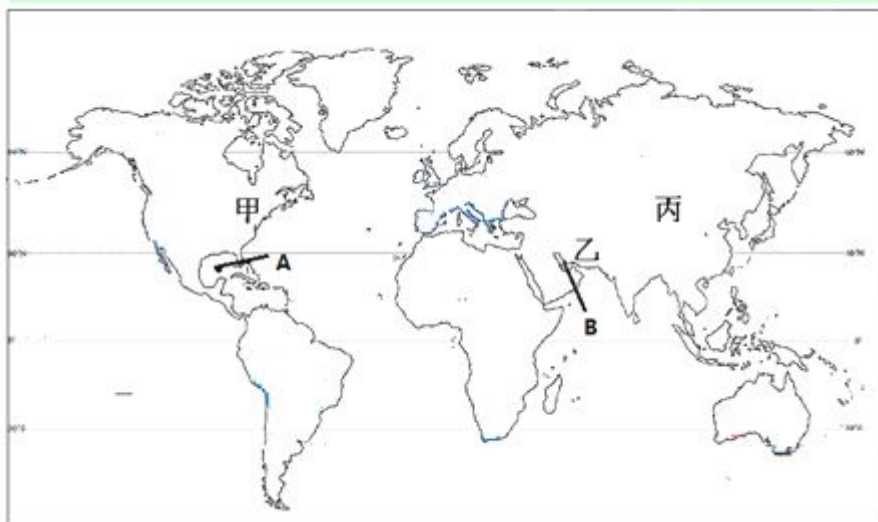
128.

阅读图文资料，完成下列要求。



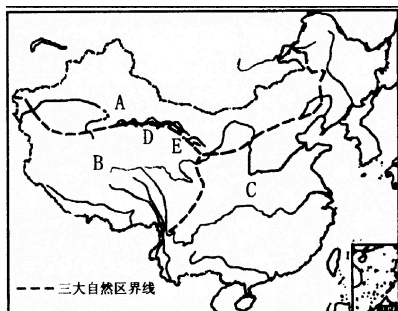
西藏年楚河河谷所产油菜籽粒大、品质优，单位面积产量比我国东部平原高一倍。分析年楚河河谷油菜籽单产高、品质优的自然条件。

129.读“世界轮廓图”，回答下列问题



- (1)、图中甲、乙、丙三地气候类型相同，但降水量不同，其中降水量较大的是_____，原因是_____。（ ）
- (2)、甲、乙、丙三地气候相同，但影响因素不同。影响丙地区的因素是_____影响乙地区的因素是_____。（ ）
- (3)、甲所在国较多的气象灾害主要是_____和_____，丙所在国较多的气象灾害主要是_____和_____。（ ）
- (4)、A、B 两海湾纬度接近，但气候不同，形成原因是_____不同。B 地区常年受_____控制。（ ）

130.读“中国三大自然区图”，完成下列题目。



(1) 写出下列自然区的名称：

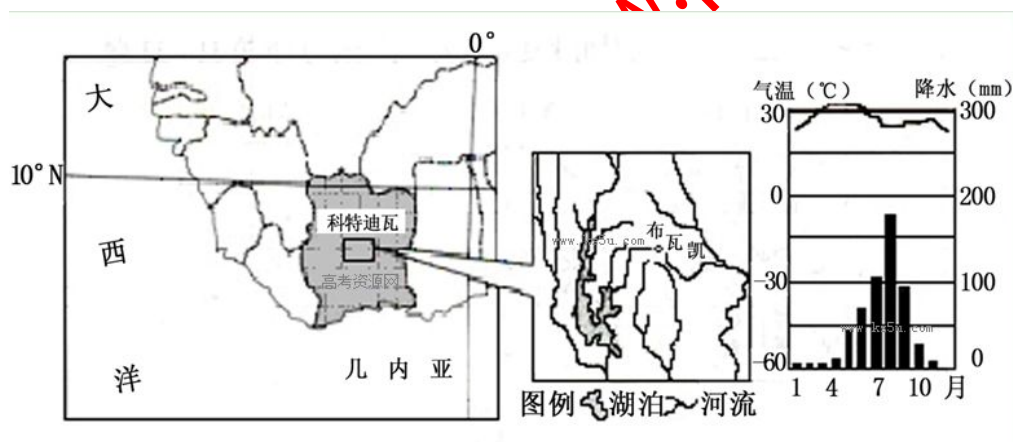
A _____， B _____。（ ）

(2) A 区与 C 区的界线与哪些地理分界线大致吻合？（ ）

(3) 填写下表，比较 A、C 两区自然特征的差异。（ ）

	A	C
主要地貌类型		
气候		

131. 下图为科特迪瓦的地理位置图及布瓦凯地区水系图和布瓦凯市的气候资料。读图回答下列问题。

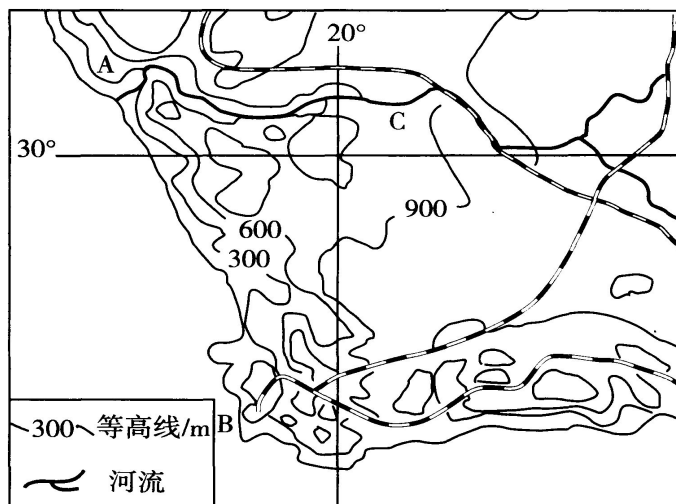


(1) 请描述科特迪瓦的地理位置特征。

(2) 科特迪瓦境内河流众多，但布瓦凯市有近 100 万人缺水。请分析布瓦凯市缺水的主要自然原因。

(3) 科特迪瓦北部位于干旱、半干旱地带，当地牧民每年赶着大量牲畜于 11 月南迁，次年 6 月北移。请解释牧民迁移的原因。（ ）

132. 读“非洲南部某区域图”，回答下列问题：（ ）



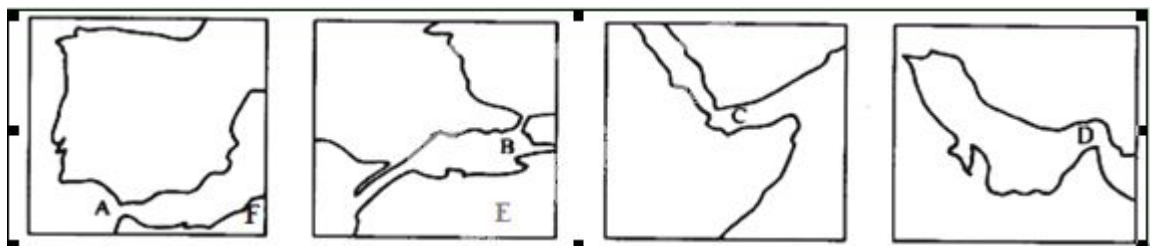
(1)写出从 B 地到 A 地自然带的变化及体现的地域分异规律。()

(2)据图回答该区域的位置及地形地势特征。()

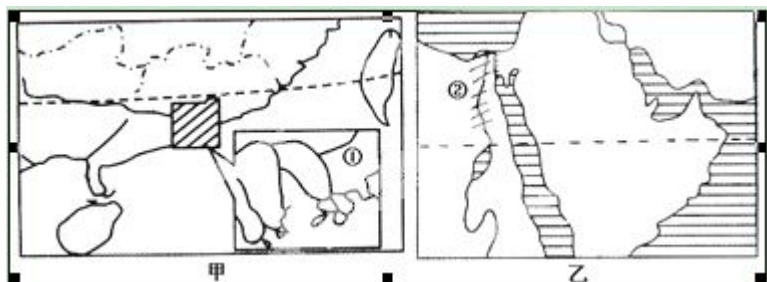
(3)根据河流所流经的气候区，分析图中 C 河流流量的变化。()

133. 读下面所示的一组海峡轮廓图， E 代表_____ (洲)， F 代表_____ (洲)， C 代表 (海峡)，沟通了_____海和_____洋。沟通地中海和大西洋的海峡是_____，

代号是_；跨越两大洲又位于同一个国家内的海峡是_____，图中代号是_____；周围沙漠气候广布，附近又盛产石油的海峡是_____（填代号）。



134.读下图所示两地理区域，读图回答下列问题。



- (1) 图甲所示区域与图乙所示区域大部分地区纬度相当，但气候截然不同，试分析原因。
- (2) 图甲所示地区水能资源丰富，主要分布在_____（河流），试从地形与气候两方面分析原因。
- (3) 我国在图甲区域建立核电站，主要原因是什么？

135.图 18 为“我国局部地区图”，读图回答下列问题。

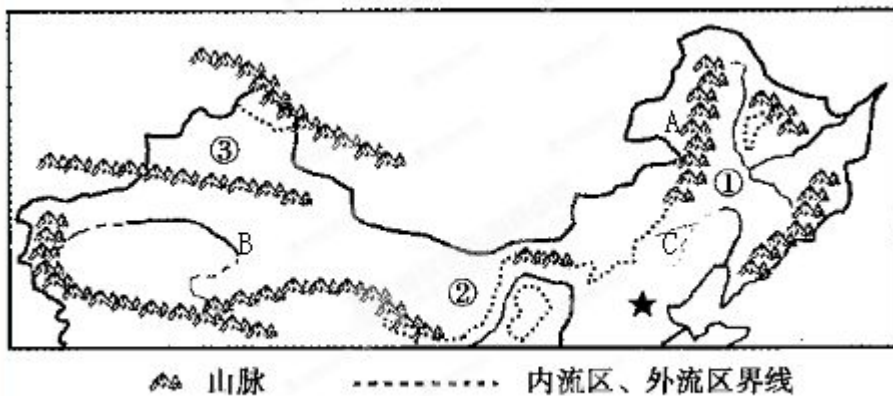


图 18

- (1) 图中有中国最大的内流河 ____ (填写字母)，其主要补给水源是_____。
- (2) A 山脉是那些重要地理事物的分界线？（至少答出四点）
- (3) 图中由①→②→③地自然景观变化反映了_____（地域分异规律），其主要影响因素是 _____。
- (4) 比较①③两地降水量及水汽来源的差异。
- (5) 近年来观测资料表明，天山的冰川在不断消退，造成此现象的主要原因是 _____。其对农业生产和生态环境的影响？

136.读图回答问题：



- (1) A 地区沙漠化的自然原因是： _____，人为原因是_____。
- (2) 近年来 A 周边地区_____（季节）沙尘暴天气时有发生，其气候原因是：_____。
- (3) 对 A 周边地区沙尘暴现象的出现应采取哪些治理措施： _____。