

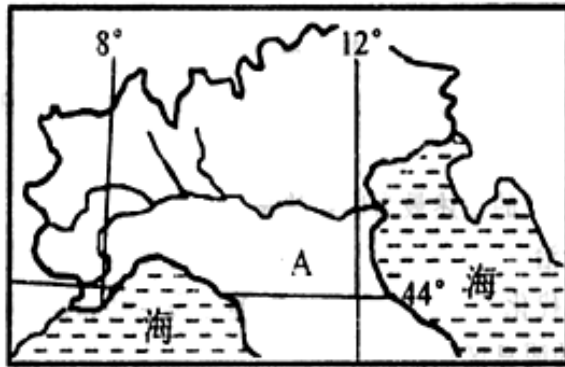
北京博飞华侨港澳台联考试题

地理部分 27-51

-----工业区

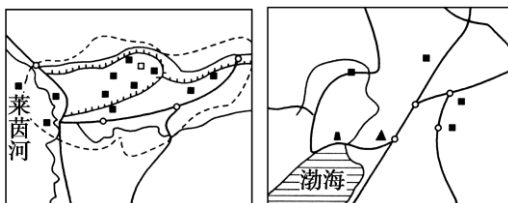
一、工业区

1. 图中 A 区域是世界著名的新兴工业区。与传统工业相比，该新兴工业区的特点是（ ）



- A. 资本集中程度高，主要行业往往包括数百个中小企业
- B. 工业大多分散在小城镇，甚至农村
- C. 生产过程较为集中，自动化程度高
- D. 工业以机械制造、石油加工和微电子工业为主

读“德国鲁尔区和我国鞍山钢铁工业基地图”，比较两地的区位优势，回答下列各题。



2. 两地发展钢铁工业相同的区位优势是（ ）

①接近煤炭产地 ②水源较充沛 ③水陆交通便利 ④市场广阔 ⑤廉价劳动力多

- A. ①②③④
- B. ②③④⑤
- C. ①②③⑤
- D. ①②④⑤

3. 德国鲁尔区衰落的主要原因中，不属于受世界工业发展形势影响的是（ ）

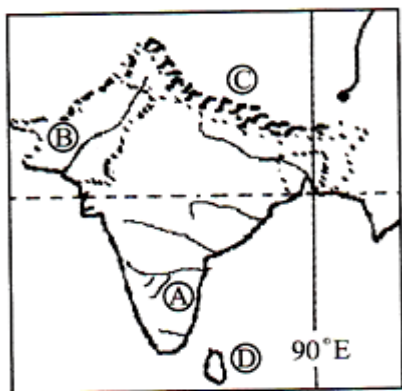
- A. 第三次技术革命的冲击
- B. 世界性钢铁过剩
- C. 煤炭的能源地位下降
- D. 生产结构比较单一

读下图，回答下列各题。



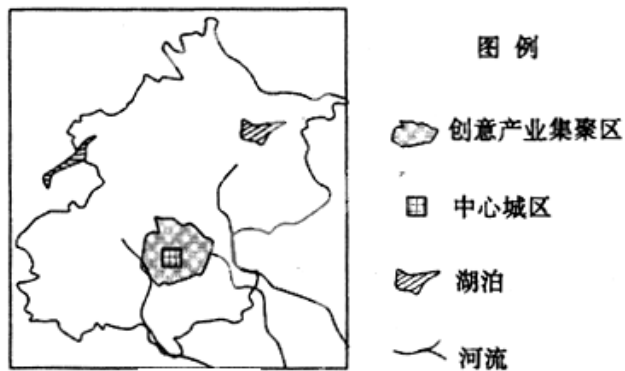
4. 下列关于辽中南工业区钢铁工业，机械制造工业的优势区位因素，说法错误的是()
- A. 丰富的煤铁资源 B. 便利的水陆交通
- C. 资源型缺水严重 D. 良好的农业基础
5. 借鉴鲁尔区综合整治的经验，辽中南工业区发展经济的措施中不可行的是()
- A. 调整工业结构，发展新兴工业和第三产业
- B. 治理环境污染，改善投资环境
- C. 大力发展教育和科技，为企业培养人才
- D. 以重工业为主，发展高耗能产业

读下图, 回答下列各题。



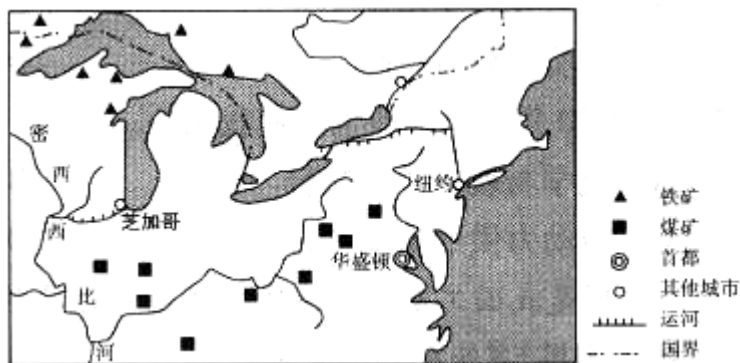
6. B 处的地表主要的自然景观是 ()
- A. 荒漠 B. 森林 C. 草原 D. 沼泽
7. A 处附近的的城市为印度重要的 ()
- A. 钢铁工业城市 B. 新兴工业城市
- C. 毛纺工业中心 D. 棉纺工业中心

创意产业通常包括广告、时尚设计、电影、电视盒广播、数码娱乐音乐、表演艺术、出版业、软件及计算机服务、艺术品和文物交易等。下图是北京市略图。完成下列小题。



8. 北京创意产业分布特点是 ()
- A. 集聚分布在中心城区及其周边
B. 集聚分布在高等院校周边
C. 集聚分布在环境优美、交通便利地区
D. 具有向沿江沿湖分布的趋势
9. 利于北京创意产业集聚区形成的区位优势有 ()
- ①水陆交通便利，网络通讯发达
②历史悠久，文化底蕴深厚
③更加接近市场，快速获取信息
④获得廉价的劳动力，降低运营成本
- A. ①② B. ②③ C. ①④ D. ②④

芝加哥早期是美国的农业城镇。1848 年密西西比河和五大湖之间的运河修通后，迅速成为中西部农产品集散中心城市。随后兴修铁路，发展成为 20 世纪美国最大的钢铁工业基地。读图，回答下列各题。



10. 芝加哥城市的兴起，主导因素是 ()
- A. 位于河流上游 B. 位于五大湖区
C. 位于河湖转运点 D. 位于美国东北部
11. 芝加哥发展钢铁工业的优势区位条件有 ()
- ①煤铁丰富 ②科技发达 ③交通便利 ④水能丰富
- A. ①③ B. ②③ C. ①④ D. ②④
12. 与美国五大湖工业区相似的工业地域是 ()
- A. 沪宁杭工业区 B. 日本环太平洋工业区
C. 辽中南工业区 D. 美国硅谷工业区

13. 有关德国鲁尔工业区衰落原因的叙述，不正确的是 ()

- A. 生产结构单一 B. 煤炭资源枯竭
- C. 钢铁生产过剩 D. 环境污染严重

高新技术是经济增长的重要力量，尤其是高科技成为区域发展的主导力量。回答下列各题。

14. 下列属于高新技术产业区的是（ ）

- A. 日本的九州 B. 美国东北部工业区
- C. 中国东北工业基地 D. 德国的鲁尔工业区

15. 某一地区环境优美，交通便利，高等院校云集，则该地区应优先发展（ ）

- A. 资源密集型工业 B. 劳动密集型工业
- C. 资金密集型工业 D. 技术密集型工业

16. 旧金山“硅谷”与“九州岛、慕尼黑、苏格兰”等高技术工业区比较其发展快的特殊条件是（ ）

- A. 科技力量强 B. 环境优美
- C. 高速交通方便 D. 军事订货多

17. 下列日本工业区中的主要工业部门与德国南部基本一致的是（ ）

- A. 京滨工业区 B. 阪神工业区
- C. 北九州工业区 D. 濑户内海工业区

工业是国民经济的重要产业部门，回答下列各题。

18. 下列属新兴工业区的是

- A. 我国东北工业基地 B. 美国东北部工业区
- C. 英国中部工业区 D. 意大利东北部和中部

19. 20 世纪 50 年代以后，鲁尔工业区开始衰落，下列关于衰落原因的叙述，不正确的是

- A. 生产结构单一 B. 劳动力素质下降
- C. 新技术革命的冲击 D. 石油、天然气的广泛使用

20. 从大气环境保护角度，印度中部工业区大气污染严重的工厂应布局在城市的

- A. 东北和东南 B. 西北和西南 C. 西北和东南 D. 东北和西南

二、综合题

21. 读世界部分农业地域类型分布图，回答问题。



（1）图中阴影部分农业地域类型是_____。其得以发展的优越自然条件有①_____；②_____；③_____；④_____。

（2）C、D 两城市北部的农业地域类型是_____，最主要的原因是该地区_____。

（3）A、B 两城市中降水较多的是_____；其中 A 城市东南部有美国最大的电子工业中心，该类工业的发展首先决定于_____，其次决定于_____和_____。

参考答案

1. B

2. A

3. D

4. C

5. D

6. A

7. B

8. A

9. B

10. C

11. A

12. C

13. B

14. A

15. D

16. D

17. C

18. D

19. B

20. C

21.

(1) 商品谷物农业 气候温和、降水丰富 地势平坦 土壤肥沃 灌溉水源丰富

(2) 乳蓄业 人口城市密集，有广阔的消费市场

(3) A地 科学技术（或科技、知识、人才） 现代化的交通 优美的环境